

2017 国家电网其他类模拟卷

1.商家将儿童节视为赚钱的良机，乃是出于逐利的本能，瞅准了家长的弱点，清楚他们为了孩子甘于“血拼”，这符合商业的竞争法则，_____。可是，家长却应擦亮眼睛，辨清节日消费陷阱，更不能将儿童节当做“血拼节”，为了所谓孩子的快乐就不惜千金。

- A.顺理成章 B.问心无愧 C.无可厚非 D.勉为其难

2.对于官员财产公开，任何一个地方“_____”的勇气都应当被肯定。不过，仍希望有更完整、配套以及全局性的官员财产公开办法出台，以形成对这一制度的真正推动。

填入划横线部分最恰当的一项是：

- A.试水 B.试验 C.破冰 D.尝试

3.中国古代史籍把黄帝和炎帝时期作为中国历史的_____，但是古代文献中对黄帝、炎帝乃至尧舜禹时期的记述均为后代文献的_____，一般认为都属古史传说的范畴，不能作为信史来_____中华文明五千年。

- A.起源 追忆 验证 B.发端 补记 考证
C.肇始 追述 证明 D.滥觞 补充 考据

4.（1）据朝鲜媒体报道，其导弹已处于发射待命状态，已经锁定_____的目标坐标，只需一按键就可发射。

（2）“别看我上了年纪，心态可是_____着呢！”

（3）第十届中国艺术节在注重惠民、创新、交流和参与性的基础上，更_____节俭办节的原则，所有的演出者都是来自全国各地的群众。

填入划横线部分最恰当的一项是：

- A.精确 年青 遵从 B.精确 年轻 强调
C.精准 年青 遵从 D.精准 年轻 强调

5.值得肯定的是，与铁路货运改革方案相配套的机构改革、资源整合、人员转岗，已在全国各个铁路局推行，反响良好，说明这第一步迈得不错。然而，与其他改革一样，铁路改革不会_____，更难_____。在推进改革、赢得市场的同时，防止内部恶性竞争，防范运输安全事故，既是铁路应汲取的历史教训，也是新一轮改革路上的重大考验。

填入划横线部分最恰当的一项是：

- A.一步到位 一蹴而就 B.一路顺风 一举成功
C.顺风顺水 一步登天 D.一帆风顺 一蹴而就

6.下面空格处应该依次填入的词语，最恰当的是_____。

①因自然气候的变迁、无序的放垦、环境的污染和一些人为的因素，鄂尔多斯生态环境遭受到严重破坏，这个曾经水草丰美、“风吹草地见牛羊”的富庶之地，其羊绒的品质近年来也在_____。

②一年一度的端午节，各地的民间习俗同多于异，如悬挂菖蒲艾草、佩香囊、赛龙舟、涂雄黄饮雄黄酒，吃咸蛋吃粽子、尝时令鲜果等，据说这些传统活动可以_____百病。

A.蜕化 祛除 B.退化 祛除 C.退化 驱除 D.蜕化 驱除

7. (1) 在这次关于解决城市雾霾天气的讨论会上, 他习惯从大的方面思考, 而我希望从具体方法和措施着手, 谈不到一块儿去, 甚至有些_____。

(2) 在房产税尚未_____之际, 两派观点的代言者也纷纷浮出水面。比如一向以犀利著称的经济学家郎咸平, 对于房产税的征收就摆出一副抵制到底的态度。

(3) 空谈误国, 实干兴邦。要保持社会经济良好的发展态势, 就必须力戒浮躁心态, 坚决反对_____, 而应大力发扬求真务实的精神。

填入划横线部分最恰当的一项是:

A.南辕北辙 尘埃落定 坐而论道
B.风马牛不相及 众口一词 形式主义
C.文不对题 拨云见日 夸夸其谈
D.对牛弹琴 异口同声 纸上谈兵

8. 及时纠偏, _____纠错, 不仅体现一个社会的集体智慧, 也是一个国家理性力量的表现。就像当初, 如能认识到人口问题的严重性, 今天解决人口超负荷的难度就会低得多。因此, 从及时纠错的现代理性角度看, 适度容忍不同声音是相当必要的, 多元价值的重要意义之一便是达到某种_____, 以免在一个方向上走得太远而使纠错成本过大。

依次填入划横线部分最恰当的一项是:

A.尽早 制衡 B.彻底 均衡
C.公开 均势 D.坦诚 和谐

9. 对于一个经历过贫困童年的富翁来说, 他的消费行为有时显得_____。对于大金额的支出, 他会随随便便, 甚至显得有些铺张浪费; 而对于小金额的支出, 他则不得不与自己_____的吝啬性作斗争。

依次填入划横线部分最恰当的一项是:

A.变幻莫测 积重难返 B.出人意料 与生俱来
C.反复无常 根深蒂固 D.不可思议 始终如一

10. 一个民族的文化与精神的健康发展, 最重要的标志就是敢于并善于_____所有优秀的文化, 如我们常常讲, 大唐时代长安流行胡乐, 并没有使我们的文化出现_____。

依次填入划横线部分最恰当的一项是:

A.吸收 断裂 B.接纳 蜕变
C.借鉴 浮躁 D.融合 停滞

11. 中国的一年四季, 季季都令人神往, 春日_____, 夏天绿荫满枝, 秋时_____, 冬季银装素裹。

依次填入划横线部分最恰当的一项是:

A.姹紫嫣红 硕果累累 B.风光旖旎 充实丰盈
C.生机勃勃 琳琅满目 D.婀娜多姿 五谷丰登

12.中国古代官员普遍好读书，这是一个悠久的良性传统。在古代，官员的读书是_____的现象，大凡为官一生，“致仕”（退休）时一般也要“刻部稿”，企盼给后世留下一点_____。

依次填入划横线部分最恰当的一项是：

- A.广泛性 流风余韵 B.社会化 前车之鉴
C.持续性 雪泥鸿爪 D.官场化 星星之火

13.交流是复杂的艺术，有声语言并不是表达意义的唯一方式，辅以动作和面部表情，可以使表达生动形象，也折射出历史和文化智慧的光芒。各民族间的形体语言，有的形式和意义相同（如握手致意），有的虽然形式相同，意义却_____。如果不能正确解读就可能产生误会，甚至引起严重的后果。

填入划横线部分最恰当的一项是：

- A.南辕北辙 B.针锋相对 C.截然相反 D.纷繁复杂

14.从统计学角度看，用平均数指标反映趋势虽精确敏感，但也有其致命弱点，尤其是平均数的“_____”，很容易掩盖个体之间的差异。

填入划横线部分最恰当的一项是：

- A.以管窥天 B.削峰填谷 C.大而化之 D.等量齐观

15.对生命价值的认同度越高，社会对灾难的敏感度就会越高，五年前汶川地震的隐痛未消，所以芦山地震刚一发生，人们无法判断灾情大小，众多媒体人第一时间赶赴灾区，体现的正是媒体的责任和担当。正是媒体的及时详细报道，让灾情透明地呈现在人们面前。不能因为事后看起来灾情不如汶川地震那么严重，就认为舆论反应过度了。

作者想要说明的是：

- A.媒体对灾情的关注度不应取决于灾情的大小
B.芦山地震灾情因媒体的积极跟进而透明
C.媒体对芦山地震的高度关注来自职业敏感
D.媒体对芦山地震的反应没有过度

16.人骑自行车，两脚使劲踩 1 小时只能跑 10 公里左右；人开汽车，一脚轻踩油门 1 小时，能跑 100 公里；人坐高铁，闭上眼睛 1 小时也能跑 300 公里；人乘飞机，吃着美味 1 小时能跑 1000 公里。

这段文字给我们的启示是：

- A.不同的工具有不同的服务效率
B.良好的环境和条件是一个人成功的必要条件
C.应该大力发展现代交通工具
D.一个人的发展平台不同，结果也可能不同

17.中国各行业的“德”如今都多少出了问题，除了官德频遭批评外，医德是行业道德中饱受诟病者之一。全国有 200 多万医师，针对他们的职业道德的标准既很容易列出来，又有很多强大的现实因素有可能把它们变成贴在墙上的一张纸。行业的普遍道德问题往往有着深刻的原因，在一个行业开展“教育”，通常要比惩罚它的个别败坏分子难得多。

对“把它们变成贴在墙上的一张纸”理解正确的是：

- A.对医师职业道德的监督知易行难

- B.医师职业道德标准成为一纸空文
- C.作为管理制度，医师职业道德标准要上墙
- D.医生职业道德标准制度化

18.所谓宽容乃是说已成势力对于新兴流派的态度，正如壮年人的听任青年的活动；其重要的根据，在于活动变化是生命的本质，无论流派怎么不同，但同样注重个性的发展，现象上或是反抗，在全体上实是继续，所以应该宽容，听其自由发育。

关于“宽容”，这段话没有提及的内容是：

- A.宽容乃是已成势力对于新兴流派的态度
- B.宽容正如壮年人的听任青年的活动
- C.宽容的根据在于活动变化是生命的本质
- D.宽容始终是新兴流派对于已成势力的反抗

19.虽然在刊物上时有应用辨证方法治疗癌症有效的报道，但大多数是在以西医疗法主导的前提下取得的，还有少数尽管是单靠中医而治愈的，但重复使用该法却不能取得更多的相同病例同样有效的验证，因而也都不具有普遍性意义。

这段话主要讨论的是：

- A.中医辨证治疗癌症有一定效果
- B.中医治疗癌症的效果还得不到有效证实
- C.中医也能治疗癌症
- D.治疗癌症时中医和西医各有所长

20.许多关于人不借助外力能够漂浮起来的断言，几百年前就已经有了。但是，那些作此断言的人，只要不是在欺骗的条件下，从来就没有达到过十五英尺的高度。如果漂浮起来是可能的，那么，其科学意义，甚至更广泛地说，它对人类的意义将是极其巨大的。然而，那些不加批判的观察，或提出不诚实主张的人，会把人们引入歧途，并使我们偏离理解世界这一人类的主要目标。

在这段话中，作者对于“关于人不借助外力能够漂浮起来的断言”的态度是：

- A.肯定
- B.否定
- C.欣赏
- D.赞美

21.要确保“三公”经费公开不走过场，除了希望各地严格落实中央精神外，不妨总结过去一年来的“地方经验”，出台更明确的奖惩制度，对“三公”经费公开范围和公开方式作出统一规范，防止信息的失真，同时让民众看得懂。

对文段的核心观点总结正确的是：

- A.目前已公开的“三公”经费信息大多模糊、失真
- B.目前的“三公”经费公开是在认认真真走过场
- C.要对“三公”经费公开实行规范化和制度化
- D.地方政府的“三公”经费公开经验值得中央政府借鉴

22.中国人民正在为实现中华民族伟大复兴的中国梦而奋斗。实现中国梦，是物质文明和精神文明均衡发展、相互促进的结果，没有文明的继承和发展，没有文化的弘扬和繁荣，就没有中国梦的实现。实

现中国梦，是物质文明和精神文明比翼双飞的发展过程。随着中国经济社会不断发展，中华文明也必将顺应时代发展焕发出更加蓬勃的生命力。

最适合做这段文字标题的是：

- A.为实现中国梦而奋斗
- B.伟大复兴的中国梦
- C.中国人民与中国梦
- D.中华民族的梦想

23.新石器时代的基本标志是农业和畜牧业的产生和磨制石器、陶器与纺织术的出现，人类已由完全依赖自然赐予的采集经济过渡到改造自然的生产经济。社会发展也经历了从母系氏族到父系氏族制的繁荣，在新石器晚期已呈现出氏族公社走向崩溃、私有财产与阶级分化萌芽发展的趋势。

上述这段话可以概括为：

- A.新石器时代出现了社会分工和阶级分化
- B.新石器时代出现了经济转型和社会转型
- C.经济和社会发展的某些特征是新石器时代的标志
- D.私有财产与阶级分化萌芽是新石器时代崩溃的标志

24.阅读同看电影、看录像、听音乐会会有很大不同。后者是一块巨大的生日蛋糕，可以美味地共享；而前者只是孤灯下的一盏清茶，只可独啜，仿佛倾听一个遥远的灵魂对你一个人窃窃私语，他在不同的时间对不同的人说过同样的话，但此时你感觉他只在为你而歌唱。

对这段文字概括最恰当的是：

- A.在阅读中最能体验孤独的滋味
- B.阅读的收获难以与人分享
- C.阅读的乐趣来源于内心的体会
- D.阅读的魅力需独自品味

25.井盖夺命事件在多个城市发生，白岩松在节目中质问：难道这样一件事也需要总理来管吗？问得好！往再深一层说，中央或者国务院的确管不了那么多井盖或者类似的事儿，但管得了管井盖类似事儿的层层官员，一定要让撤职和任职一样成为常态，谁该管没管就撤谁，永不再用。

作者最想表达的观点是：

- A.中央领导和部门应严查井盖夺命事件责任人
- B.井盖管理问责应该成为常态
- C.城市公共设施管理问责应该常态化
- D.井盖夺命事件中国家管理层负有追责责任

26.“中国式过马路”引发了“国人素质差”的论调。但事实上，中国式路权分配中，行人等待红灯的时间过长是一大问题。经研究，英国行人可忍受等待时间为45~60秒，德国人的忍耐限度是60秒，杭州行人可忍受等待时间为70~90秒。相关调查显示，杭州市区红灯时长普遍超过100秒，最长达145秒；在京沪等一线城市行人过街等待时间超过120秒甚至180秒。2010年上海最牛交警英文怒斥外国人闯红灯的视频红遍网络，可见，在中国的这种交通管理制度下，被公认为素质高的外国人也会无视红灯，来一把“中国式过马路”。

对文段的语意理解不恰当的一项是：

- A.对于一些社会现象,仅从道德角度进行评判过于武断
- B.中国式交通管理制度造成国人素质差的问题,亟待改善
- C.国人素质差的论调有失公允,要客观、科学分析再下结论
- D.等红灯时间过长是引发“中国式过马路”最直接的原因

27.如果能够做好南极生态环境的承受力评估,并严格执行有关规定,南极旅游造成的生态影响就可以得到有效控制。因为与南极大陆极为广袤的地域相比,游客活动的地域仅为总面积的3%左右。而如何管理好长期设在南极的科考站,才是更为棘手的问题,尤其是一些被废弃的科考站,已对南极生态环境造成了新的威胁。

这段文字意在强调:

- A.南极生态环境评估的意义
- B.南极生态旅游的发展前景
- C.南极生态环境管理机制的必要性
- D.南极科考站对当地生态环境的影响

28.1996年,意大利帕尔马的脑科学研究人员发现,在猴子大脑里存在一种特殊的细胞,叫镜像神经元。让猴子看到或听到一个动作,当它自己做这一动作时,这些细胞会兴奋。后来的研究证明,人脑中也有这种镜像神经元,能够感受对方的害怕和愤怒、难过和恶心;复杂的感受如害羞、孤独和不喜欢,也都能够通过镜像神经元明显地感受到。当我们看到别人的表情或者经历过的情感状态,镜像神经元就会被激活,让我们体验到他人的感受,走进别人的情感世界。

最适合做这段文字标题的是:

- A.“同情”的魔力
- B.何谓神经元
- C.脑科学的新发现
- D.“爱”的潜在根源

29.下列各句中,没有语病的一项是:

- A.北京的雾霾天气持续了近一个月,中国机动车污染防治委员会副主任说,政府的当务之急就是在控制好那些尾气超标数十倍的车辆
- B.今年仍是“民生改善年”,我市八个调研组分别深入到各区县、社区和居民家中,听取群众意见,充实、完善和修改为民办实事的具体方案
- C.面对每逢节日快递运力紧张的局面,我国快递业应尽快提高从业人员的本地化比例,将采用加盟模式的民营快递企业转型为自营为主的模式
- D.正如远缘杂交可培育出品质更为优秀的后代一样,表面上隔行如隔山的不同专业、不同学科的交流,往往能撞击出天才的思想火花

30.下列各句中没有语病的一句是:

- A.自今年3月中国铁路总公司成立以来,中国铁路去向何处?备受关注
- B.景德镇,作为曾以自己“千年瓷都”的身份为傲的城市,景德镇的家家户户几乎都有人从事着和陶瓷相关的工作
- C.让人感到意外的是,“购票令”已经名存实亡,不少游客无须买票也可入城,记者进出多个“关卡”均未受到阻拦

D.公众之所以对机场建设费反感，既是因为重复收费没有依据，还因为信息不透明下，机场建设费的使用多处于模糊不清的状态，这就难免被指其中有灰色成分

31.目前，我国正在进行文化体制改革与经济结构调整，发展文化经济有助于经济结构调整。换言之，_____。文化发展了，经济也就转型升级了，文化份额的增加和文化产品质量的提高对一个国家和地区经济的转型升级有巨大的直接作用。

填入上文空白处的语句，衔接最好的一项是：

- A.加快我国经济转型升级，应当多从文化上寻找出路
- B.文化经济在经济结构中处于重中之重的地位
- C.经济结构决定文化发展，文化产业促进经济进步
- D.发展文化经济是调整 and 改革我国经济结构的前提

32.依次填入下面一段文字横线处的语句，衔接最恰当的一项是：

中国梦不同于美国梦。_____，_____，_____，_____，_____，_____。历史告诉我们，每个人的前途命运都与国家和民族的前途命运紧密相连。个人的梦想要在国家和民族的梦想中实现。

- ①我们中国人不仅关心自己
- ②我们不仅追求个人的成功
- ③还以仁待人，心怀天下，崇尚个人价值与社会价值的高度和谐
- ④更要实现中华民族的伟大复兴
- ⑤美国梦是强调一个人只要辛勤工作就能有体面的生活，实现自己的理想
- ⑥有着强烈的集体主义倾向

- A.⑤②④①③⑥
- B.①③⑥②④⑤
- C.⑤①③⑥②④
- D.①④②③⑥⑤

33.①第一本防水平装书还将拥有强大的防伪功能

②澳大利亚的银行现在已经使用该项技术来延长纸币的使用寿命，同时减少伪造的风险

③英国出版商近日透露，世界上第一本防水平装书有望明年夏天上架销售

④书的外面还有一层防撕毁的坚韧的聚合物涂层，整本书的架上寿命可以由此增加两倍

⑤据了解，防水平装书将采用先进的防水技术，外面包裹透明的蜡封，这样即便书潮湿了，字迹也不会模糊，书页也不会损毁

⑥这将是此技术首次应用于普通平装书。目前，只有专业的潜水用书可以做到完全防水

将以上 6 个句子重新排列，语序正确的是：

- A.③⑤④⑥①②
- B.③①②⑤④⑥
- C.⑤①②④⑥③
- D.⑤④⑥②①③

34.农村孩子不易跃“龙门”，症结在于_____。农村孩子从幼儿园、小学到初中，一开始就输在起跑线上。这些年，教育投入越来越给力，但教育嫌贫爱富的现象依然存在，越是大城市和名校，投入越多，动辄花上亿元建设超级中学，优质教育资源集中到少数学校，而一些农村学校却成了被

忽略的大多数，不少孩子仍在危房里上课，农村孩子入学率、升学率和受教育程度远低于城市。一步落后，步步落后，再加上一些招生制度的影响，农村孩子难跟城里孩子比拼，失去了上更好大学的机会。

填在横线处最恰当的一项是：

- A.城乡经济发展水平的不均衡 B.农村孩子上更好大学的机会少
C.城乡教育资源不均衡 D.农村孩子输在起跑线上

35.①因此，生态红线不能触碰，否则就会受到大自然的惩罚，影响人类社会的持续发展

②生态红线是指生态系统在发展演进中生态平衡被打破，导致生态系统衰退甚至崩溃的临界状态

③在生态红线面前，任何破坏生态环境的行为都必须停止

④生态红线是保证生态安全的底线，具有约束性和强制性

⑤生态作为生物在一定的自然环境下生存和发展的状态，是一个不断发展演进的系统

⑥生态红线一旦被突破，以后即使投入大量的人力、财力、物力，生态平衡也往往难以恢复原状

将以上 6 个句子重新排列，语序正确的是：

- A.②④⑤⑥①③ B.②③④⑥⑤①
C.⑤②①④③⑥ D.⑤②④③⑥①

36. 8, 4, 8, 10, 14, ()

- A.22 B.20 C.19 D.24

37. 7, 24, 42, 63, 89, ()

- A.93 B.97 C.122 D.137

38. $\frac{3}{2}$, $\sqrt{5}$, π , 4.8, 2.3^2 , ()

- A.5.9 B.1.8³ C.6.5 D.7.8

39. -2, -1, 2, -2, (), 8

- A.1 B.-1 C.4 D.-4

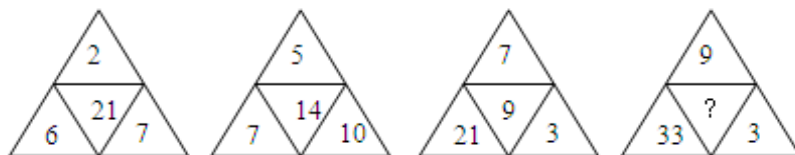
40. 23, 31, 44, 52, 66, ()

- A.80 B.84 C.72 D.74

41. 0, 5, 8, 17, 24, (), 48

- A.35 B.36 C.37 D.38

42.



- A.2 B.8 C.11 D.5

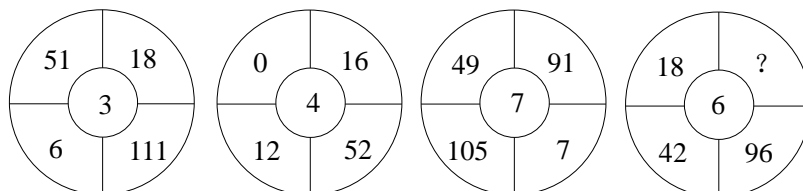
43.

3	6	9
---	---	---

4	?	7
10	5	3

- A.12 B.8 C.7 D.2

44.



- A.121 B.108 C.86 D.75

45.有 100 人参加运动会的三个比赛项目，每人至少参加一项，其中未参加跳远的有 50 人，未参加跳高的有 60 人，未参加赛跑的有 70 人。那么至少有（ ）人参加了不止一个项目的比赛。

- A.7 B.10 C.15 D.20

46.两人参加竞赛，甲做错了总数的 $\frac{1}{3}$ ，乙做错了 6 道题，两人都做错了总数的 $\frac{1}{5}$ ，问：两人都做对的题有（ ）道。

- A.5 B.6 C.7 D.8

47.用数字 0、1、2（既可全用也可不全用）组成的非零自然数，按从小到大排列，问“1010”排在第几个？

- A.30 个 B.31 个 C.32 个 D.33 个

48.如 $x \times \frac{3}{4} = y \times \frac{4}{5} = z \times \frac{5}{6}$ ，(xyz 均大于 0)，那么：

- A. $x > y > z$ B. $y > x > z$
C. $z > y > x$ D. $z > x > y$

49.规定两组数{a, b}和{c, d}的某种“乘法” \otimes 为：{a, b} \otimes {c, d}={3a-c, b+d}。如果{x, y} \otimes {3, 2}-{3, 2}=0，那么{x, y} \otimes {y, x}=（ ）。

- A.{6, 2} B.{1, 3} C.{3, 1} D.{2, 3}

50.一只自动开关的电灯，早上六点整开灯，然后整数分钟后关闭，关闭时间是开灯时间的 3 倍，再又重新开启，开、关自动进行周期性的循环，每一循环开关时间都一样。在早上 6 点 11 分以前 5 秒是关的，在上午 9 点 5 分以后 5 秒是开的，上午 10 点 15 分也是开的。那么上午 11 点后第一次由关转成开是：

- A.11:10 B.11:24 C.11:30 D.11:35

51.将 512 个体积为 1 立方厘米的小立方体，合成一个棱长为 8 厘米的大立方体，并在大立方体的六面分别刷上不同的颜色，再分开为原来的小立方体，则被刷上两种不同颜色的小立方体的数目是（ ）个。

- A.72 B.80 C.88 D.96

52.相邻的4个车位中停放了4辆不同的车,现将所有车开出后再重新停入这4个车位,要求所有车都不得停在原来的车位中,则一共有多少种不同的停放方式?

- A.9 B.12 C.14 D.16

53.施工队要在一东西长600米的礼堂顶部沿东西方向安装一排吊灯,根据施工要求,必须在距西墙375米处安装一盏,并且各吊灯在东西墙之间均匀排列(墙角不能装灯)。该施工队至少需要安装多少盏吊灯?

- A.6 B.7 C.8 D.9

54.某单位200名青年职工中,党员的比例高于80%,低于81%,其中党龄最长的10年,最短的1年。问该单位至少有多少名青年职工是在同一年入党的?

- A.14 B.15 C.16 D.17

55.甲、乙两厂生产同一种汽车,甲厂每月产量保持不变,乙厂每月产量翻番。已知第1个月甲、乙两厂共生产88辆汽车,第2个月甲、乙两厂共生产96辆汽车。那么乙厂每月产量第一次超过甲厂是在第()个月。

- A.4 B.5 C.6 D.7

56.一块合金净重200克,用线吊住全部浸没在水里称重为180克。已知合金包含甲、乙两种金属,由于浮力的作用甲金属在水里减轻 $\frac{1}{11}$ 的重量,乙金属在水里减轻 $\frac{1}{9}$ 的重量。则此块合金中包含的甲、乙金属的重量相差()克。

- A.10 B.20 C.30 D.40

57.甲与乙同时从A地出发匀速跑向B地,跑完全程分别用3小时和4小时。下午4点时,甲正好位于乙和B地之间的中点上。问两人是下午什么时候出发的?

- A.1点24分 B.1点30分 C.1点36分 D.1点42分

58.有关执法人员在检验节日市场供应时发现,一家超市出售的速冻水饺有缺斤短两的问题,如果售货员将一袋袋的水饺摆成10堆,其中9堆是合格的,每袋500克;一堆是份量不足的,每袋450克,从外形上看,分不出哪一堆是450克装的,执法人员最少称几次才可发现份量不足的那一堆?

- A.1次 B.2次 C.3次 D.4次

59.计算 $123456787654321 \times (1+2+3+4+5+6+7+8+7+6+5+4+3+2+1)$ 的结果等于自然数()的平方。

- A.44444444 B.66666666 C.77777777 D.88888888

60.有底面积不同的大、中、小3个瓶子,最多分别可装入水1000克、700克和300克。现在大瓶中装满水,希望通过水在3个瓶子间的流动使得中瓶和小瓶上标出装100克水的刻度线,问最少要倒几次水?

- A.4 B.5 C.6 D.7

61.规定如下运算法则: $x \triangle y = x - y \div 2$ 。根据该运算法则,($7 \triangle 10$) $\triangle 4$ 的值为:

- A.3 B.2 C.1 D.0

62.某工厂的两个车间共有120名工人,每名工人每天生产15件设备。如果将乙车间工人的 $\frac{1}{3}$ 调到

甲车间，则甲车间每天生产的设备数将比乙车间多 120 件。问原来乙车间比甲车间多多少人？

- A.12 B.24 C.36 D.48

63.假设一条路上每隔 10 公里就有一个自然村，共有 5 个自然村，依次在一至五号这 5 个自然村收购粮食重量分别为 10 吨、15 吨、20 吨、25 吨、30 吨；现要选一自然村设立临时粮站来贮存粮食，已知每吨粮食运输费为 0.5 元/公里。要让运输费用最少，则临时粮站应选在：

- A.五号 B.四号 C.三号 D.二号

64.一台计算机感染了病毒，在计算机的存储器里，从 2 到 9 的每一个数 x 都被 $1+2+\cdots+x$ 这个和替代，例如 2 被 3 ($3=1+2$) 代替，5 被 15 ($15=1+2+3+4+5$) 代替，计算机的其他功能都正常。如果计算 $1+3+5$ ，计算机显示的结果是：

- A.9 B.15 C.22 D.25

65.图中“趣”“味”代表数字，则这两个数字差多少？

$$\begin{array}{r} 2 \text{ 趣} \\ + \text{趣 味} \\ \hline 8 \quad 1 \end{array}$$

- A.1 B.2 C.30 D.5

66.根据规定，所有有关国家机密和个人隐私的案件都不公开审理。

据此我们可以推出：

- A.不公开审理的案件都是有关国家机密和个人隐私的案件
B.公开审理的案件都不是有关国家机密和个人隐私的案件
C.某些有关国家机密和个人隐私的案件可以公开审理
D.不涉及国家机密和个人隐私的案件都公开审理

67.电动汽车因为节能、环保，被誉为是未来汽车发展的方向，许多国家都在大力发展电动汽车产业。

然而，某国对此并不热衷，没有出台相关的产业扶持政策。

以下不能支持该国做法的一项是：

- A.石油产业是该国的支柱产业 B.该国的电能较为紧张
C.电动汽车技术已经成熟 D.该国燃油发动机制造水平世界领先

68.体育馆内正在进行一场乒乓球双打比赛，观众议论双方运动员甲乙丙丁的年龄：

- (1) 甲比他的伙伴大
(2) 乙比甲大
(3) 丙比他的两个对手的年龄都大
(4) 甲与乙的年龄差距比丙与丁的差距更大些

据此可以得出甲乙丙丁的年龄从大到小的顺序是：

- A.甲丙乙丁 B.丙乙甲丁 C.乙甲丁丙 D.乙丙甲丁

69. 尽管人们急需更好的新型药物来治疗神经退行类疾病，但对大型制药公司来说，研发相关药物却过于复杂和昂贵，花费数百万美元的研发随时可能失败，投资风险巨大。因此，不能指望大型制药公司会投资研发治疗神经退行类疾病的药物。

以下哪项为真，最能够反驳上述推理？

- A. 大部分神经退行类疾病不具备传染性，而且对生命的危害是缓慢、长期的
- B. 癌症药物的研发成本和复杂度是所有药物研发中最高的，但很多大型制药公司依然对此大力投入
- C. 尽管目前部分神经退行类疾病可以通过非药物方式治疗，但治疗方式非常残酷，容易对病人造成永久性伤害
- D. 一般药物的研发周期平均只需要 1.2 年，而神经退行类药物的研发周期却长达 6 至 10 年

70. 1990 年元月全国社会商品销售总额比上年同期增长 1.3%。彩色电视机销售量增加，服装基本持平，录音机、电冰箱等产品有不同程度的下降。我们应考虑到一个事实：1989 年的春节在 2 月，而 1990 年的春节和元旦均在元月。我们知道，春节是中国人最看重的节日，也是一年中的消费高峰。

因此，我们可以推论，至 1990 年元月底：

- A. 我国的市场销售状况尚没有出现明显的好转
- B. 我们在控制物价上涨方面已经取得了一定的成效
- C. 我国的“市场疲软”状况已经出现了明显的转机
- D. 我国经济的“通货膨胀”问题还未得到有效的解决

71. 因为青少年缺乏判断力，容易模仿可参照的学习对象，所以必须对青少年影视、书籍、网络等进行附加限制，近年来就有多篇新闻报道过青少年模仿影视情节，造成人身伤害的事例，在这点上应当吸取教训。

以下哪项为真，最能支持上述论断？

- A. 青少年暴力模仿对象主要来自于家庭和同辈群体
- B. 对影视进行分级，对青少年观影进行指导，有效降低了青少年犯罪率
- C. 青少年暴力行为与当年最红的影视作品中主人公的行为一样
- D. 与其他人相比，青少年更容易模仿影视情节

72. 在同一侧的房号为 1、2、3、4 的四间房里，分别住着来自韩国、法国、英国和德国的四位专家。有一位记者前来采访他们：

- ① 韩国人说：“我的房号大于德国人，且我不会说外语，也无法和邻居交流”；
- ② 法国人说：“我会说德语，但我却无法和我的邻居交流”；
- ③ 英国人说：“我会说韩语，但我只可以和一个邻居交流”；
- ④ 德国人说：“我会说我们这四个国家的语言”。

那么，按照房号从小到大排，房间里住的人的国籍依次是：

- A. 英国—德国—韩国—法国
- B. 法国—英国—德国—韩国
- C. 德国—英国—法国—韩国
- D. 德国—英国—韩国—法国

73.类胡萝卜素被人体吸收后具有较强的抗痛功能。研究表明,蔬菜被煮过后,植物的细胞膜会软化,这使得其中的类胡萝卜素更易于被人体吸收。生食蔬菜,人体只能吸收 3%至 4%的类胡萝卜素,而对煮过的蔬菜中的类胡萝卜素,人体对其吸收率可增加 45%。

由此可见:

- A.食用煮过的蔬菜比食用生蔬菜更有助于抗痛
- B.经常吃胡萝卜的人不可能患癌症
- C.蔬菜被煮过后,其类胡萝卜素的含量会增加
- D.凡癌症患者平时都不爱吃蔬菜

74.如今的音像市场上,正版的激光唱盘和影视盘销售不佳,而盗版的激光唱盘和影视盘却屡禁不止,销售非常火爆。有的分析人员认为,这主要是因为价格上盗版盘更有优势,所以在市场上更有活力。

以下哪项是这位分析人员在分析中隐含的假定?

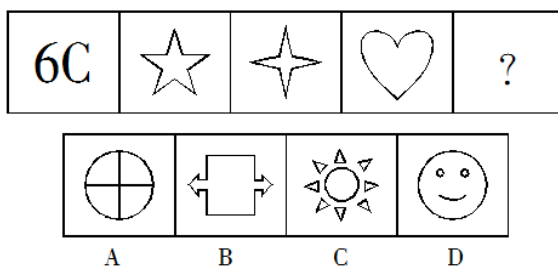
- A.正版的激光唱盘和影视盘往往内容呆板,不适应市场的需要
- B.与价格的差别相比,正版盗版质量差别不大
- C.知识产权保护对盗版盘的打击使得盗版盘的价格上涨
- D.盗版的激光唱盘和影视盘比正版的盘进货渠道畅通

75.有报告指出,今年上半年,国内手机累计销售超过 6000 万部,其中国产品牌手机共销售 2800 万部。因此有媒体判断国产手机复苏了。

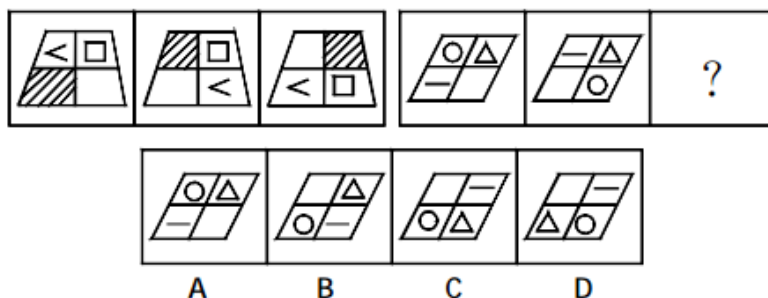
以下哪一选项如果为真,将有力地支持上述判断?

- A.手机销量统计不包括水货手机,而水货手机的销量巨大
- B.今年上半年,国家采取措施,限制国外品牌手机进入中国市场
- C.今年下半年,国产手机销量远高于其他品牌手机,并继续保持这一势头
- D.手机销量是依据进网许可证发放数量来统计的,但这些手机可能并未全部进入用户手中

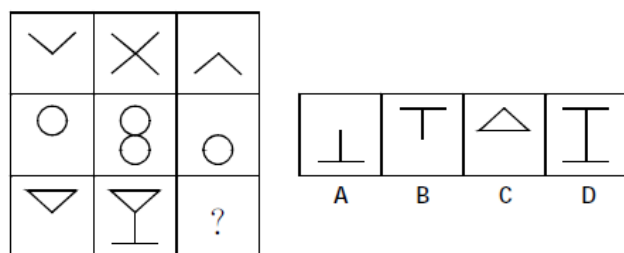
76. 从所给的四个选项中,选择最合适的一个填入问号处,使之呈现一定的规律性。



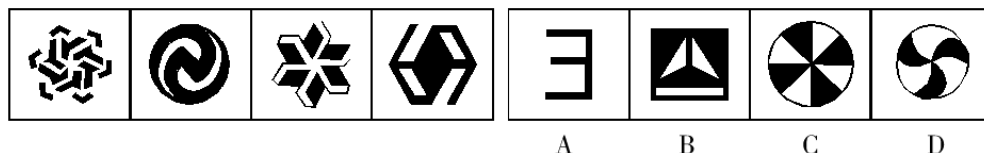
77. 从所给的四个选项中,选择最合适的一个填入问号处,使之呈现一定的规律性。



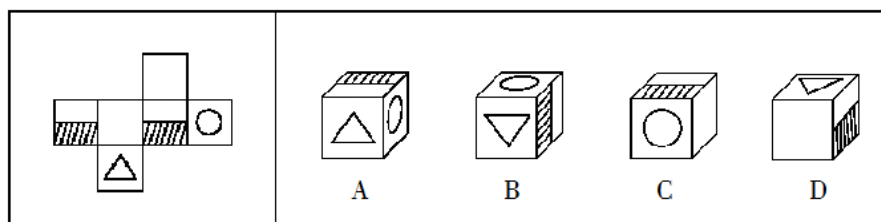
78. 从所给的四个选项中，选择最合适的一个填入问号处，使之呈现一定的规律性。



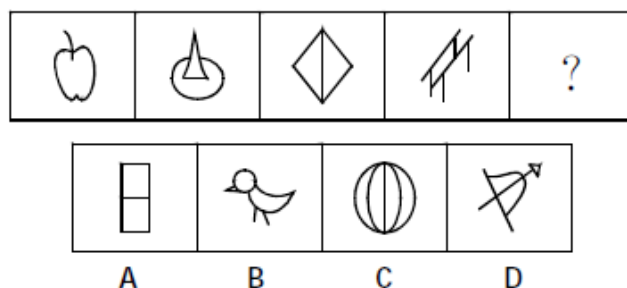
79. 从所给的四个选项中，选择最合适的一个填入问号处，使之呈现一定的规律性。



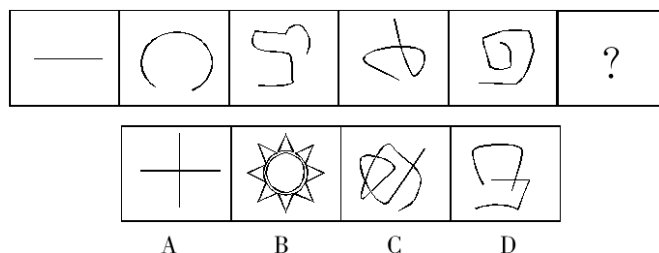
80. 左边给定的是纸盒的外表面，右边哪一项能由它折叠而成？



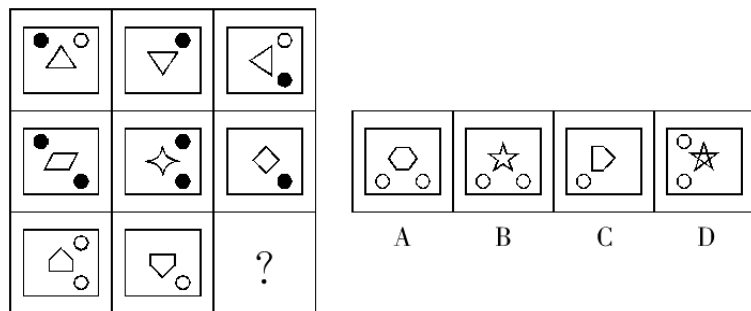
81. 从所给的四个选项中，选择最合适的一个填入问号处，使之呈现一定的规律性。



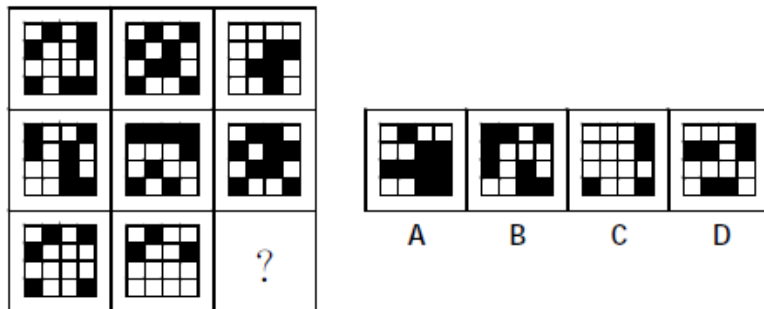
82. 从所给的四个选项中，选择最合适的一个填入问号处，使之呈现一定的规律性。



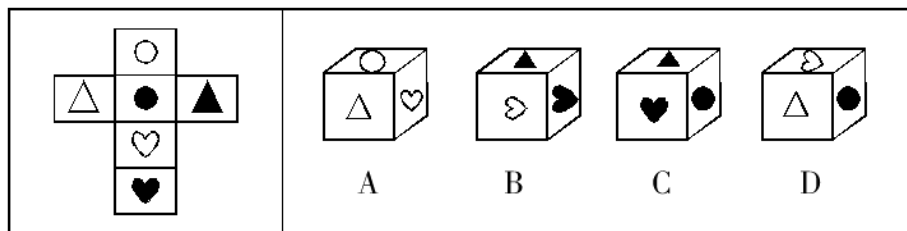
83. 从所给的四个选项中，选择最合适的一个填入问号处，使之呈现一定的规律性。



84. 从所给的四个选项中，选择最合适的一个填入问号处，使之呈现一定的规律性。



85. 左边给定的是纸盒的外表面，下面哪一项能由它折叠而成？



86. 直觉思维是指行为步骤和思维过程不明确、不清晰，对某些现象或者问题直接地迅速地作出某些猜想、假设或判断的思维。

下面哪一个是典型的直觉思维？

- A. 公安刑警根据收集到的证据，对案件进行分析
- B. 军事指挥员根据侦察兵的情报材料作出军事决策
- C. 根据所学过的知识解答考试时的难题
- D. 医生根据病人的口述材料，迅速地作出疾病的诊断

87. 所谓诬告陷害罪是指捏造事实诬告陷害他人，意图使他人受刑事追究，情节严重的行为。

根据上述定义，下列行为构成诬告陷害罪的是：

- A. 乙捏造“文某强奸幼女”的事实，并向司法部门举报
- B. 甲与丁某长期不和，便捏造丁某包养情人并匿名举报，使丁某与妻子离婚
- C. 丙捏造同事万某受贿 10 万元的事实，并印刷大量传单在县城的大街小巷张贴
- D. 丁匿名举报李某抢劫他人 50 万元。事后查明，李某只抢劫了 5000 元

88. 犯罪的间接故意是指行为人明知自己的行为可能发生危害社会的结果，并且放任这种结果发生的心理态度。

下列属于犯罪的间接故意的是：

A.甲欲毒杀同事乙，于是在大家共同喝水的饮水机中投毒，乙当天并未从饮水机中取水，但却导致其他三位同事中毒

B.甲欲枪杀乙，在乙家门口伏击，只击中了乙的胳膊

C.出租车司机甲与朋友吃饭时多喝了几杯，但是凭借自己多年的驾驶经验，甲认为不会有什么问题，于是不顾朋友劝阻执意出车，结果撞死了行人乙

D.某医院护士甲将病人乙和丙的药物弄混，到了给乙用药的时间，甲没有仔细核对就拿起应该给丙服用的药物给乙服用，结果因药性不对导致乙死亡

89.亚健康是对生物有机体生理机能状态的一种描述，一般指生理机能处于健康与疾病之间的状态。由健康过渡到疾病需要一个从量变到质变的过程，而在质变发生之前的这个特殊阶段即是亚健康。

下列现象中属于亚健康的一项是：

A.老王退休后连续多次在医院体检发现血压很高，但是他从没有感到身体有什么不适

B.小刘在上周六出去购物时遭遇抢劫，在搏斗中被歹徒用匕首捅伤，现在已脱离生命危险，正在医院进行最后的康复调理

C.小兵正在读初三，面临升学的压力，他经常熬夜学习，最近感到眼睛看东西有一层雾气，医学专家说可能是假性近视

D.小刚的爸爸在单位体检时，发现腹内有肿瘤包块，医生说可能是长期劳累所致，劝其保养，可是他因没有任何外在征兆而并不在意

90.行政领导，作为一种行为，它是指在一定的行政环境下，为实现一定的行政目标，行政领导者所进行的统御率领和引导的行为过程。

下列不属于行政领导的是：

A.行政领导者提出一定的施政纲领和政策，通过动员、发动，使下级朝目标积极前进

B.行政领导者提出一定规定和意见，通过思想政治工作和宣传教育，让下级接受

C.领导家搬迁新房，请下级来做客

D.建立一定的组织制度和机构体系，选拔和使用行政人员

91.继续教育是指针对专业技术人员进行的以更新、补充、拓宽专业知识和培养、提高业务能力为目的的非学历教育。

根据以上定义，下列各项中属于继续教育的是：

A.许多农村中学老师通过函授教育取得了本科文凭

B.高等院校已获得教授、副教授职称的教师在职攻读博士学位

C.为使小学教师适应新的课程标准，教育局连续三年举办暑期培训

D.劳动局为帮助下岗职工实现再就业举办的多种形式职业培训

92.时间综合症指由于对时间的紧迫感而造成心理上的烦恼、紧张，以及生理上的活动改变等导致的病症。

下列属于时间综合症的是：

A.张先生与李小姐约定下午3点在某公园首次见面，结果李小姐没来，张先生回去后给李小姐发了一条短信：第一次约会就不守时，这样的人不值得交往

B.韩女士经常出差，由于在赶往机场、车站的途中经常发生交通拥堵，所以她后来每次出发都要留出机动时间，并以此告诫家人，做任何事情都要赶早

C.小明上小学五年级，酷爱玩滑板，但他不耽误作业，每天下午放学回家，总是争分夺秒，飞快地把作业做完，然后约同伴一起去玩滑板

D.雷先生办事总是急匆匆的，常唠叨时间紧，偶尔带孩子出去游玩，也是不停地看表，孩子要多玩一会，他就很不耐烦，甚至对孩子大发脾气

93.仲裁，是指双方当事人，根据国家有关法律的规定或根据他们之间事前或事后达成的协议，自愿地把争议提交第三者（依法建立的仲裁机构），申请第三者以中间人的身份依法对当事人间发生的争议进行判断，作出裁决，从而解决纠纷的一种法律制度。

下列属于仲裁的是：

A.小明和妻子感情不和，上法院申请离婚

B.两村因地界发生纠纷，请该镇副镇长出面调解

C.甲公司和乙公司约定，若合同遇到不可抗力因素而无法执行时不得私自估算损失，由市仲裁委员会派人估算

D.两口子吵闹，双方父母出面和解

94.妄想是一种病理性的歪曲信念，是病态的推理和判断，它具有以下特征：①信念的内容与事实不符，没有客观现实基础，但患者坚信不疑；②妄想内容均涉及患者本人，总是与个人的利害有关；③妄想具有个人独特性；④妄想的内容因文化背景和个人经历而有差异，但常有浓厚的时代色彩。

下列所描述的症状可以被判断为妄想的一项是：

A.小王最近总是反复思考“先有蛋，还是先有鸡”这个问题，虽然自己也知道没有必要，可是就是无法把这个问题从脑子里清除掉

B.丽丽最近感到身边的事物和环境发生了变化，变得不真实，周围好像舞台布景，树木、房屋好像纸糊的一样，毫无生气

C.老张最近总是在家里听到有人在门口骂他，尽管老伴告诉他说自己什么都没有听到

D.因为自己的腹部有一块椭圆形的胎记，小李认为自己是拥有超能力外星人的后代，尽管听到的人都觉得这是无稽之谈，可他自己却深信不疑

95.矛盾规律指人们在同一思维过程中，两个相互矛盾的思维不能够同为真，其中必有一假，它要求人们在思维过程中必须保持思维的一贯性。

根据以上文意，下列哪一项违反了矛盾规律的要求？

A.中美之间既是发展伙伴，也是竞争对手

B.今年过节不收礼，要收就收脑白金

C.一切反动派既是真老虎又是纸老虎

D.有的人死了，可他还活着，有的人活着，可 he 死了

96.比喻：拟人：修辞

A.报纸：杂志：电视

B.手机：短信：电话

C.冰箱：洗衣机：家电

D.小说：散文：评论

97.键盘：敲击

A.汽车：汽油

C.手机：天线

98.春花：秋月：江南

A.报名：考试：人生

C.青山：绿水：古城

99.但丁：米开朗琪罗

A.薄伽丘：拉伯雷

C.司汤达：达芬奇

100.自信：心理

A.动物：蜜蜂

C.自满：失败

B.锅：铲子

D.号：吹

B.领导：群众：工作

D.白云：蓝天：快乐

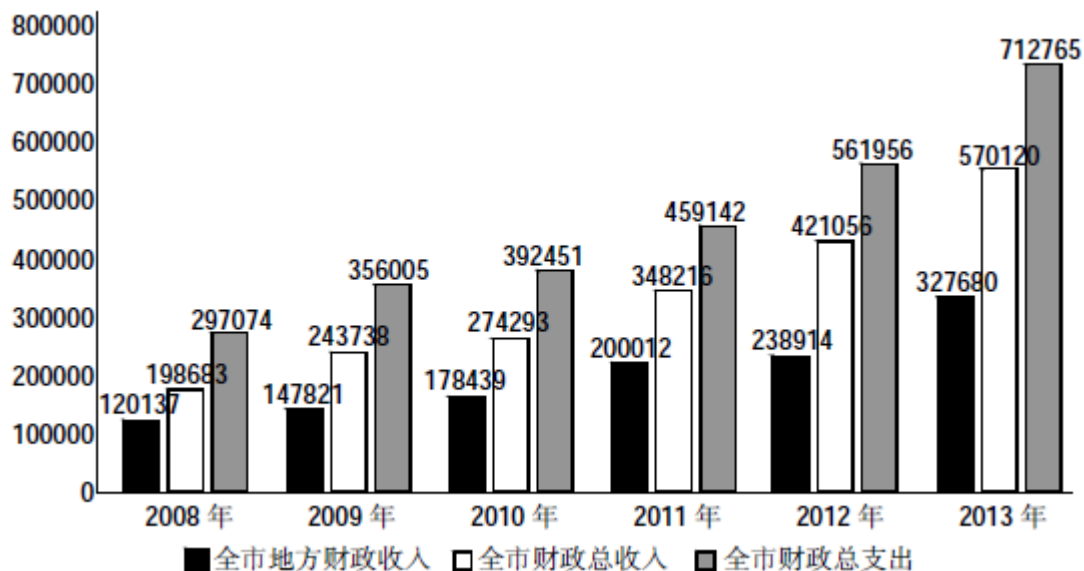
B.雨果：乔托

D.莎士比亚：狄更斯

B.矿泉水：饮料

D.啤酒：粮食

一、根据下图回答 101~105 题。



某市财政收支情况统计图（单位：万元）

101.2009~2013 年，全市地方财政收入增长额最多的一年是：

A.2012 年

B.2011 年

C.2013 年

D.2010 年

102.2009~2013 年，全市财政总支出增长率最低的一年是：

A.2011 年

B.2009 年

C.2010 年

D.2012 年

103.2008~2013 年，全市财政赤字占财政总收入的比例最小的一年是：

A.2009 年

B.2012 年

C.2011 年

D.2013 年

104.按照 2013 年的收入增长趋势，2014 年的全市财政总收入约为（ ）万元。

A.923418

B.723419

C.832157

D.771956

105.根据资料提供信息，下列说法不正确的是：

A.2008~2013 年，全市地方财政收入占财政总收入比重的总体趋势是上升的

- B.从总量来看, 2008~2013 年, 全市财政总支出的增长慢于财政总收入的增长
- C.在 2011 年, 财政赤字额出现负增长
- D.2008~2013 年, 全市地方财政收入、财政总收入、财政总支出的趋势都是增长的

二、根据以下材料, 回答 106~110 题。

据欧盟统计局统计, 2011 年 1—6 月荷兰货物进出口总额为 6302 亿美元, 较上年同期增加 21%。其中, 出口 3311.1 亿美元, 增加 21%; 进口 2990.9 亿美元, 增加 20.9%。贸易顺差 320.1 亿美元, 增加 22.0%。

荷兰是欧盟成员国, 其货物贸易的约六成在区域内进行。1—6 月荷兰对欧盟 27 国出口 2408.1 亿美元, 增加 23.2%, 占其出口总额的 72.7%; 自欧盟 27 国进口 1380.8 亿美元, 增加 24.4%, 占其进口总额的 46.2%。欧盟区域内, 荷兰的主要出口贸易伙伴是德国和比利时, 1—6 月出口额分别为 781.7 亿美元和 442.4 亿美元, 增加 24.7%和 31.2%, 占荷兰出口总额的 23.6%和 13.4%; 主要进口来源地仍然是德国和比利时, 1—6 月进口额分别为 428 亿美元和 258 亿美元, 增长 20.6%和 24.3%, 占荷兰进口总额的 14.3%和 8.6%。欧盟区域外, 荷兰最大的出口伙伴是美国, 1—6 月出口额为 120.8 亿美元, 增长 39.3%, 占荷兰出口总额的 3.7%; 中国和俄罗斯是最主要的进口国, 1—6 月进口额分别为 329.3 亿美元和 185.5 亿美元, 增长 17.2%和 52.5%, 占荷兰进口总额的 11.0%和 6.2%。

荷兰的货物贸易一直处于顺差状况, 顺差主要来源于欧盟国家中的德国、比利时、法国和意大利, 1—6 月来自四国的顺差额合计为 783.4 亿美元。荷兰的贸易逆差主要来源于中国、俄罗斯、日本和美国, 1—6 月逆差额合计为 547.4 亿美元。

分商品看, 机电产品、矿产品和化工产品是荷兰的前三大类出口商品, 1—6 月出口额分别为 819.6 亿美元、596.9 亿美元和 423 亿美元, 增长 15.8%、39.1%和 4.4%。1—6 月荷兰的主要出口商品都实现程度不等的正增长, 其中运输设备和动植物油脂的涨幅居前。荷兰进口前三位商品为机电产品、矿产品和化工产品, 1—6 月进口额为 726.3 亿美元、698.3 亿美元和 313 亿美元, 增长 13.9%、39.2%和下降 5.0%, 占其进口总额的 24.2%、23.4%和 10.5%。

106.2011 年 1—6 月, 荷兰货物进出口总额比去年同期增长了约 ()。

- A.1094 亿美元
- B.1323 亿美元
- C.1367 亿美元
- D.1556 亿美元

107.2011 年 1—6 月, 机电产品出口额占荷兰总出口额的 ()。

- A.24.8%
- B.30.1%
- C.27.5%
- D.31.5%

108.2011 年 1—6 月, 荷兰对美国的出口额比其对德国的出口额少 ()。

- A.80.3%
- B.78.4%
- C.79.4%
- D.84.5%

109.2011 年 1—6 月, 荷兰对德国的贸易顺差与其对比利时贸易顺差相比 ()。

- A.多 169.3 亿美元
- B.少 169.3 亿美元
- C.多 339.3 亿美元
- D.少 339.3 亿美元

110.以下说法错误的是（ ）。

- A.2011 年 1—6 月，荷兰处于顺差状况
- B.2011 年 1—6 月，荷兰的出口总额比进口总额多 320.2 亿美元
- C.荷兰进口量大的产品，同时也是其出口量大的产品
- D.荷兰对中国的进口额比对俄罗斯多 47.5%

三、根据以下资料，回答 111~115 题。

某省经初步核算，2013 年全年实现地区生产总值（GDP）14370.16 亿元。分产业看，第一产业增加值 188.45 亿元，同比增长 3.7%；第二产业增加值 7276.68 亿元，同比增长 12.7%；第三产业增加值 6905.03 亿元，同比增长 12.5%。第一产业、第二产业、第三产业结构比为 1.3：50.6：48.1。

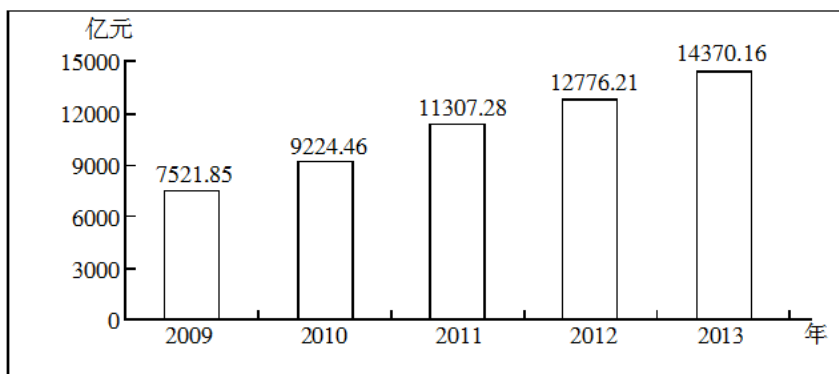


图 2009—2013 年地区生产总值

111.2013 年该省的 GDP 同比增速为：

- A.9.7%
- B.12.5%
- C.5.3%
- D.28.9%

112.2012 年该省第一产业占 GDP 的：

- A.0.9%
- B.1.42%
- C.1.95%
- D.2.66%

113.2012 年，该省第一产业、第二产业、第三产业结构比近似为：

- A.1.9：49.1：49.0
- B.2.2：50.5：47.3
- C.1.4：50.5：48.1
- D.1.5：55.2：43.3

114.该省从 2010 年至 2013 年 GDP 增长最快的一年是：

- A.2010 年
- B.2011 年
- C.2012 年
- D.2013 年

115.该省 2009~2013 年 GDP 的年平均增长率约为：

- A.17.6%
- B.22.7%
- C.35.3%
- D.97.7%

四、根据以下资料，回答 116~120 题。

2012 年，浙江省医疗卫生经费投入 305.91 亿元，比 2010 年增长 36.2%。按户籍人口计算，平均每千人口拥有床位、医生和护士分别为 4.4 张（全国 4.19 张）、2.71 人（全国 1.91 人）和 2.53 人（全国 1.53 人），分别比 2010 年增加 0.56 张、0.3 人和 0.44 人。

项目 \ 年份	2007 年	2008 年	2009 年	2010 年	2011 年	2012 年
卫生机构数合计(个)	15870	15291	15618	29941	30515	30267
医院	636	635	652	687	731	782
社区卫生服务中心(站)	5113	5191	5313	6105	6526	6622
卫生院	2031	1849	1821	1550	1205	1151
门诊部	620	632	620	712	746	822
专科防治所站	29	27	25	25	25	22
妇幼保健机构	87	87	87	87	85	86
其他卫生机构	7354	6870	7100	20775	21197	20782
床位合计数(张)	155622	161203	170187	184097	194759	213267
医院	123355	129844	137512	150986	162905	180722
社区服务中心(站)	2216	3690	3526	6219	9425	8463
卫生院	21206	19784	20365	18339	14274	14893
门诊部	519	471	502	495	268	496
专科防治所站	724	732	687	722	610	634
妇幼保健机构	4597	4640	5092	5491	5845	6568
其他卫生机构	3005	2042	2503	1845	1432	1491
卫生人员合计(人)	275047	288344	309451	352883	374157	399930
执业医师	81293	83387	89712	99375	103554	109484
执业助理医师	19130	18510	18218	21069	20943	20514
注册护士	72008	78284	87843	99615	109275	121313
药剂人员	17311	17212	17996	19168	20339	21613
检验人员	10691	13887	14440	15614	16126	16950
其他	30019	31682	31819	33650	36685	38786

116.2010 年，浙江省医疗卫生经费投入约为：

- A.205 亿元 B.215 亿元 C.225 亿元 D.235 亿元

117.2010~2012 年，下列卫生机构数量增长最快的是：

- A.医院 B.社区卫生服务中心（站）
C.卫生院 D.门诊部

118.2012 年平均每所医院的床位数约比 2010 年多：

- A.11 个 B.13 个 C.15 个 D.17 个

119.执业医师数量占卫生人员总数的比例最高的年份是：

- A.2007 年 B.2008 年 C.2010 年 D.2012 年

120.根据资料，下列表述正确的是：

- A.2011 年，门诊部数量首次超过医院数量
B.2007~2012 年，妇幼保健机构床位数增长率不断提高
C.按户籍人口计算，2012 年浙江省平均每千人口拥有床位、医生、护士均超过全国平均水平

D.2007~2012 年,执业医师、注册护士和药剂人员持续增加

五、根据下列资料,完成 121~125 题。

2014 年 1~5 月,浙江省规模以上工业增加值 4664.7 亿元,比去年同期增长 6.3%,增幅比 1~4 月回落 0.1 个百分点。其中,5 月为 1025.9 亿元,增长 5.8%,增幅比 4 月回落 1 个百分点。

工业增加值、出口交货值、工业用电量当月增速和工业利润累计增速(单位:%)

	2013 年 1~2 月	3 月	4 月	5 月	6 月	7 月	8 月	9 月	10 月	11 月	12 月	2014 年 1~2 月	3 月	4 月	5 月
工业 增加值	7.7	8.8	9.7	9.6	9.4	8.4	7.6	8.3	7.2	7.9	8.0	6.1	6.3	6.8	5.8
出口 交货值	7.5	3.4	4.1	3.7	0.2	-0.7	0.3	0.1	0.1	4.2	4.8	0.5	4.8	4.0	3.8
工业利润 (累计)	20.4	9.6	9.2	12.7	13.0	15.1	15.8	14.7	14.3	14.1	15.2	3.8	8.2	13.1	
工业 用电量	-4.2	-2.2	12.2	8.9	10.0	9.8	8.3	5.7	6.6	9.3	2.6	1.5	7.2	2.7	0.6

从行业看,在 38 个工业行业中,仅 13 个行业增速比 1~4 月提高,占总数的 34.2%。20 个行业增速比 1~4 月有所回落。1~5 月,战略型新兴产业增加值 1119.3 亿元,增长 7.8%,增幅比 1~4 月提高 0.1 个百分点,也高于规模以上工业增速,占规模以上工业的比重为 24%,同比提高 0.2 个百分点。高新技术产业、装备制造业增加值同比分别增长 8.9%、8.1%,均比 1~4 月回落 0.2 个百分点。

从地区看,舟山(12.4%)、杭州(8.8%)、湖州(8.7%)、嘉兴(7.6%)、金华(6.5%)五市工业增加值增速高于全省平均,增速低于全省的 6 市中有 5 市增速在 5% 以下。11 市中仅杭州、宁波、台州 3 市增幅比 1~4 月提高;其余 8 市中,6 市增幅比 1~4 月回落,2 市增幅与 1~4 月持平。

从企业主体看,1~5 月,大型企业工业增加值同比增长 5.1%,增幅比 1~4 月提高 0.5 个百分点,中型、小微企业增长 3.7% 和 8.7%,增幅比 1~4 月回落 0.2 和 0.5 个百分点。

121.2014 年 1~4 月,浙江省规模以上工业增加值约为:

- A.3329 亿元 B.3456 亿元 C.3537 亿元 D.3639 亿元

122.下列四个月份中,工业增加值、出口交货值、工业利润(累计)和工业用电量四个指标的增速最接近的是:

- A.2013 年 4 月 B.2013 年 11 月
C.2014 年 3 月 D.2014 年 4 月

123.2014 年 1~5 月,工业增加值增速高于全省平均且增幅高于 1~4 月的城市有:

- A.1 个 B.2 个 C.3 个 D.5 个

124.2014 年 4 月,下列哪个指标的增速比去年同期快?

- A.出口交货值 B.工业利润(累计)
C.工业增加值 D.工业用电量

125.根据资料,下列说法不正确的是:

- A.2014 年 1~5 月,金华市工业增加值的增速高于宁波市

B.从行业看,2014 年 1~5 月有 5 个行业增速与 1~4 月持平

C.2014 年 1~4 月,装备制造业增加值同比增长 8.3%

D.2014 年 1~5 月,大型企业工业增加值的增速高于小微企业

126、到 21 世纪初,以下哪种能源没能成为世界能源的主角()。

A.天然气

B.风能

C.石油

D.煤炭

127、能源输送领域技术革新的核心内容不包含以下()。

A.特高压等大容量输电技术

B.大电网安全稳定运行技术

C.可再生能源发电并网技术

D.智能电网大容量传输技术

128、以下哪一选项不能体现出全球能源呈现出来的新特征()。

A.结构多元化

B.配置远程化

C.系统金融化

D.消费电气化

129、绿色能源消费模式构建的重点,在于实施以()为重点的节能优先战略、以提高电气化水平为主要目标的()战略和以发展电动汽车为核心举措的绿色交通战略。

A.能源开发转换;终端能源替代

B.输送配置优化;能源开发转换

C.终端节能;能源开发转化

D.终端节能;终端能源替代

130、一个国家电气化水平如何进行衡量,以下哪个选项是正确的()。

A.发电用能占一次性消费能源的比重

B.电能占一次性消费能源的比重

C.发电用能占终端能源消费比重

D.发电用能占总能源消费比重

131、当前,解决中国能源问题,实施()战略是重要且紧迫的任务。

A.双特一路

B.双输一带

C.一特四大

D.一带一路

132、实施一特四大战略的关键在于发展()。

A.大核电

B.大水电

C.大高压

D.特高压

133、我国能源开发利用的总体思路是()

A.着力推进核能开发利用,积极开发利用新能源和可再生能源,安全高效开发利用煤炭能源,大力发展水能资源,统筹开展常规和非常规油气资源开发,积极利用海外能源资源。

B. 着力推进水能资源的高效清洁开发利用, 积极开发利用煤炭资源, 安全高效开发利用核能, 大力发展新能源和可再生能源, 统筹开展常规和非常规油气资源开发, 积极利用海外能源资源。

C. 着力推进煤炭的高效清洁开发利用, 积极开发利用水能资源, 安全高效开发利用核能, 大力发展新能源和可再生能源, 统筹开展常规和非常规油气资源开发, 积极利用海外能源资源。

D. 着力推进煤炭的高效清洁开发利用, 积极开发利用核能, 安全高效开发利用水能资源, 大力发展新能源和可再生能源, 统筹开展常规和非常规油气资源开发, 积极利用海外能源资源。

134、对未来电力格局描述不正确的是 ()

A. 我国京津冀鲁、华中东四省、华东、广东等地区经济相对发达, 用电需求较大, 是我国重要的电力受端地区。

B. 综合考虑我国电力负荷分布及电源布局, 未来我国将形成大规模的“西电东送”、“北电南送”的电力流格局。

C. 蒙西、山西煤电主要送电华中和华北。

D. 陕西煤电主要送电西北和西南。

135、() 是国网公司全体员工应共同遵守的基本行为准则。

A. 《员工守则》

B. 供电服务“十项承诺”

C. 员工服务“十个不准”

D. 三公调度十项措施。

136、公司的核心价值观是: ()。

A. 诚信、责任、创新、奉献

B. 诚实、守信、责任、奉献

C. 诚实、责任、创新、奉献

D. 诚信、责任、和谐、奉献

137、以下哪个是国家电网的品牌口号 ()

A. 建设一流公司

B. 追求国际一流企业

C. 建设电网坚强

D. 你用电, 我用心

138、国家电网战略目标 ()

A. 建设电网坚强、资产优良、服务优质、业绩优秀、现代公司

B. 建设电网坚强、资产优良、现代公司

C. 资产优良、服务优质

D. 以上均不正确

139、2004 年, 我国全面启动国家石油储备工作, 规划用 15 年时间分三期完成油库等石油储备硬件设施建设。截至 2010 年底, 我国第一期石油储备建成了 4 个国家石油储备基地, 以下哪个选项不是 ()。

A. 浙江镇海

B. 浙江舟山

C.辽宁大连

D.黑龙江大庆

140、复杂的国际能源政治经济形势引发的能源安全风险有（ ）。

A. 能源出口国家和地区局势动荡引发的风险

B. 能源系统结构不合理引发的风险

C. 新能源发展缺乏规范引导引发的风险

D. 能源安全管理基础薄弱引发的风险

141、加强能源政务信息公开，完善能源（ ）公示制度，增强政府对非涉密能源问题决策的透明度。

A.价格

B.数量

C.产量

D.质量

142、我国天然气定价机制及存在的主要问题不包括（ ）。

A.价格水平偏低，与国内供需关系和国际市场价格脱节。

B.与石油等替代能源比价关系不合理。

C.价格体系不够科学、健全。

D. 价格水平偏低，与国内供需关系和国际市场价格脱节

143、我国特高压输电技术的两个示范工程分别是（ ）和（ ）。

A 晋东南—南阳—荆门 1000 千伏特高压交流输电工程；向家坝—上海±800 千伏特高压直流输电工程

B 晋东南—南阳—荆门 1000 千伏特高压直流输电工程；向家坝—上海±800 千伏特高压交流输电工程

C 晋东南—南阳—荆门±800 千伏特高压交流输电工程；向家坝—上海 1000 千伏特高压直流输电工程

D 晋东南—南阳—荆门±800 千伏特高压直流输电工程；向家坝—上海 1000 千伏特高压交流输电工程

144、储能技术一般分为（ ）

A. 清洁储能和热储能

B.风力储能和电储能

C.热储能和电储能

D.清洁储能和风力储能

145、以下哪一项不属于节能优先战略重点领域？（ ）

A.工业领域

B.农业领域

C.建筑领域

D.交通领域