

2017 国家电网财会类模拟卷

一、单选题

- 随着经济的发展，参与企业预测、决策、控制、考核将成为（ ）主要方面。
A.会计法规 B.会计准则 C.会计制度 D.会计职能
- 下列关于会计监督的表述错误的是（ ）。
A.会计监督是对特定会计主体的合法性和合理性的审查
B.会计监督是在核算阶段和分析阶段的监督
C.单位内部控制目前作为会计内部监督的核心
D.会计监督是会计核算的质量保障
- 下列单位中，是会计主体但不是法人的是（ ）。
A.股份公司 B. 国有独资公司 C. 有限责任公司 D. 工作室
- 企业会计准则和会计制度的有关规定基本上是建立在（ ）基础之上。
A.会计主体 B.持续经营 C.会计分期 D.货币计量
- 下列不属于会计核算的基本方法是（ ）。
A.会计确认 B. 会计计算 C. 会计记录 D. 会计报告
- 从会计意义上讲（ ）指利润和所有者权益等会计要素所反映的内容。
A.财务成果 B. 财务状况 C. 经营成果 D. 现金流量
- 我国的会计确认原则是在（ ）的原则前提下提出来的，比如：配比、收入实现和其他确认原则等。
A.会计主体 B.会计分期 C.收付实现制 D.权责发生制
- 下列会计业务可以判定为资产的业务是（ ）。
A.企业 6 月份与他人签订一项购买设备的合同，设备于 9 月份实际购买
B. 预付的保险费
C. 融资租出的机器设备
D. 经营租入的机器设备
- 下列选项根据资产的定义和资产确认条件不可以列入资产负债表的是（ ）
A. 原材料 B. 资产发生跌价发生的损失
C. 固定资产 D. 印花税
- 下列不属于应交税金科目下设二级明细科目的是（ ）。
A. 应交增值税 B. 未交增值税 C. 应交营业税 D. 印花税
- 如果某期按变动成本法计算的营业利润为 5000 元，该期产量为 2000 件，销量 1000 件，期初存货为零，固定性制造费用总额为 2000 元，则按完全成本法计算的营业利润为（ ）。
A.0 元 B.1000 元 C.5000 元 D.6000 元
- 下列哪种情况适宜使用“领料登记表”凭证。（ ）
A.没有材料消耗定额的材料 B.不经常领用的材料

- C.经常使用并由消耗定额的材料 D.经常使用但没有消耗定额的材料
13. 企业行政管理部门计提的固定资产折旧费, 应借记 ()。
- A.“财务费用”科目 B.“管理费用”科目
C.“制造费用”科目 D.“预提费用”科目
14. 计划成本分配法, 是将辅助生产费用按照提供劳务的数量和计划单位成本 () 进行分配的方法。
- A. 在各受益单位之间
B. 在辅助生产车间以外的受益单位之间
C. 在辅助生产车间之间
D. 先通过交互分配算出辅助生产的实际费用分配率, 再按其对外的受益单位
15. 产品成本计算的分批法, 适用于 () 的生产。
- A.单件小批类型 B. 生产种类繁多的单位
C. 大批量单一品种类型 D.大量大批的单步骤
16. 生产费用要素中的税金, 发生或支付时应借记 ()。
- A.“制造费用”科目 B.“销售费用”科目
C.“管理费用”科目 D.“生产成本”科目
17. 拒绝表示意见与保留意见的区别在于被审计单位 ()。
- A.拒绝进行调整的金额的大小
B.不符合一贯性原则的会计处理方法的严重程度
C.所负会计责任的严重程度
D.注册会计师审计范围受到限制的严重程度
18. 待摊费用是 ()。
- A. 负债项目 B. 资产项目 C. 直接分配法 D. 移动平均法
19. 产品单位成本变化会造成 ()。
- A.可比产品降低额变化
B.可比产品降低率变化
C. 可比产品降低额、降低率都发生变化
D. 可比产品降低额、降低率均不发生变化
20. 下列成本分析方法中属于连环替代法简化形式的是 ()。
- A.线性规划法 B. 差额算法
C. 比率分析法 D. 指标对比分析法
21. 管理会计以 () 为主体展开其管理活动。
- A. 股东 B.企业 C.债权人 D.税务当局
22. 厂房、机器设备的折旧、保险费、财产税属于 ()。
- A.约束性固定成本 B. 酌量性固定成本
C. 混合成本 D. 以上均错

23. 贡献毛益率与变动成本率二者之间的关系是（ ）。
- A. 变动成本率越高，贡献毛益率越高
B. 变动成本率越高，贡献毛益率越低
C. 变动成本率与贡献毛益率二者之间没有关系
D. 变动成本率是贡献毛益率的倒数
24. 安全边际率等于安全边际除以（ ）。
- A. 保本点销售量 B. 当前的销售额 C. 价格调查 D. 保本点销售额
25. 混合成本分解的高低点法中的“低点”是指（ ）。
- A. 成本总额最小的点 B. 单位成本最小的点
C. 业务量最小的点 D. 成本与业务量都最小的点
26. 采用变动成本计算的前提条件是（ ）。
- A. 成本生产分析 B. 成本性态分析
C. 成本计算结果 D. 成本经济用途分类
27. 申沪公司 1999 年目标利润为 40 万，预计该年固定成本为 23 万，单位变动成本 21 万，预计销售量为 20000 台，则公司应将产品价格定为（ ）元。
- A. 21 B. 31.50 C. 52.50 D. 10.50
28. 乙事业单位年初事业基金余额为零，当年实现事业结余 20 万元，经营结余 30 万元，经营结余所得税税率 25%缴纳所得税，提取专用基金比例是 10%，该事业单位年末事业基金的金额（ ）万元。
- A. 32.1 B. 37.5 C. 28.5 D. 50
29. 在以下预算中，首先应当编制的是（ ）。
- A. 生产预算 B. 销售预算
C. 直接材料预算 D. 直接人工预算
30. 在审计实务中，注册会计师往往要求被审计单位提出（ ），以明确会计责任。
- A. 管理当局保证书 B. 管理建议书
C. 内部控制重大缺陷沟通函 D. 管理当局声明书
31. 下列有关会计信息质量要求，会计六要素和会计计量属性的说法中，正确的是（ ）。
- A. 融资租赁固定资产当作自有资产入账，体现了谨慎性的质量要求
B. 出售无形资产导致经济利益流入企业属于收入，应计入其他业务收入
C. 采用公允价值计量，就是资产按照预计从其持续使用和最终处置中所产生的未来净现金流量的折现金额计量
D. 企业在对会计要素进行计量时，一般应当采用历史成本
32. 期末对存货采用成本与可变现净值孰低法计价时，其可变现净值的含义（ ）。
- A. 现时重置成本
B. 预计售价
C. 现时重置成本加正常利润
D. 预计售价减去进一步加工成本和销售所必需的预计税金、费用

33. 甲股份有限公司为商品流通企业，发出存货采用加权平均法结转成本，期末按单项存货计量存货跌价准备；存货跌价准备在结转成本时结转。该公司 2007 年年初存货的账面余额中包含甲产品 1200 件，其实际成本为 360 万元，已计提的存货跌价准备为 30 万元。2007 年该公司未发生任何与甲产品有关的进货，甲产品当期售出 400 件，2007 年 12 月 31 日，该公司对甲产品进行检查时发现，库存甲产品均无不可撤销合同，其市场销售价格为每件 0.26 万元，预计销售每件甲产品还将发生销售费用及相关税金 0.005 万元。假定不考虑其它因素的影响，该公司 2007 年年末对甲产品计提的存货跌价准备为（ ）万元。

- A. 6 B. 16 C. 26 D. 36

34. 企业持有交易性的金融资产期间取得的现金股利，应当在现金股利宣告发放日确认并计入（ ）科目。

- A. 交易性金融资产 B. 投资收益 C. 公允价值变动损益 D. 资本公积

35. 甲公司与 A 公司属于同一企业集团，2007 年 8 月 1 日，甲公司通过支付 5000 万元取得了 A 公司 70% 的股权，成为 A 公司的母公司。2007 年 8 月 1 日，A 公司可辨认净资产公允价值为 7000 万元，原账面净资产为 6000 万元。为进行该投资，甲公司支付了 30 万元直接相关费用。则甲公司对 A 公司长期股权的初始投资成本是（ ）万元。

- A. 5030 B. 5000 C. 4930 D. 4200

36. 下列固定资产中，按规定不应提取折旧的是（ ）。

- A. 闲置未用的房屋、建筑物 B. 季节性停用的机器设备
C. 以前已单独估价入账的土地 D. 大修理停用的机器设备

37. 下列应采用多栏式明细账的账户是（ ）。

- A. 预付账款明细账 B. 原材料明细账
C. 生产成本明细账 D. 利润分配明细账

38. 计入管理费用的税金是（ ）。

- A. 营业税 B. 消费税 C. 土地使用税 D. 所得税

39. 独立审计基本准则中的一般准则包括（ ）。

- A. 注册会计师保持独立的观念与态度
B. 注册会计师如果在审计时配有助手，必须注意监督
C. 注册会计师应适当评估被审计单位的内部控制制度
D. 注册会计师应在接受业务之前，与客户签订业务委托书

40. 一次交互分配法是将辅助生产费用先在（ ）之间进行一次交互分配，然后在进行对外分配。

- A. 企业各生产单位 B. 企业各生产车间、部门
C. 企业各辅助生产车间、部门 D. 辅助生产车间和基本生产车间

41. 狭义在产品是指（ ）。

- A. 正在生产过程中加工制造的在产品
B. 尚未产成的全部在产品和半成品
C. 本步骤已完工转入半成品库的半成品

D. 已从半成品库转到以后各步骤进一步加工，尚未最后产成的在产品

42. 下列费用项目中，不属于“管理费用”账户核算的内容是（ ）。

- A. 技术转让费
- B. 房产税
- C. 无形资产摊销
- D. 展销费

43. 成本还原对象是（ ）。

- A. 产成品成本
- B. 各步骤所耗上一步骤半成品的综合成本
- C. 各步骤半成品成本
- D. 各步骤半成品的各成本项目

44. 必须采用分类法计算成本的产品是（ ）。

- A. 副产品
- B. 主产品
- C. 等级产品
- D. 联产品

45. 分步法这种成本计算方法适用于（ ）企业。

- A. 单间小批生产
- B. 大量大批单步骤生产
- C. 大量大批多步骤生产
- D. 多品种多规格生产

46. 甲公司于 2007 年 6 月 30 日将采用公允价值模式计量的投资性房地产（建筑物）转为自用房，该建筑物 2006 年 12 月 31 日的公允价值为 1200 万元（成本 1000 万元，公允价值变动 200 万元），2007 年 6 月 30 日的公允价值为 1260 万元，转换日该建筑物的尚可使用年限为 10 年，采用年限平均法计提折旧，无残值。甲公司 2007 年应计提的该建筑物的折旧额为（ ）万元。

- A. 6
- B. 12.6
- C. 5
- D. 63

47. 2008 年甲公司从丁公司购入原材料一批，价款共计 468 万元（含增值税税款），现甲公司发生财务困难，无法按约定偿还贷款，经双方协议，丁公司同意甲公司用其产品抵偿该笔欠款。抵债产品市价为 300 万元（不含增值税），增值税税率 17%，产品成本为 258 万元。丁公司收到该产品后，与甲公司办理了债务解除手续。假定不考虑增值税外的其他税费。则甲公司因该债务重组增加的税前利润是（ ）万元。

- A. 42
- B. 300
- C. 159
- D. 117

48. 下列说法中，不应认可的是（ ）。

- A. 管理当局的可信赖程度越高，所需审计证据的数量越多
- B. 管理当局的可信赖程度越高，所需审计证据的数量越少
- C. 内部控制越健全，所需审计证据的数量越少
- D. 被审计单位的财务状况越差，所需审计证据的数量越多

49. A 公司本年度委托 B 商店代销一批工具，代销价款 100 万元。本年度收到 B 商店交来的代销清单，代销清单列明已销售代销工具的 70%。A 公司收到代销清单时向 B 商店开具增值税发票。B 商店按代销价款的 10% 收取手续费。该批工具的实际成本为 80 万元。则 A 公司本年度确认的代销收入为（ ）万元。

- A. 100
- B. 70
- C. 63
- D. 90

50.2007 年 7 月 1 日 A 公司对外提供一项为期 8 个月的劳务合同，总收入 310 万元。2007 年底无法可靠地估计劳务结果。2007 年发生的劳务成本为 156 万元，预计已发生的劳务成本能得到补偿的金额为 120 万元，则 A 公司 2007 年该项业务应确认的收入为（ ）万元。

- A.156 B. -36 C.120 D.90

二、多项选择题

51.企业的下列支出，应列入成本、费用（ ）。

- A.生产经营过程中实际消耗的原材料、辅助材料、燃料、动力、备品配件等
B.固定资产折旧费、租赁费、修理费和低值易耗品的摊销费
C.对外投资的支出
D.制造费用
E.为购置和建造固定资产，购入无形资产的支出

52.品种法的特点是（ ）。

- A.只分产品品种计算产品成本 B.不分批计算产品成本
C.不分步计算产品成本 D.不分类计算产品成本
E.不计算自制半成品成本

53.平行结转分步法的使用情况是（ ）。

- A.半成品对外销售 B.半成品不对外销售
C.管理上不要求提供各步骤半成品成本的工作量较大
D.半成品种类较多，逐步结转半成品成本的工作量较大
E.管理上要求提供各生产步骤半成品成本资料

54.下列项目中，属于制造费用的是有（ ）。

- A.生产车间固定资产折旧 B.生产车间管理人员工资
C.生产车间办公费 D.生产车间水电费
E.辅助生产车间为生产产品消耗材料

55.成本分析的方法有（ ）。

- A.指标对比分析法 B.比率分析法
C.连环替代法 D.双倍余额递减法
E.差额计算法

56.对以现金结算的股份支付，下列描述正确的是（ ）。

- A.通过应付职工薪酬核算
B.授予一日一般不做会计处理
C.在可行权日之后，不再调整等待期内的确认的成本费用
D.公允价值变动计入当期损益

57.下列有关建造合同收入的确认与计量的表述中，正确的有（ ）。

- A.在采用完工百分比法确认劳务收入时，其本年相关的销售成本应以实际发生的全部成本确认
B.工程索赔、奖励形成的收入应当计入合同收入

C.合同成本不可能收回的,在发生时立即确认为合同费用,不确认合同收入

D.合同成本能够收回的,合同收入根据能够收回的实际合同成本予以确认,合同成本在发生的当期确认为合同费用

58.上市公司在其年度资产负债表日至财务会计报告批准报出日前发生的下列事项,属于非调整事项的有()。

- A.企业合并或企业控制股权的出售
- B.报告年度发生的诉讼案件在资产负债表日后事项期间结案
- C.销售退回
- D.资产负债表日后出现的情况引起固定资产和投资发生严重减值

59.对工业企业生产费用最基本的分类是()。

- A.劳动对象方面的费用
- B.活劳动方面的费用
- C.费用要素
- D.产品生产成本项目
- E.劳动手段方面的费用

60.在不考虑其他因素的情况下,下列有关关联方关系的表述中,符合《企业会计准则—关联方式及其交易的披露》的规定的有()。

- A.同受一方控制的两方或多方之间,应视为关联方
- B.国家控制的企业间不应仅仅因为彼此同受国家控制而成为关联方
- C.存在控制、共同控制和施加重大影响是判断关联方关系的主要标准
- D.企业与其仅发生大量交易而存在经济依存性的单个供应商之间应当视为关联方

61.成本会计的基础工作包括()。

- A.原始记录制度
- B.计量验收制度
- C.定额管理制度
- C.部门(岗位)责任、权限制度
- E.企业内部价格制度

62.按照费用同特定产品关系的分类,可将费用分为()。

- A.直接材料
- B.直接工资
- C.直接费用
- D.间接费用
- E.制造费用

63.低值易耗品的摊销方法有()。

- A.工作量法
- B.直线法
- C.分批实际法
- D.一次摊销法
- E.分次摊销法

64.材料的发出按实际成本计价时,可采用的计价方法有()。

- A.先进先出法
- B.后进先出法
- C.加权平均法
- D.移动平均法
- E.年数总和法

65.造成小时工资率变动的因素有()。

- A.工时利用率
- B.增发奖金
- C.调整工资等级
- D.发放停工工资
- E.发放加班津贴

66.下列各项税金中,构成相关的资产成本的有()。

- A.用于直接出售的委托加工应税消费品由受托方代收代交的消费税
B.用于连续生产应税消费品的委托加工应税消费品由受托方代收代交的消费税
C.用于在建工程的库存原材料已支付的增值税进项税额
D.小规模纳税人采购货物支付的增值税
- 67.直接出售的存货的可变现净值的影响因素有（ ）。
- A.生产成本
B.预计销售费用
C.预计售价
D.预计销售税金
- 68.关于投资性房地产的后续计量，下列说法中正确的有（ ）。
- A.采用公允价值计量的，不对投资性房地产计提折旧或进行摊销
B.采用成本模式计量的，应对投资性房地产计提折旧或进行摊销
C.已采用公允价值模式计量的投资性房地产，不得从公允价值模式转为成本模式
D.已采用成本模式计量的投资性房地产，不得从成本模式转为公允价值模式
- 69.品种法适用于（ ）。
- A.小批单件单步骤生产
B.大量大批单步骤生产
C.管理上不要求分步骤计算产品成本的小批单件多步骤生产
E.管理上不要求分步骤计算产品成本的大量大批多步骤生产
F.管理上要求分步骤计算产品成本的大量大批多步骤生产
- 70.会计主体又称为会计实体，它可以是（ ）。
- A.企业
B.行政事业单位
C.集团公司
D.独立核算的分厂
- 71.下列账户属于负债类账户的是（ ）。
- A.应付账款
B.预付账款
C.应付职工薪酬
D.所得税
- 72.会计核算的方法有（ ）。
- A.复式记账
B.会计分析
C.填制和审核会计凭证
D.登记账簿
- 73.多栏式明细账适用于（ ）的运用。
- A.“银行存款”日记账
B.“生产成本”明细账
C.“制造费用”明细账
D.“管理费用”明细账
- 74.影响营业利润金额大小的项目有（ ）。
- A.主营业润利润
B.其他业务利润
C.营业外收入
D.财务费用
- 75.工业企业成本报表一般包括（ ）。
- A.产品生产成本表
B.主要产品单位成本表
C.制造费用明细表
D.各种期间费用明细表
E.以上均包括

三、判断题

- 76.所有者权益是企业投资者对企业资产的所有权。()
- 77.所有经济业务的发生,都会引起会计恒等式两边发生变化,但不会破坏会计恒等式。()
- 78.“预收款项”业务不多的企业,可将“预收款项”并入“应收款项”科目核算。()
- 79.收入的取得一定表现为企业资产的增加。()
- 80.总账之间如果试算平衡,则说明记账没有错误。()
- 81.财务会计和管理会计都必须严格遵守公认会计准则。()
- 82.在采用完全成本计算法下,所有固定成本都作为期间成本处理。()
- 83.在销售量不变的情况下,保本点越低,盈利区的三角面积就越缩小,亏损区的三角面积就有所扩大。()
- 84.平滑系数越大,则近期实际对预测结果的影响越小。()
- 85.确定最优生产批量时,考虑的相关成本有调整准备成本、储存成本和生产中的变动成本。()
- 86.预计资产负债表和预计利润表构成了整个的财务预算。()
- 87.在标准成本控制系统中,计算价格差异的用量基础是实际产量下的实际耗用量。()
- 88.以公允价值计量且其变动计入当期损益的金融资产可以重新分类为可供出售金融资产。()
- 89.单独测试未发现减值准备的金融资产(包括单项金额重大和不重大的金融资产),说明未发生减值。()
- 90.以旧换新业务应按照非货币性资产交换进行会计处理。()
- 91.引起资产和负债的同时减少的支出是费用性支出。()
- 92.以应付票据去偿付购买材料的费用,是成本性支出。()
- 93.直接生产费用就是直接计入费用。()
- 94.接生产工艺过程的特点,工业企业的生产可分为大量生产、成批生产和单件生产三件。()
- 95.成本计算的辅助方法,一般应与基本方法结合起来使用,而不单独使用。()
- 96.成本计算方法中的最基本的方法是分步法。()
- 97.逐步结转分步法也成为计列半成品分步法。()
- 98.成本报表是对外报告的会计报表。()
- 99.低正常股利加额外股利政策,能使股利与公司盈余紧密地配合,以体现多盈多分,少盈少分的原则。()
- 100.直接融资是指直接从金融机构借入资金的活动。()

四、综合单选题

101.商家将儿童节视为赚钱的良机,乃是出于逐利的本能,瞅准了家长的弱点,清楚他们为了孩子甘于“血拼”,这符合商业的竞争法则,_____。可是,家长却应擦亮眼睛,辨清节日消费陷阱,更不能将儿童节当做“血拼节”,为了所谓孩子的快乐就不惜千金。

- A.顺理成章 B.问心无愧 C.无可厚非 D.勉为其难

102.对于官员财产公开,任何一个地方“_____”的勇气都应当被肯定。不过,仍希望有更完整、配套以及全局性的官员财产公开办法出台,以形成对这一制度的真正推动。

填入划横线部分最恰当的一项是:

A.试水

B.试验

C.破冰

D.尝试

103.中国古代史籍把黄帝和炎帝时期作为中国历史的_____,但是古代文献中对黄帝、炎帝乃至尧舜禹时期的记述均为后代文献的_____,一般认为都属古史传说的范畴,不能作为信史来_____中华文明五千年。

A.起源 追忆 验证

B.发端 补记 考证

C.肇始 追述 证明

D.滥觞 补充 考据

104.(1)据朝鲜媒体报道,其导弹已处于发射待命状态,已经锁定_____的目标坐标,只需一按键就可发射。

(2)“别看我上了年纪,心态可是_____着呢!”

(3)第十届中国艺术节在注重惠民、创新、交流和参与性的基础上,更_____节俭办节的原则,所有的演出者都是来自全国各地的群众。

填入划横线部分最恰当的一项是:

A.精确 年青 遵从

B.精确 年轻 强调

C.精准 年青 遵从

D.精准 年轻 强调

105.值得肯定的是,与铁路货运改革方案相配套的机构改革、资源整合、人员转岗,已在全国各个铁路局推行,反响良好,说明这第一步迈得不错。然而,与其他改革一样,铁路改革不会_____,更难_____。在推进改革、赢得市场的同时,防止内部恶性竞争,防范运输安全事故,既是铁路应汲取的历史教训,也是新一轮改革路上的重大考验。

填入划横线部分最恰当的一项是:

A.一步到位 一蹴而就

B.一路顺风 一举成功

C.顺风顺水 一步登天

D.一帆风顺 一蹴而就

106.下面空格处应该依次填入的词语,最恰当的是_____。

①因自然气候的变迁、无序的放垦、环境的污染和一些人为的因素,鄂尔多斯的生态环境遭受到严重破坏,这个曾经水草丰美、“风吹草地见牛羊”的富庶之地,其羊绒的品质近年来也在_____。

②一年一度的端午节,各地的民间习俗同多于异,如悬挂菖蒲艾草、佩香囊、赛龙舟、涂雄黄饮雄黄酒,吃咸蛋吃粽子、尝时令鲜果等,据说这些传统活动可以_____百病。

A.蜕化 祛除

B.退化 祛除

C.退化 驱除

D.蜕化 驱除

107.对生命价值的认同度越高,社会对灾难的敏感度就会越高,五年前汶川地震的隐痛未消,所以芦山地震刚一发生,人们无法判断灾情大小,众多媒体人第一时间赶赴灾区,体现的正是媒体的责任和担当。正是媒体的及时详细报道,让灾情透明地呈现在人们面前。不能因为事后看起来灾情不如汶川地震那么严重,就认为舆论反应过度了。

作者想要说明的是:

A.媒体对灾情的关注度不应取决于灾情的大小

B.芦山地震灾情因媒体的积极跟进而透明

C.媒体对芦山地震的高度关注来自职业敏感

D.媒体对芦山地震的反应没有过度

108.人骑自行车，两脚使劲踩 1 小时只能跑 10 公里左右；人开汽车，一脚轻踩油门 1 小时，能跑 100 公里；人坐高铁，闭上眼睛 1 小时也能跑 300 公里；人乘飞机，吃着美味 1 小时能跑 1000 公里。

这段文字给我们的启示是：

- A.不同的交通工具有不同的服务效率
- B.良好的环境和条件是一个人成功的必要条件
- C.应该大力发展现代交通工具
- D.一个人的发展平台不同，结果也可能不同

109.中国各行业的“德”如今都多少出了问题，除了官德频遭批评外，医德是行业道德中饱受诟病者之一。全国有 200 多万医师，针对他们的职业道德的标准既很容易列出来，又有很多强大的现实因素有可能把它们变成贴在墙上的一张纸。行业的普遍道德问题往往有着深刻的原因，在一个行业开展“教育”，通常要比惩罚它的个别败坏分子难得多。

对“把它们变成贴在墙上的一张纸”理解正确的是：

- A.对医师职业道德的监督知易行难
- B.医师职业道德标准成为一纸空文
- C.作为管理制度，医师职业道德标准要上墙
- D.医生职业道德标准制度化

110.“中国式过马路”引发了“国人素质差”的论调。但事实上，中国式路权分配中，行人等待红灯的时间过长是一大问题。经研究，英国行人可忍受等待时间为 45~60 秒，德国人的忍耐限度是 60 秒，杭州行人可忍受等待时间为 70~90 秒。相关调查显示，杭州市区红灯时长普遍超过 100 秒，最长达 145 秒；在京沪等一线城市行人过街等待时间超过 120 秒甚至 180 秒。2010 年上海最牛交警英文怒斥外国人闯红灯的视频红遍网络，可见，在中国的这种交通管理制度下，被公认为素质高的外国人也会无视红灯，来一把“中国式过马路”。

对文段的语意理解不恰当的一项是：

- A.对于一些社会现象，仅从道德角度进行评判过于武断
- B.中国式交通管理制度造成国人素质差的问题，亟待改善
- C.国人素质差的论调有失公允，要客观、科学分析再下结论
- D.等红灯时间过长是引发“中国式过马路”最直接的原因

111.如果能够做好南极生态环境的承受力评估，并严格执行有关规定，南极旅游造成的生态影响就可以得到有效控制。因为与南极大陆极为广袤的地域相比，游客活动的地域仅为总面积的 3%左右。而如何管理好长期设在南极的科考站，才是更为棘手的问题，尤其是一些被废弃的科考站，已对南极生态环境造成了新的威胁。

这段文字意在强调：

- A.南极生态环境评估的意义
- B.南极生态旅游的发展前景
- C.南极生态环境管理机制的必要性

D.南极科考站对当地生态环境的影响

112.1996年,意大利帕尔马的脑科学研究人员发现,在猴子大脑里存在一种特殊的细胞,叫镜像神经元。让猴子看到或听到一个动作,当它自己做这一动作时,这些细胞会兴奋。后来的研究证明,人脑中也有这种镜像神经元,能够感受对方的害怕和愤怒、难过和恶心;复杂的感受如害羞、孤独和不受欢迎,也都能够通过镜像神经元明显地感受到。当我们看到别人的表情或者经历过的情感状态,镜像神经元就会被激活,让我们体验到他人的感受,走进别人的情感世界。

最适合做这段文字标题的是:

A.“同情”的魔力

B.何谓神经元

C.脑科学的新发现

D.“爱”的潜在根源

113.下列各句中,没有语病的一项是:

A.北京的雾霾天气持续了近一个月,中国机动车污染防治委员会副主任说,政府的当务之急就是在于控制好那些尾气超标数十倍的车辆

B.今年仍是“民生改善年”,我市八个调研组分别深入到各区县、社区和居民家中,听取群众意见,充实、完善和修改为民办实事的具体方案

C.面对每逢节日快递运力紧张的局面,我国快递业应尽快提高从业人员的本地化比例,将采用加盟模式的民营快递企业转型为自营为主的模式

D.正如远缘杂交可培育出品质更为优秀的后代一样,表面上隔行如隔山的不同专业、不同学科的交流,往往能撞击出天才的思想火花

114.目前,我国正在进行文化体制改革与经济结构调整,发展文化经济有助于经济结构调整。换言之,_____。文化发展了,经济也就转型升级了,文化份额的增加和文化产品质量的提高对一个国家和地区经济的转型升级有巨大的直接作用。

填入上文空白处的语句,衔接最好的一项是:

A.加快我国经济转型升级,应当多从文化上寻找出路

B.文化经济在经济结构中处于重中之重的地位

C.经济结构决定文化发展,文化产业促进经济进步

D.发展文化经济是调整 and 改革我国经济结构的前提

115.①第一本防水平装书还将拥有强大的防伪功能

②澳大利亚的银行现在已经使用该项技术来延长纸币的使用寿命,同时减少伪造的风险

③英国出版商近日透露,世界上第一本防水平装书有望明年夏天上架销售

④书的外面还有一层防撕毁的坚韧的聚合物涂层,整本书的架上寿命可以由此增加两倍

⑤据了解,防水平装书将采用先进的防水技术,外面包裹透明的蜡封,这样即便书潮湿了,字迹也不会模糊,书页也不会损毁

⑥这将是此技术首次应用于普通平装书。目前,只有专业的潜水用书可以做到完全防水

将以上6个句子重新排列,语序正确的是:

A.③⑤④⑥①②

B.③①②⑤④⑥

C.⑤①②④⑥③

D.⑤④⑥②①③

116. -26, -6, 2, 4, 6, ()

- A.16 B.12 C.14 D.6

117. 1, 5, 5, 25, 25, 45, 125, ()

- A.45 B.65 C.125 D.150

118. $1+3, 2+2, 1+1, 2+3, 1+2, 2+1, ()$

- A. 2×2 B. $2+3$ C. 3×1 D. $1+3$

119. 有一个上世纪 80 年代出生的人, 如果他能活到 80 岁, 那么有一年他的年龄的平方数正好等于那一年的年份。问此人生于哪一年?

- A.1980 年 B.1983 年 C.1986 年 D.1989 年

120. 两口圆柱形水井, 甲井的水深是乙井的一半, 水面直径是乙井的 2 倍, 蓄水量为 40 立方米。问乙井的蓄水量为多少立方米?

- A.20 B.40 C.60 D.80

121. 某班级去超市采购体育用品时发现买 4 个篮球和 2 个排球共需 560 元, 而买 2 个排球和 4 个足球则共需 500 元。问如果篮球、排球和足球各买 1 个, 共需多少元?

- A.250 元 B.255 元 C.260 元 D.265 元

122. A、B、C、D 四人去羽毛球馆打球, A 每隔 5 天去一次, B 每隔 11 天去一次, C 每隔 17 天去一次, D 每隔 29 天去一次。5 月 18 日, 四个人恰好在羽毛球馆相遇, 则下一次相遇的时间为:

- A.9 月 18 日 B.10 月 14 日
C.11 月 14 日 D.12 月 18 日

123. 甲工人每小时可加工 A 零件 3 个或 B 零件 6 个, 乙工人每小时可加工 A 零件 2 个或 B 零件 7 个。甲、乙两工人一天 8 小时共加工零件 59 个, 甲、乙加工 A 零件分别用时为 x 小时、y 小时, 且 x、y 皆为整数, 两名工人一天加工的零件总数相差:

- A.7 个 B.6 个 C.5 个 D.4 个

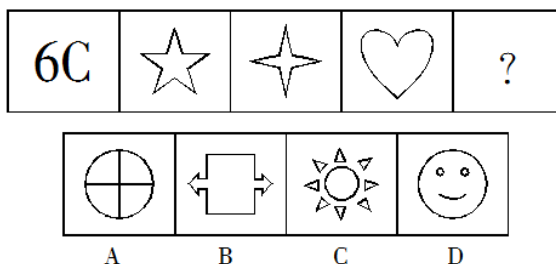
124. 南阳中学有语文教师 8 名、数学教师 7 名、英语教师 5 名和体育教师 2 名。现要从以上四科教师中各选出 1 名教师去参加培训, 问共有几种不同的选法?

- A.96 种 B.124 种 C.382 种 D.560 种

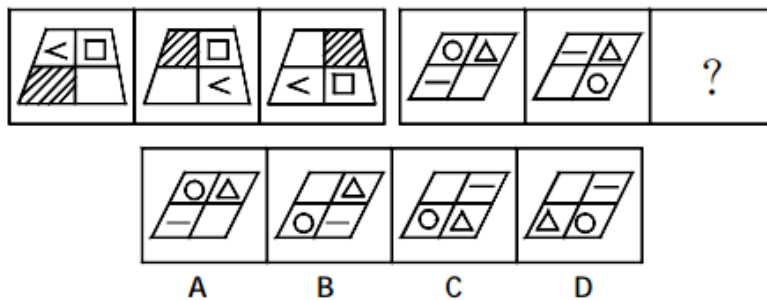
125. 某网店以高于进价 10% 的定价销售 T 恤, 在售出 $\frac{2}{3}$ 后, 以定价的 8 折将余下的 T 恤全部售出, 该网店的预计盈利为成本的:

- A.1.6% B.2.7% C.3.2% D.不赚也不亏

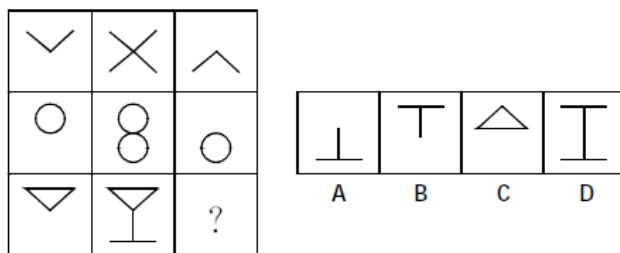
126. 从所给的四个选项中, 选择最合适的一个填入问号处, 使之呈现一定的规律性。



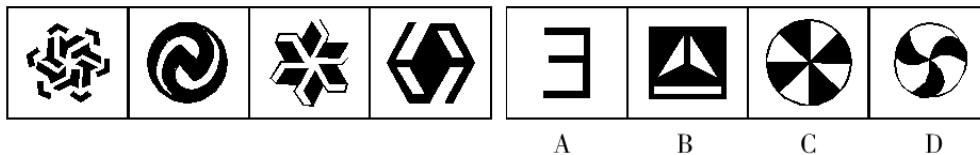
127. 从所给的四个选项中, 选择最合适的一个填入问号处, 使之呈现一定的规律性。



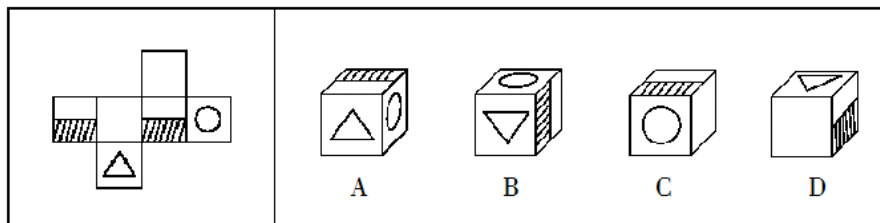
128. 从所给的四个选项中, 选择最合适的一个填入问号处, 使之呈现一定的规律性。



129. 从所给的四个选项中, 选择最合适的一个填入问号处, 使之呈现一定的规律性。



130. 左边给定的是纸盒的外表面, 右边哪一项能由它折叠而成?



131. 英、红、燕三个人讨论一数学题, 当她们都把自己的解法说出来以后, 英说: “我做错了。”红说: “英做对了。”燕说: “我做错了。”老师看过她们的答案并听了她们的上述意见后说: “你们三个人只有一个做对了, 只有一个说对了。”

那么, 做对了的人是:

- A. 红 B. 英 C. 燕 D. 不能确定

132. 年终发福利, 第三中学计划按每个教师的工资涨 10% 发放, 而第七中学计划按每个教师的工资涨 8% 发放。因此, 第七中学的平均工资的上涨低于第三中学的平均工资。

上述结论如果为真, 下列哪项能够加强论证?

- A. 第七中学的最高工资和最低工资都分别小于第三中学的最高工资和最低工资
B. 第七中学的教师要比第三中学教师的数量多
C. 第三中学的师资力量强于第七中学的师资力量
D. 目前第七中学的平均工资低于第三中学的平均工资

133.小方在计算机安全中心存储了用户名、账户密码和指纹密码三项信息。当登陆操作系统时，安全中心首先要鉴别这台计算机的指纹密码是否正确，输入的用户名是否存在，账户密码是否正确，如果三项信息均正确，则允许登陆；如果以上信息有一项不正确，那么安全中心就会拒绝这个用户从这台计算机登陆。小方输入的用户名是正确的，但是安全中心拒绝小方登陆。

由此可以推出：

- A.小方输入的账户密码和指纹密码都是错误的
- B.如果小方的指纹密码是错误的，那么他输入的账户密码是正确的
- C.如果小方的账户密码是正确的，那么他输入的指纹密码是错误的
- D.只有小方输入的账户密码是正确的，他的指纹密码才是正确的

134.每年的10月各大高校都会推选免试研究生，某高校规定，只有在全系成绩排在前十名的学生才有资格做免试生的候选人，而如果想要推选免试成功，则必须要自己去联系导师。但是这并不意味着所有联系到导师的人都会推免成功，只有综合考察全系排名前五名的人才能推免成功。

根据以上信息，下列结论正确的是：

- A.成绩排在全系前十名的学生都能够推免成功
- B.推免成功的研究生综合考察全系排名一定在前五名
- C.联系到导师的人都能够推免成功
- D.成绩排名全系第十名的学生一定不能推免成功

135.一项全球范围的调查显示，近10年来：吸烟者的总数基本保持不变；每年只有10%的吸烟者改变自己的品牌，即放弃原有的品牌而改吸其他品牌；烟草制造商用在广告上的支出占其毛收入的10%。在Z烟草公司的年终董事会上，董事A认为，上述统计表明，烟草业在广告上的收益正好等于其支出，因此，此类广告完全可以不做。董事B认为，由于上述10%的吸烟者所改吸的香烟品牌中几乎不包括本公司的品牌，因此，本公司的广告开支实际上是笔亏损性开支。

以下哪项，如果为真，能构成对董事B的结论的质疑？

- I.如果没有Z公司的烟草广告，许多消费Z公司品牌的吸烟者将改吸其他品牌。
- II.上述改变品牌的10%的吸烟者所放弃的品牌中，几乎没有Z公司的品牌。
- III.烟草广告的效果之一，是吸引新吸烟者取代停止吸烟者（死亡的吸烟者或戒烟者）来消费自己的品牌。

- A.只有I
- B.只有II
- C.只有III
- D.I、II和III

136.直觉思维是指行为步骤和思维过程不明确、不清晰，对某些现象或者问题直接地迅速地作出某些猜想、假设或判断的思维。

下面哪一个是典型的直觉思维？

- A.公安刑警根据收集到的证据，对案件进行分析
- B.军事指挥员根据侦察兵的情报材料作出军事决策
- C.根据所学过的知识解答考试时的难题
- D.医生根据病人的口述材料，迅速地作出疾病的诊断

137.所谓诬告陷害罪是指捏造事实诬告陷害他人，意图使他人受刑事追究，情节严重的行为。

根据上述定义，下列行为构成诬告陷害罪的是：

- A.乙捏造“文某强奸幼女”的事实，并向司法部门举报
- B.甲与丁某长期不和，便捏造丁某包养情人并匿名举报，使丁某与妻子离婚
- C.丙捏造同事万某受贿 10 万元的事实，并印刷大量传单在县城的大街小巷张贴
- D.丁匿名举报李某抢劫他人 50 万元。事后查明，李某只抢劫了 5000 元

138.春花：秋月：江南

- A.报名：考试：人生
- B.领导：群众：工作
- C.青山：绿水：古城
- D.白云：蓝天：快乐

139.但丁：米开朗琪罗

- A.薄伽丘：拉伯雷
- B.雨果：乔托
- C.司汤达：达芬奇
- D.莎士比亚：狄更斯

140.自信：心理

- A.动物：蜜蜂
- B.矿泉水：饮料
- C.自满：失败
- D.啤酒：粮食

五、资料分析

根据以下资料，回答 141~145 题。

表 2012 及 2013 年 1-4 月某市电影院线票房情况

	场次{万场次}		观众人次{百万人次}		票房收入{亿元}	
	2012 年	2013 年	2012 年	2013 年	2012 年	2013 年
1 月	9.77	10.91	3.19	3.50	1.28	1.47
2 月	9.02	9.79	2.89	3.36	1.19	1.54
3 月	9.47	11.07	2.18	3.17	0.88	1.34
4 月	8.87	11.13	3.08	3.72	1.41	1.56

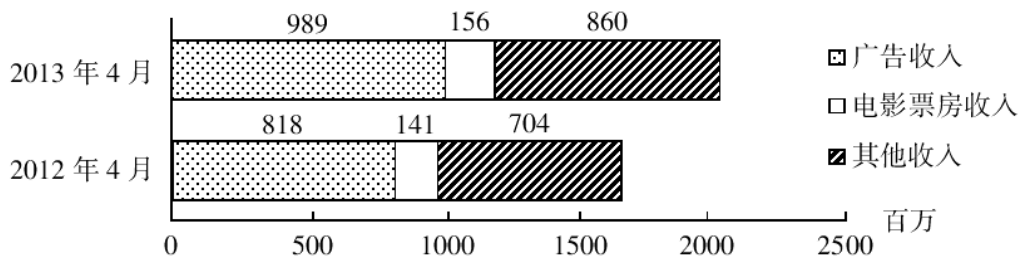


图 2012 及 2013 年 4 月该市广播影视主要创收情况

141.2013 年 1~4 月，该市电影院线平均每场电影观众人数最少的月份是：

- A.1 月
- B.2 月
- C.3 月
- D.4 月

142.2013 年第一季度，该市电影院线平均每场电影的票房收入约为多少元？

- A.1170
- B.1370

D.1770

D.4 月—3 月—1 月—2 月

B.2

D.4

D.电影播放场次环比增速慢于同比增速

单位:万千瓦

表 2 2008~2012 年国家电网公司并网机组上网电量

单位:亿千瓦时

D.2009 年

D.下降了 5.5 个百分点

报名专线: 400-6300-999

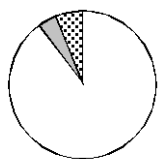
A.2011 年

B.2012 年

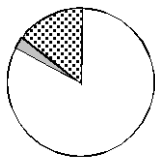
C.2008 年

D.2009 年

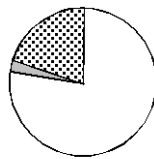
149.下列哪一张图能反映 2012 年清洁能源机组并网容量中水电、核电和新能源发电的构成?



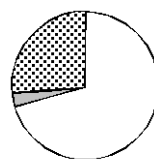
A



B



C



D

150.关于 2008~2012 年间国家电网公司清洁能源的发展，能够从资料中推出的是：

A.核电上网电量保持持续增长

B.新能源发电机组并网容量翻了 8 番

C.水电上网电量年均增长率超过同期水电并网容量

D.新能源发电机组上网电量从 2011 年开始超过核电上网电量