

2017 国家电网金融类模拟卷

一、单选题

- 货币的最基本职能是（ ）。
 - 价值尺度和价格标准
 - 价值尺度和流通手段
 - 流通手段和支付手段
 - 流通手段和贮藏手段
- 下列资产流动性最强的是（ ）。
 - 短期证券
 - 短期贷款
 - 现金资产
 - 信用社房产
- 在项目融资中一般需要（ ）。
 - 抵押担保
 - 质押担保
 - 保证贷款
 - 严谨的担保体系
- 在多数情况下，项目融资中的借款单位是（ ）。
 - 项目建设工程公司
 - 项目公司
 - 出口信贷机构
 - 项目管理公司
- 通常所说的“利率倒挂”是指（ ）。
 - 利率小于或等于零
 - 存款利率小于贷款利率
 - 存款利率大于贷款利率
 - 利息率大于平均利润率
- 在其他条件不变的情况下，人们预期利率上升，会（ ）。
 - 多买债券，多存货币
 - 多买债券，少存货币
 - 卖出债券，多存货币
 - 少买债券，多存货币
- 下面关于金融工具和金融市场叙述错误的是（ ）。
 - 贷款属于间接融资工具，其所在市场属于间接融资市场
 - 股票属于直接融资工具，其发行、交易的市场属于直接融资市场
 - 银行同业拆借市场属于货币市场，同业拆借是其中的一种短期金融工具
 - 银行间债券市场属于资本市场，债券回购是其中的一种长期金融工具
- 如果某一金融机构希望通过持有的债券来获得一笔短期资金融通，则它可以参加（ ）市场。
 - 同业拆借
 - 商业票据
 - 回购协议
 - 大额可转让定期存单
- 股票是一种重要的金融工具。对此，下列说法中正确的是（ ）。
 - 任何性质的公司都可以发行股票，但不同股票的流动性存在很大区别
 - 股票是一种凭证，可以用来追索发行公司归还股本
 - 持有股票的人是股票发行公司的股东，但只有持有 5% 以上股票的股东才有权参与公司的决策
 - 凭借股票，持有人可以获得股息和分红
- 期权合约买方可能形成的收益或损失状况是（ ）。
 - 收益无限大，损失有限大
 - 收益有限大，损失无限大

C.收益有限大, 损失有限大

D.收益无限大, 损失无限大

11. “贯彻国家宏观经济政策, 筹集和引导社会资金, 缓解经济社会发展的‘瓶颈’制约, 致力于以融资推动市场建设和规划先行”。这描述的是 () 的主要任务。

A.国家开发银行

B.中国进出口银行

C.中国银行

D.中国农业发展银行

12. 以经营存款、贷款和金融服务为重要业务, 以盈利为经营目标的金融企业是 ()。

A.投资银行

B.证券公司

C.商业银行

D.政策性银行

13. 下面银行资产按流动性从高至低排序, 正确的是 ()。

A.现金、短期同业拆借、在中央银行存款、短期国债

B.现金、在中央银行存款、短期同业拆借、短期国债

C.现金、短期国债、在中央银行存款、短期同业拆借

D.现金、在中央银行存款、短期国债、短期同业拆借

14. 如果某商业银行存在一个 20 亿元的正缺口, 则 5% 的利率下降将导致其利润 ()。

A.增加 10 亿元

B.增加 1 亿元

C.减少 10 亿元

D.减少 1 亿元

15. 货币政策的制定者和执行者是 ()。

A.地方政府

B.商业银行

C.政策性银行

D.中央银行

16. 剔除物价变动的影响, 以货币实际对应的商品和劳务表示的货币需求称为 ()。

A.名义货币需求

B.宏观货币需求

C.微观货币需求

D.实际货币需求

17. 在凯恩斯的几个持币动机理论中, 他认为下列哪项 () 对利率最为敏感。

A.投机动机

B.预防动机

C.交易动机

D.无私动机

18. 当前我国最主要的货币政策中介目标是 ()。

A.信贷规模

B.货币供应量

C.现金发行量

D.银行备付金

19. 金融交易风险法是利用外汇市场与货币业务来消除汇率风险, 其中不包括 ()。

A.远期合同法

B.外汇保值条款

C.外汇期权合同法

D.投资法

20. () 是银行内部管理人员根据银行所承担的风险计算的, 银行需要保有的最低资本是它用来衡量和应付银行的非预期损失。

A.经济资本

B.会计资本

C.监管资本

D.运营资本

21. 一种商品的需求数量是由多种因素共同决定的, 这些因素不包括 ()。

A.相互独立商品的价格

B.消费者收入水平

C.替代品的价格

D.消费者对商品的价格预期

22.假定 X 产品是生产 Y 产品的必用投入品,而 Y 产品是 Z 产品的替代产品,在其他条件不变的情况下, X 产品的价格提高会 ()。

A.减少对 Z 产品的需求

B.增加对 Z 产品的需求

C.对 Z 产品的需求没影响

D.减少 Z 产品的供给

23.如果生产商品 A 的技术提高,同时消费者预期商品 A 未来价格大涨,且后者变动的幅度超过前者变动的幅度,则商品 A 的均衡价格 (),均衡数量 ()。

A.提高 增加

B.提高 减少

C.下降 增加

D.下降 减少

24.以下对最高限价和保护价格分析的说法中,不正确的是 ()。

A.保护价格的目的是保护生产者利益或支持某一产业的发展

B.我国采用保护价格支持农业生产和稳定农民收入水平

C.当实施最高限价、出现短缺现象时,就会出现严重的排队现象

D.当某种产品价格上涨幅度过大,可能影响生产进行时,可采用保护价格方式干预

25.厂商在工资率下降的时候一般倾向于雇佣更多的工人,假如工人的需求量缺乏价格弹性,工资率的下降导致工资总额 ()。

A.减少

B.保持不变

C.增加

D.难于确定

26.两种商品中若当其中一种的价格变化时,另一种商品的购买量同方向变化,则两者的交叉价格弹性系数为 ()。

A.负

B.正

C.0

D.1

27.当一个地区出现以下哪种指标时,说明该地区的经济发展水平比较低 ()。

A.基尼系数的值越小,其数值越接近 0

B.洛伦茨曲线越近似于一条直线

C.恩格尔系数越接近于 1

D.菲利普斯曲线近似于一条直线

28.关于无差异曲线不正确的是 ()。

A.无差异曲线一般凸向原点

B.任意两条无差异曲线都是不相交的

C.无差异曲线是基数效用理论的重要工具

D.无差异曲线的每一点所代表的两种物品之不同数量的组合提供的总效用是相等的

29.下列关于短期生产的说法,错误的是 ()。

A.生产者来不及调整全部生产要素的数量

B.至少有一种生产要素的数量是不变的

C.生产要素可以分为不变投入和可变投入

D.期限在一年以下的生产为短期生产

30.企业采用最低成本生产技术进行生产,其中单位资本的成本价格为10元,1单位劳动的价格为8元,当资本的边际产量为5时,劳动的边际产量为()。

- A.2 B.5 C.3 D.4

31.下列说法正确的是()。

- A.生产要素的边际技术替代率递减是规模报酬递减造成的
B.边际收益递减是规模报酬递减造成的
C.规模报酬递减是边际报酬递减规律造成的
D.生产要素的边际技术替代率递减是边际报酬递减规律造成的

32.以下哪一项不是上大学的机会成本()。

- A.时间的次优使用 B.因未就业而蒙受的可能的货币损失
C.学费、书费和杂费的次优使用 D.用于住宿和吃饭的支出

33.如果在厂商的短期均衡产量上,AR小于SAC,但大于AVC,则厂商()。

- A.亏损,立即停产 B.亏损,但继续生产
C.亏损、生产或不生产都可以 D.获得正常利润,继续生产

34.实施价格歧视的基本条件不包括()。

- A.卖方具有垄断地位
B.企业生产的商品或服务具有耐用品性质
C.消费者之间存在不同的需求价格弹性
D.不同消费者所在的市场能被隔离开

35.不论在何种市场上,企业实现利润最大化的决策原则都是()。

- A.劳动的边际产量为零 B.价格大于平均成本
C.边际收益大于边际成本 D.边际收益等于边际成本

36.下面各选项的经济变量中()不是流量。

- A.收入 B.储蓄 C.投资 D.财富总量

37.2013年某美国企业在中国投资取得100万美元的收入,那么在计算我国的GDP时,这笔收入应(),在计算美国的GNP时,这笔收入应()。

- A.计入 计入
B.不计入 计入
C.不计入 不计入
D.计入 不计入

38.按最终使用者类型,将最终产品和劳务的市场价值加总起来计算GDP的方法是()。

- A.支出法 B.收入法 C.生产法 D.增加值法

39.下列说法错误的是()。

- A.名义GDP是指用当年价格计算出的一年所生产的最终全部产品的市场价值
B.GDP平减指数可以用来反映通货膨胀的情况
C.名义GDP比实际GDP的测算值要大

D.实际 GDP 是用以前某一年作为基期价格计算的全部最终产品的市场价值

40.如果用 I 表示投资、S 表示储蓄、T 表示税收、G 表示政府购买、X 表示出口、M 表示进口，则四部门经济中储蓄和投资的恒等关系是（ ）。

A. $I=S+(M-X)$

B. $I=S+(T-G)+(X-M)$

C. $I=S+T-G+M$

D. $I=S+(T-G)+(M-X)$

41.IS—LM 曲线的交点表示产品市场和货币市场都达到了均衡，那么交点上方的区域表示的状态是（ ）。

A. $i>s, L>m$

B. $i<s, L>m$

C. $i>s, L<m$

D. $i<s, L<m$

42.当一国经济出现膨胀和顺差时，为了内外经济的平衡，根据财政货币政策配合理论，应采取的措施是（ ）。

A.紧缩性的财政政策和紧缩性的货币政策

B.膨胀性的财政政策和紧缩性的货币政策

C.膨胀性的财政政策和膨胀性的货币政策

D.紧缩性的财政政策和膨胀性的货币政策

43.我国统计部门计算和公布的反映失业水平方面的指标是（ ）。

A.城镇实际失业率

B.城镇预期失业率

C.城镇登记失业率

D.城乡登记失业率

44.垄断企业和寡头企业利用市场势力谋取过高利润所导致的通货膨胀，属于（ ）。

A.成本推动通货膨胀

B.结构性通货膨胀

C.需求拉动通货膨胀

D.需求结构通货膨胀

45.一般来说，在发生通货膨胀时靠固定工资生活的人如果没有涨工资会感觉到（ ）。

A.生活水平下降

B.生活水平提高

C.没有变化

D.幸福感会增强

46.基尼系数可以根据洛伦兹曲线来计算，基尼系数的提高表示（ ）。

A.收入分配不平均程度的增加

B.收入分配不平均程度的减少

C.洛伦兹曲线向 45 度线移动

D.收入分配不平均程度没有改变

47.扩张性财政政策的效应是（ ）。

A.同一价格水平对应的总需求增加

B.同一总需求水平对应的价格提高

C.价格水平下降，总需求增加

D.价格水平提高，总需求减少

48.经济波动的周期的四个阶段依次为（ ）。

A.扩张、峰顶、衰退、谷底

B.峰顶、衰退、谷底、扩张

C.谷底、扩张、峰顶、衰退

D.以上各项均对

49.经济增长的黄金分割律是指（ ）。

A.产出增长率等于储蓄率

B.资本边际产品等于劳动力增长率

C.储蓄率等于人口增长率

D.产出增长率等于技术变化率

50.假设某国在 2008—2011 年期间，GDP 增长 6%，资本存量增长 5%，劳动力增长 1%。如果资本在 GDP 增长中所占的份额为 40%，劳动力所占的份额为 60%，那么该国这一时期全要素生产率增长了（ ）。

A.3.4%

B.4.2%

C.1.4%

D.6%

二、多选题

51. 实物货币形态中被人们选择作为货币的商品必须具有的特性（ ）。

A.价值含量较大

B.易于保存

C.容易分割

D.人们都乐于接受

52. 下列各项中，被称为准货币的是（ ）。

A.现金

B.非存款性金融资产

C.银行活期存款

D.银行定期存款、储蓄存款、外汇存款

53. 下列有关人民币制度的叙述，正确的是（ ）。

A.人民币没有含金量的规定，它属于不兑现的信用货币

B.人民币的发行保证是国家拥有的商品物资，黄金外汇储备主要是作为国际收支的准备金

C.人民币对外国货币的汇率，由国务院统一制定，每日公布，一切外汇买卖和国际结算都据此执行

D.人民币的发行实行高度集中统一，中国人民银行是人民币唯一合法的发行机构并集中管理货币发行基金

54. 与债券筹资相比，属于股票筹资优点的有（ ）。

A.筹资审批环节少

B.降低公司财务风险

C.降低公司资本成本

D.增强公司信誉，提高筹资能力

55. 下列哪些票据一定是有银行签发的（ ）。

A.银行汇票

B.银行承兑汇票

C.银行本票

D.支票

56. 下面说法正确的有（ ）。

A.利率敏感性缺口为正，利率上升时，净利息收入减少

B.利率敏感性比率大于 1，利率上升时，净利息收入增加

C.利率敏感性缺口为负，利率下降时，净利息收入增加

D.利率敏感性比率小于 1，利率下降时，净利息收入减少

57. 在融资租赁中，计算租金使用的利率包括（ ）。

A.固定利率

B.法定利率

C.浮动利率

D.附加利率

58. 利率市场化的作用包括 ()。

- A.利率市场化有利于提高资源配置效率
- B.利率市场化有利于提高企业的投融资质量
- C.利率市场化有助于促进金融机构管理模式的转变
- D.利率市场化有助于促进金融机构经营管理水平的提高

59. 中国甲公司向美国乙公司出口一批价值 2000 万美元的商品, 合同约定 6 个月后收到货款。为防范美元贬值风险, 甲公司可采取的对冲措施有 ()。

- A.远期买入人民币
- B.远期卖出人民币
- C.借美元买入人民币
- D.买入美元看跌期权

60. 下列关于期货的叙述正确的有 ()。

- A.期货交易双方均需缴纳初始保证金
- B.期货交易采取每日盯市结算
- C.期货交易可在交易所和场外交易市场上进行
- D.保证金账户余额超过初始保证金的部分, 交易者不可以随时提现

61. 我国下调存款准备金率和利率, 通过商业银行的信贷行为, 最终对企业的影响有 ()。

- A.企业向商业银行借贷的成本提高
- B.企业向商业银行借贷的成本降低
- C.商业银行对企业的可贷款量增加
- D.商业银行对企业的可贷款量减少

62. 下列不属于中国人民银行职责的是 ()。

- A.发放工商信贷、开展储蓄业务
- B.监督管理银行、金融资产管理公司等金融机构
- C.发行人民币, 管理人民币流通
- D.持有、管理、经营国家外汇储备、黄金储备

63. 下列风险情形中, 属于金融风险中市场风险的包括 ()。

- A.因通货膨胀导致企业收益下降
- B.大量负面评论影响企业声誉
- C.债务人不能按时还本付息
- D.银行利率上升导致金融工具价格下跌

64. 下列 () 项将导致商品需求的变化而不是需求量的变化。

- A.消费者的收入变化
- B.生产者的技术水平变化
- C.消费者预期该商品的价格将上升
- D.该商品的价格下降

65. 关于交叉弹性, 正确的是 ()。

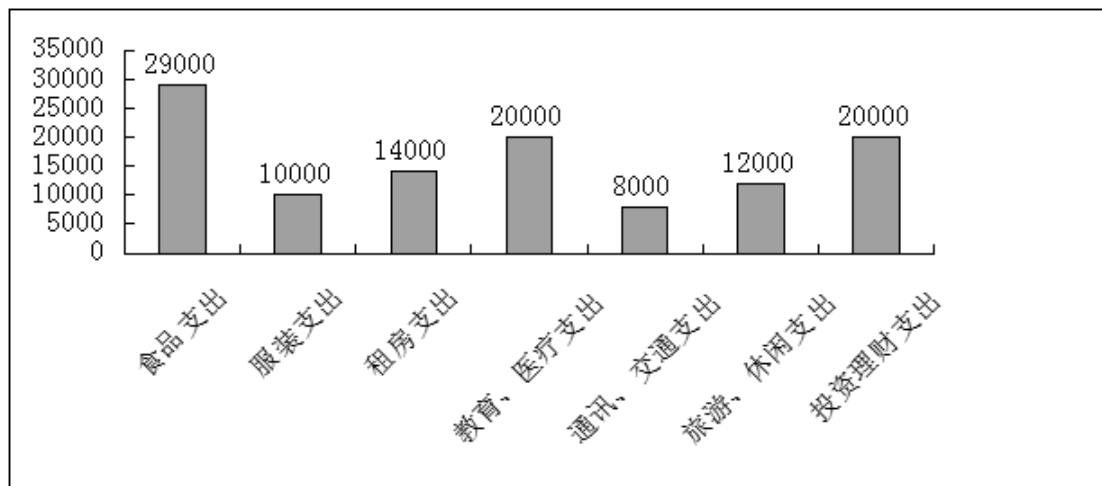
- A.交叉弹性可能是正值, 也可能是负值
- B.如果交叉弹性是正值, 说明这两种商品是互补品
- C.如果交叉弹性是正值, 说明这两种商品是替代品

D.如果交叉弹性是负值,说明这两种商品是互补品

E.如果交叉弹性是负值,说明这两种商品是替代品

66.某家庭 2012 年收入为 140000 元,支出情况详见下图,则以下说法错误的有()。

图:某家庭 2012 年支出情况(单位:元)



A.该家庭消费结构相对合理

B.该家庭恩格尔系数约为 31.2%

C.该家庭投资理财方式多样化

D.该家庭生活水平属于小康

E.该家庭恩格尔系数约为 25.7%

67.对于张某而言,牛奶对面包的边际替代率为 $1/4$,即一单位牛奶相当于 $1/4$ 单位面包,则()。

A.牛奶价格为 4,面包价格为 1 时,张某获得最大效用

B.牛奶价格为 1,面包价格为 4 时,张某获得最大效用

C.牛奶价格为 10,面包价格为 2 时,张某应增加牛奶的消费

D.牛奶价格为 10,面包价格为 2 时,张某应增加面包的消费

68.关于吉芬品的需求曲线,下列说法正确的有()。

A.吉芬品的需求曲线向右上方倾斜

B.商品价格下降,其替代效应为负值

C.商品价格下降,其收入效应为正值

D.商品价格下降,收入效应的绝对值大于替代效应的绝对值

69.关于短期成本曲线的说法,正确的有()。

A.总成本曲线从原点开始,并随产量的增加而逐步上升

B.总成本曲线从纵轴一个截点即产量为零时总成本等于固定成本的那个点开始,并随产量的增加而逐步上升

C.总可变成本曲线从原点开始,并随产量的增加而逐步上升

D.总可变成本曲线从纵轴一个截点即产量为零时总成本等于固定成本的那个点开始,随着产量增加而逐步上升

E.总固定成本曲线是平行于横轴的一条直线

70.一个完全竞争的市场结构，必须具备下列条件（ ）。

- A.市场上有很多生产者和消费者
- B.购买者和生产者对市场的信息不对称
- C.行业中厂商生产的产品是无差别的
- D.厂商和生产要素可以自由流动
- E.购买者和生产者对市场信息完全了解

71.下列行为中，属于经济学上的投资的是（ ）。

- A.企业因产品滞销而导致的存货增加
- B.个人建造的住宅
- C.个人购买的计算机
- D.个人在二级市场上购买的股票
- E.个人购买的文物

72.引起 LM 曲线向左方移动的原因是（ ）。

- A.物价水平不变，央行在公开市场上卖出债券
- B.物价水平不变，央行提高法定准备金率
- C.实际国内生产总值减少
- D.名义货币供给没有变动，但是物价水平提高

73.当社会总供给大于社会总需求时，为实施宏观调控而选择的财政政策工具包括（ ）。

- A.减少财政支出
- B.增加财政支出
- C.降低税率
- D.提高税率
- E.减少财政补贴

74.通货膨胀的再分配效应表现在（ ）。

- A.通货膨胀不利于固定收入者，有利于变动收入者
- B.通货膨胀不利于储蓄者，有利于实际资产持有者
- C.通货膨胀不利于债权人，有利于债务人
- D.通货膨胀不利于公众，有利于政府

75.菲利普斯曲线表明（ ）。

- A.失业率越低，通货膨胀率越低
- B.失业率越高，通货膨胀率越高
- C.失业率越低，通货膨胀率高
- D.失业率越高，通货膨胀率越低
- E.失业率与通货膨胀率存在负相关关系

三、判断题

76. 纸币之所以可以作为流通手段，是因为它本身具有内在价值。（ ）

77. 任何信用活动都会导致货币的变动。信用扩张会增加货币供给，信用紧缩将减少货币供给；信用资金的调剂将影响货币流通速度和货币供给的结构。（ ）

78. 现代信用活动的基础是现代经济运行过程中的盈余单位和赤字单位的存在。（ ）

79. 商业票据是提供商业信用的债权人, 为保证自己对债务的索取权而掌握的一种书面债券凭证, 它可以通过背书流通转让。()
80. 期票是由债权人开出, 命令债务人在一定时期内把一定金额的款项支付给第三者的命令书。()
81. 在现代经济中, 政府信用的作用日益增强, 这是由于政府的经济职能得到强化, 作为宏观经济的调节者和控制者对经济社会进行干预的结果。()
82. 银行本票在同城或异地均可使用。()
83. 回购协议中的资金需求方就是融出证券的一方, 也是回购协议到期必须支付一定货币将证券购回的一方。()
84. 金融债券是商业银行在金融市场上发行的, 按约定还本付息的有价证券。()
85. 道·琼斯股价指数是世界历史上最为悠久的股票指数。()
86. 商业票据贴现市场上的各种贴现形式, 表面上是票据的转让与再转让, 实际上是资金的融通。()
87. 基金托管业务是有托管资格的银行接受基金投资人的直接委托直接管理基金投资运作并安全保管基金资产的业务。()
88. 在几何图形上, 需求的变动表现为商品的价格——需求量组合点沿着同一条既定的需求曲线运动。()
89. 农产品需求一般来说缺乏弹性, 这意味着当农产品的价格上升时, 农产品总收益将减少。()
90. 当边际效用减少时, 总效用也是减少的。()
91. 正常物品的替代效应同价格呈同方向变动。()
92. 长、短期平均成本曲线都呈 U 形, 都是由边际报酬递减规律造成的。()
93. 完全竞争厂商的短期均衡条件是价格等于边际成本。()
94. 垄断竞争厂商的产品可以有差别, 也可以无差别, 因此厂商大多只能进行价格竞争。()
95. 充分就业和物价稳定是一致的, 两个目标一定可以同时实现。()
96. 住宅建筑是消费者的耐用品, 在国民收入账户中, 被作为消费者支出处理。()
97. 政府税收不具有自动稳定经济的作用。()
98. 物价稳定就是通货膨胀率为零。()
99. 通货膨胀发生时, 工薪收入者、退休金收入者、债权人成为受害人。()
100. 经济增长是指在一个较长的时间跨度上, 一个国家人均产出(或人均收入)水平的持续增加。()

四、综合单选题

101. 商家将儿童节视为赚钱的良机, 乃是出于逐利的本能, 瞅准了家长的弱点, 清楚他们为了孩子甘于“血拼”, 这符合商业的竞争法则, _____。可是, 家长却应擦亮眼睛, 辨清节日消费陷阱, 更不能将儿童节当做“血拼节”, 为了所谓孩子的快乐就不惜千金。
- A. 顺理成章 B. 问心无愧 C. 无可厚非 D. 勉为其难
102. 对于官员财产公开, 任何一个地方“_____”的勇气都应当被肯定。不过, 仍希望有更完整、配套以及全局性的官员财产公开办法出台, 以形成对这一制度的真正推动。

填入划横线部分最恰当的一项是：

- A.试水 B.试验 C.破冰 D.尝试

103.中国古代史籍把黄帝和炎帝时期作为中国历史的_____,但是古代文献中对黄帝、炎帝乃至尧舜禹时期的记述均为后代文献的_____,一般认为都属古史传说的范畴,不能作为信史来_____中华文明五千年。

- A.起源 追忆 验证 B.发端 补记 考证
C.肇始 追述 证明 D.滥觞 补充 考据

104.(1)据朝鲜媒体报道,其导弹已处于发射待命状态,已经锁定_____的目标坐标,只需一按键就可发射。

(2)“别看我上了年纪,心态可是_____着呢!”

(3)第十届中国艺术节在注重惠民、创新、交流和参与性的基础上,更_____节俭办节的原则,所有的演出者都是来自全国各地的群众。

填入划横线部分最恰当的一项是：

- A.精确 年青 遵从 B.精确 年轻 强调
C.精准 年青 遵从 D.精准 年轻 强调

105.值得肯定的是,与铁路货运改革方案相配套的机构改革、资源整合、人员转岗,已在全国各个铁路局推行,反响良好,说明这第一步迈得不错。然而,与其他改革一样,铁路改革不会_____,更难_____。在推进改革、赢得市场的同时,防止内部恶性竞争,防范运输安全事故,既是铁路应汲取的历史教训,也是新一轮改革路上的重大考验。

填入划横线部分最恰当的一项是：

- A.一步到位 一蹴而就 B.一路顺风 一举成功
C.顺风顺水 一步登天 D.一帆风顺 一蹴而就

106.下面空格处应该依次填入的词语,最恰当的是_____。

①因自然气候的变迁、无序的放垦、环境的污染和一些人为的因素,鄂尔多斯的生态环境遭受到严重破坏,这个曾经水草丰美、“风吹草地见牛羊”的富庶之地,其羊绒的品质近年来也在_____。

②一年一度的端午节,各地的民间习俗同多于异,如悬挂菖蒲艾草、佩香囊、赛龙舟、涂雄黄饮雄黄酒,吃咸蛋吃粽子、尝时令鲜果等,据说这些传统活动可以_____百病。

- A.蜕化 祛除 B.退化 祛除
C.退化 驱除 D.蜕化 驱除

107.对生命价值的认同度越高,社会对灾难的敏感度就会越高,五年前汶川地震的隐痛未消,所以芦山地震刚一发生,人们无法判断灾情大小,众多媒体人第一时间赶赴灾区,体现的正是媒体的责任和担当。正是媒体的及时详细报道,让灾情透明地呈现在人们面前。不能因为事后看起来灾情不如汶川地震那么严重,就认为舆论反应过度了。

作者想要说明的是：

- A.媒体对灾情的关注度不应取决于灾情的大小
B.芦山地震灾情因媒体的积极跟进而透明

C.媒体对芦山地震的高度关注来自职业敏感

D.媒体对芦山地震的反应没有过度

108.人骑自行车，两脚使劲踩 1 小时只能跑 10 公里左右；人开汽车，一脚轻踩油门 1 小时，能跑 100 公里；人坐高铁，闭上眼睛 1 小时也能跑 300 公里；人乘飞机，吃着美味 1 小时能跑 1000 公里。

这段文字给我们的启示是：

A.不同的交通工具有不同的服务效率

B.良好的环境和条件是一个人成功的必要条件

C.应该大力发展现代交通工具

D.一个人的发展平台不同，结果也可能不同

109.中国各行业的“德”如今都多少出了问题，除了官德频遭批评外，医德是行业道德中饱受诟病者之一。全国有 200 多万医师，针对他们的职业道德的标准既很容易列出来，又有很多强大的现实因素有可能把它们变成贴在墙上的一张纸。行业的普遍道德问题往往有着深刻的原因，在一个行业开展“教育”，通常要比惩罚它的个别败坏分子难得多。

对“把它们变成贴在墙上的一张纸”理解正确的是：

A.对医师职业道德的监督知易行难

B.医师职业道德标准成为一纸空文

C.作为管理制度，医师职业道德标准要上墙

D.医生职业道德标准制度化

110.“中国式过马路”引发了“国人素质差”的论调。但事实上，中国式路权分配中，行人等待红灯的时间过长是一大问题。经研究，英国行人可忍受等待时间为 45~60 秒，德国人的忍耐限度是 60 秒，杭州行人可忍受等待时间为 70~90 秒。相关调查显示，杭州市区红灯时长普遍超过 100 秒，最长达 145 秒；在京沪等一线城市行人过街等待时间超过 120 秒甚至 180 秒。2010 年上海最牛交警英文怒斥外国人闯红灯的视频红遍网络，可见，在中国的这种交通管理制度下，被公认为素质高的外国人也会无视红灯，来一把“中国式过马路”。

对文段的语意理解不恰当的一项是：

A.对于一些社会现象，仅从道德角度进行评判过于武断

B.中国式交通管理制度造成国人素质差的问题，亟待改善

C.国人素质差的论调有失公允，要客观、科学分析再下结论

D.等红灯时间过长是引发“中国式过马路”最直接的原因

111.如果能够做好南极生态环境的承受力评估，并严格执行有关规定，南极旅游造成的生态影响就可以得到有效控制。因为与南极大陆极为广袤的地域相比，游客活动的地域仅为总面积的 3% 左右。而如何管理好长期设在南极的科考站，才是更为棘手的问题，尤其是一些被废弃的科考站，已对南极生态环境造成了新的威胁。

这段文字意在强调：

A.南极生态环境评估的意义

B.南极生态旅游的发展前景

C.南极生态环境管理机制的必要性

D.南极科考站对当地生态环境的影响

112.1996年,意大利帕尔马的脑科学研究人员发现,在猴子大脑里存在一种特殊的细胞,叫镜像神经元。让猴子看到或听到一个动作,当它自己做这一动作时,这些细胞会兴奋。后来的研究证明,人脑中也有这种镜像神经元,能够感受对方的害怕和愤怒、难过和恶心;复杂的感受如害羞、孤独和不受欢迎,也都能够通过镜像神经元明显地感受到。当我们看到别人的表情或者经历过的情感状态,镜像神经元就会被激活,让我们体验到他人的感受,走进别人的情感世界。

最适合做这段文字标题的是:

A.“同情”的魔力

B.何谓神经元

C.脑科学的新发现

D.“爱”的潜在根源

113.下列各句中,没有语病的一项是:

A.北京的雾霾天气持续了近一个月,中国机动车污染防治委员会副主任说,政府的当务之急就是在于控制好那些尾气超标数十倍的车辆

B.今年仍是“民生改善年”,我市八个调研组分别深入到各区县、社区和居民家中,听取群众意见,充实、完善和修改为民办实事的具体方案

C.面对每逢节日快递运力紧张的局面,我国快递业应尽快提高从业人员的本地化比例,将采用加盟模式的民营快递企业转型为自营为主的模式

D.正如远缘杂交可培育出品质更为优秀的后代一样,表面上隔行如隔山的不同专业、不同学科的交流,往往能撞击出天才的思想火花

114.目前,我国正在进行文化体制改革与经济结构调整,发展文化经济有助于经济结构调整。换言之,_____。文化发展了,经济也就转型升级了,文化份额的增加和文化产品质量的提高对一个国家和地区经济的转型升级有巨大的直接作用。

填入上文空白处的语句,衔接最好的一项是:

A.加快我国经济转型升级,应当多从文化上寻找出路

B.文化经济在经济结构中处于重中之重的地位

C.经济结构决定文化发展,文化产业促进经济进步

D.发展文化经济是调整 and 改革我国经济结构的前提

115.①第一本防水平装书还将拥有强大的防伪功能

②澳大利亚的银行现在已经使用该项技术来延长纸币的使用寿命,同时减少伪造的风险

③英国出版商近日透露,世界上第一本防水平装书有望明年夏天上架销售

④书的外面还有一层防撕毁的坚韧的聚合物涂层,整本书的架上寿命可以由此增加两倍

⑤据了解,防水平装书将采用先进的防水技术,外面包裹透明的蜡封,这样即便书潮湿了,字迹也不会模糊,书页也不会损毁

⑥这将是此技术首次应用于普通平装书。目前,只有专业的潜水用书可以做到完全防水

将以上6个句子重新排列,语序正确的是:

A.③⑤④⑥①②

B.③①②⑤④⑥

C.⑤①②④⑥③

D.⑤④⑥②①③

116. -26, -6, 2, 4, 6, ()

A.16

B.12

C.14

D.6

117. 1, 5, 5, 25, 25, 45, 125, ()

A.45

B.65

C.125

D.150

118. 1+3, 2+2, 1+1, 2+3, 1+2, 2+1, ()

A.2×2

B.2+3

C.3×1

D.1+3

119. 有一个上世纪 80 年代出生的人, 如果他能活到 80 岁, 那么有一年他的年龄的平方数正好等于那一年的年份。问此人生于哪一年?

A.1980 年

B.1983 年

C.1986 年

D.1989 年

120. 两口圆柱形水井, 甲井的水深是乙井的一半, 水面直径是乙井的 2 倍, 蓄水量为 40 立方米。问乙井的蓄水量为多少立方米?

A.20

B.40

C.60

D.80

121. 某班级去超市采购体育用品时发现买 4 个篮球和 2 个排球共需 560 元, 而买 2 个排球和 4 个足球则共需 500 元。问如果篮球、排球和足球各买 1 个, 共需多少元?

A.250 元

B.255 元

C.260 元

D.265 元

122. A、B、C、D 四人去羽毛球馆打球, A 每隔 5 天去一次, B 每隔 11 天去一次, C 每隔 17 天去一次, D 每隔 29 天去一次。5 月 18 日, 四个人恰好在羽毛球馆相遇, 则下一次相遇的时间为:

A.9 月 18 日

B.10 月 14 日

C.11 月 14 日

D.12 月 18 日

123. 甲工人每小时可加工 A 零件 3 个或 B 零件 6 个, 乙工人每小时可加工 A 零件 2 个或 B 零件 7 个。甲、乙两工人一天 8 小时共加工零件 59 个, 甲、乙加工 A 零件分别用时为 x 小时、y 小时, 且 x、y 皆为整数, 两名工人一天加工的零件总数相差:

A.7 个

B.6 个

C.5 个

D.4 个

124. 南阳中学有语文教师 8 名、数学教师 7 名、英语教师 5 名和体育教师 2 名。现要从以上四科教师中各选出 1 名教师去参加培训, 问共有几种不同的选法?

A.96 种

B.124 种

C.382 种

D.560 种

125. 某网店以高于进价 10% 的定价销售 T 恤, 在售出 $\frac{2}{3}$ 后, 以定价的 8 折将余下的 T 恤全部售出, 该网店的预计盈利为成本的:

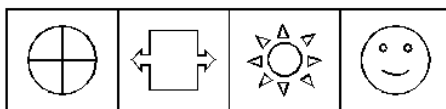
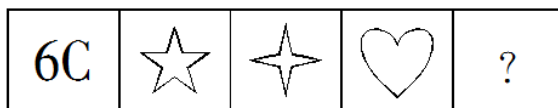
A.1.6%

B.2.7%

C.3.2%

D.不赚也不亏

126. 从所给的四个选项中, 选择最合适的一个填入问号处, 使之呈现一定的规律性。



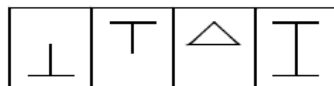
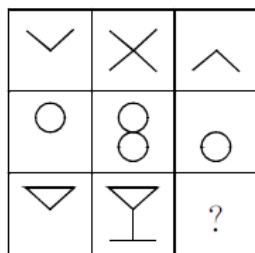
A B C D

127. 从所给的四个选项中，选择最合适的一个填入问号处，使之呈现一定的规律性。




A B C D

128. 从所给的四个选项中，选择最合适的一个填入问号处，使之呈现一定的规律性。



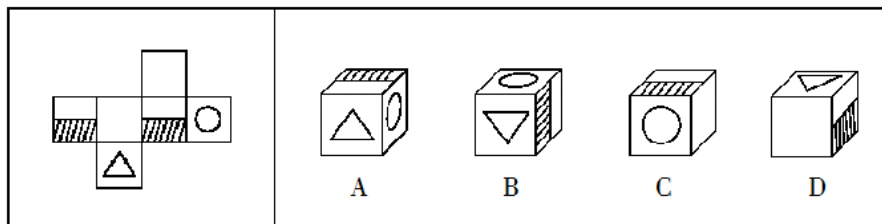
A B C D

129. 从所给的四个选项中，选择最合适的一个填入问号处，使之呈现一定的规律性。



A B C D

130. 左边给定的是纸盒的外表面，右边哪一项能由它折叠而成？



131. 英、红、燕三个人讨论一数学题，当她们都把自己的解法说出来以后，英说：“我做错了。”红说：“英做对了。”燕说：“我做错了。”老师看过她们答案并听了她们的上述意见后说：“你们三个人只有一个做对了，只有一个说对了。”

那么，做对了的人是：

- A. 红 B. 英 C. 燕 D. 不能确定

132. 年终发福利，第三中学计划按每个教师的工资涨 10% 发放，而第七中学计划按每个教师的工资涨 8% 发放。因此，第七中学的平均工资的上涨低于第三中学的平均工资。

上述结论如果为真，下列哪项能够加强论证？

- A.第七中学的最高工资和最低工资都分别小于第三中学的最高工资和最低工资
- B.第七中学的教师要比第三中学教师的数量多
- C.第三中学的师资力量强于第七中学的师资力量
- D.目前第七中学的平均工资低于第三中学的平均工资

133.小方在计算机安全中心存储了用户名、账户密码和指纹密码三项信息。当登陆操作系统时，安全中心首先要鉴别这台计算机的指纹密码是否正确，输入的用户名是否存在，账户密码是否正确，如果三项信息均正确，则允许登陆；如果以上信息有一项不正确，那么安全中心就会拒绝这个用户从这台计算机登陆。小方输入的用户名是正确的，但是安全中心拒绝小方登陆。

由此可以推出：

- A.小方输入的账户密码和指纹密码都是错误的
- B.如果小方的指纹密码是错误的，那么他输入的账户密码是正确的
- C.如果小方的账户密码是正确的，那么他输入的指纹密码是错误的
- D.只有小方输入的账户密码是正确的，他的指纹密码才是正确的

134.每年的10月各大高校都会推选免试研究生，某高校规定，只有在全系成绩排在前十名的学生才有资格做免试生的候选人，而如果想要推选免试成功，则必须要自己去联系导师。但是这并不意味着所有联系到导师的人都会推免成功，只有综合考察全系排名前五名的人才能推免成功。

根据以上信息，下列结论正确的是：

- A.成绩排在全系前十名的学生都能够推免成功
- B.推免成功的研究生综合考察全系排名一定在前五名
- C.联系到导师的人都能够推免成功
- D.成绩排名全系第十名的学生一定不能推免成功

135.一项全球范围的调查显示，近10年来：吸烟者的总数基本保持不变；每年只有10%的吸烟者改变自己的品牌，即放弃原有的品牌而改吸其他品牌；烟草制造商用在广告上的支出占其毛收入的10%。在Z烟草公司的年终董事会上，董事A认为，上述统计表明，烟草业在广告上的收益正好等于其支出，因此，此类广告完全可以不做。董事B认为，由于上述10%的吸烟者所改吸的香烟品牌中几乎不包括本公司的品牌，因此，本公司的广告开支实际上是笔亏损性开支。

以下哪项，如果为真，能构成对董事B的结论的质疑？

- I.如果没有Z公司的烟草广告，许多消费Z公司品牌的吸烟者将改吸其他品牌。
- II.上述改变品牌的10%的吸烟者所放弃的品牌中，几乎没有Z公司的品牌。
- III.烟草广告的效果之一，是吸引新吸烟者取代停止吸烟者（死亡的吸烟者或戒烟者）来消费自己的品牌。

- A.只有I
- B.只有II
- C.只有III
- D.I、II和III

136.直觉思维是指行为步骤和思维过程不明确、不清晰，对某些现象或者问题直接地迅速地作出某些猜想、假设或判断的思维。

下面哪一个是典型的直觉思维？

- A.公安刑警根据收集到的证据，对案件进行分析
- B.军事指挥员根据侦察兵的情报材料作出军事决策
- C.根据所学过的知识解答考试时的难题
- D.医生根据病人的口述材料，迅速地作出疾病的诊断
- 137.所谓诬告陷害罪是指捏造事实诬告陷害他人，意图使他人受刑事追究，情节严重的行为。根据上述定义，下列行为构成诬告陷害罪的是：
- A.乙捏造“文某强奸幼女”的事实，并向司法部门举报
- B.甲与丁某长期不和，便捏造丁某包养情人并匿名举报，使丁某与妻子离婚
- C.丙捏造同事万某受贿 10 万元的事实，并印刷大量传单在县城的大街小巷张贴
- D.丁匿名举报李某抢劫他人 50 万元。事后查明，李某只抢劫了 5000 元
- 138.春花：秋月：江南
- A.报名：考试：人生
- B.领导：群众：工作
- C.青山：绿水：古城
- D.白云：蓝天：快乐
- 139.但丁：米开朗琪罗
- A.薄伽丘：拉伯雷
- B.雨果：乔托
- C.司汤达：达芬奇
- D.莎士比亚：狄更斯
- 140.自信：心理
- A.动物：蜜蜂
- B.矿泉水：饮料
- C.自满：失败
- D.啤酒：粮食

五、资料分析

根据以下资料，回答 141~145 题。

表 2012 及 2013 年 1-4 月某市电影院线票房情况

	场次{万场次}		观众人次{百万人次}		票房收入{亿元}	
	2012 年	2013 年	2012 年	2013 年	2012 年	2013 年
1 月	9.77	10.91	3.19	3.50	1.28	1.47
2 月	9.02	9.79	2.89	3.36	1.19	1.54
3 月	9.47	11.07	2.18	3.17	0.88	1.34
4 月	8.87	11.13	3.08	3.72	1.41	1.56

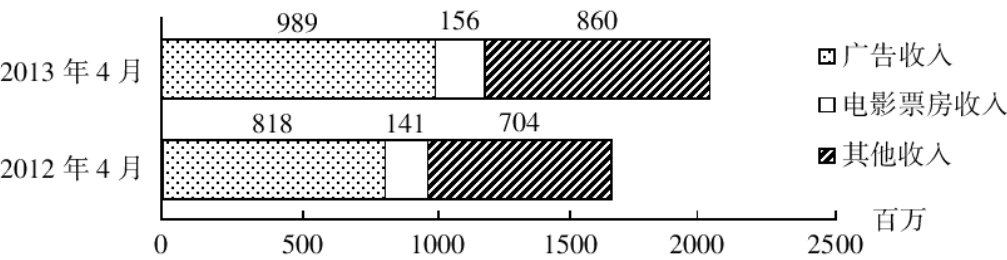


图 2012 及 2013 年 4 月该市广播影视主要创收情况

141.2013 年 1~4 月, 该市电影院线平均每场电影观众人数最少的月份是:

- A.1 月 B.2 月
C.3 月 D.4 月

142.2013 年第一季度, 该市电影院线平均每场电影的票房收入约为多少元?

- A.1170 B.1370
C.1570 D.1770

143.2013 年 1~4 月, 该市电影院线票房收入同比增量从高到低排序正确的是:

- A.3 月—2 月—1 月—4 月 B.4 月—2 月—1 月—3 月
C.3 月—4 月—2 月—1 月 D.4 月—3 月—1 月—2 月

144.2012 年 1~4 月, 该市平均每天观看电影的观众超过 10 万人次的月份有几个?

- A.1 B.2
C.3 D.4

145.关于 2013 年 4 月该市广播影视情况, 能够从资料中推出的是:

- A.广告收入同比上升了近两成
B.电影观众人次环比增速下降
C.电影票房收入同比增速快于其他收入
D.电影播放场次环比增速慢于同比增速

根据以下资料, 回答 146~150 题。

表 1 2008~2012 年国家电网公司机组并网容量

单位:万千瓦

	2008 年	2009 年	2010 年	2011 年	2012 年
并网总容量	61300	67100	74400	81800	88000
其中:清洁能源机组并网容量	13524	15357	17585	20260	24004
其中:水电并网容量	12214	13419	14458	15617	16816
核电并网容量	507	507	574	640	640
新能源发电机组并网容量	803	1431	2553	4003	6548

表 2 2008~2012 年国家电网公司并网机组上网电量

单位:亿千瓦时

	2008 年	2009 年	2010 年	2011 年	2012 年
总上网电量	22800	24300	28800	32400	33900
其中:清洁能源机组上网电量	4161	4321	4903	5943	7177
其中:水电上网电量	3662	3692	4103	4373	5518
核电上网电量	353	355	308	416	475
新能源发电机组上网电量	146	274	492	1154	1184

146.下列年份中, 国家电网公司并网机组总上网电量同比增速最快的是:

- A.2012 年 B.2011 年

C.2010 年

D.2009 年

147.2012 年清洁能源机组并网容量占当年并网机组总容量的比重比上年:

A.上升了 2.5 个百分点

B.下降了 2.5 个百分点

C.上升了 5.5 个百分点

D.下降了 5.5 个百分点

148.下列年份中,清洁能源机组上网电量占当年并网机组总上网电量比重最高的是:

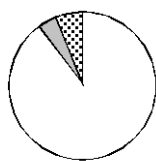
A.2011 年

B.2012 年

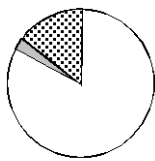
C.2008 年

D.2009 年

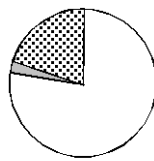
149.下列哪一张图能反映 2012 年清洁能源机组并网容量中水电、核电和新能源发电的构成?



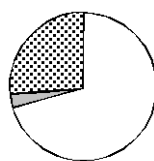
A



B



C



D

150.关于 2008~2012 年间国家电网公司清洁能源的发展,能够从资料中推出的是:

A.核电上网电量保持持续增长

B.新能源发电机组并网容量翻了 8 番

C.水电上网电量年均增长率超过同期水电并网容量

D.新能源发电机组上网电量从 2011 年开始超过核电上网电量