

2016 国家电网招聘考试模拟卷

第一部分 常识判断

1. 下列说法不正确的是（ ）。
 - A. 红外线是太阳光线中众多不可见光线中的一种
 - B. 人类社会发展史上第一次科技革命的标志是蒸汽机的发明
 - C. 人体内不能再生的细胞是神经细胞
 - D. 信息技术以电波技术为基础
2. 张军是精神病人，某天突然持菜刀追杀同村的张秀芳，将她逼到一间旧房子里，张秀芳无路可逃，顺手抓起一个花瓶打向张军，致使张军的眼睛受伤致瞎，张秀芳的行为属于（ ）。
 - A. 故意伤害
 - B. 紧急避险
 - C. 防卫过当
 - D. 正当防卫
3. 下列关于生态系统中物质循环和能量流动的叙述，正确的是（ ）。
 - A. 富营养化水体中出现蓝藻水华的现象，可以说明能量流动的特点
 - B. 生态系统中能量的初始来源只有太阳能
 - C. 食物链各营养级中 10%-20% 的能量会被分解者利用
 - D. 无机环境中的物质可以通过多种途径被生物群落反复利用
4. 四大发明中与宗教有关的是（ ）。
 - A. 指南针
 - B. 造纸术
 - C. 火药
 - D. 印刷术
5. 下列人物与各项主张、言论对应不正确的是（ ）。
 - A. 卢梭——人民主权
 - B. 梁启超——民主共和
 - C. 孔子——己所不欲，勿施于人
 - D. 孙中山——民族、民权、民生
6. “一千个读者，就有一千个哈姆雷特”中的“哈姆雷特”原指莎士比亚的悲剧《哈姆雷特》中的主人公，国籍是（ ）。
 - A. 英国
 - B. 法国
 - C. 丹麦
 - D. 德国
7. 下列有关新陈代谢的表述不正确的是（ ）。
 - A. 光合作用属于绿色植物新陈代谢的过程
 - B. 生物的新陈代谢过程都需要氧气的参与
 - C. 新陈代谢既有能量交换又有物质转化
 - D. 能否进行新陈代谢是区分生物与非生物标准之一
8. 下列关于我国名胜古迹的说法，错误的是（ ）。

A.保和殿俗称金銮殿，为故宫“三大殿”之首，建立在五米高的汉白玉台基上，台基四周矗立着雕龙石柱，是宫殿群中最大的建筑

B.长江三峡西起重庆奉节的白帝城，东到湖北宜昌的南津关，是瞿塘峡、巫峡和西陵峡三段峡谷的总称，是长江上最为奇秀壮丽的山水画廊

C.嘉峪关是明代长城最西端的起点，是目前保存最完整的一座城关，有天下第一雄关的美名，也是丝绸之路上的重要一站

D.秦始皇陵是中国历史上第一位皇帝的陵墓，秦始皇兵马俑陪葬坑是世界最大的地下军事博物馆

9.下列名言与名人关系对应错误的一项是（ ）。

A.莫愁前路无知己，天下谁人不识君——高适

B.洛阳亲友如相问，一片冰心在玉壶——王昌龄

C.三十功名尘与土，八千里路云和月——岳飞

D.王师北定中原日，家祭无忘告乃翁——苏东坡

10.古人把东、北、西、南四方每一方想象为四种动物形象，叫做四象。四象在中国传统文化中指青龙、白虎、朱雀、玄武，分别代表东西南北四个方向。它源于中国古代的（ ）。

A.图腾崇拜

B.远古传说

C.炼丹术

D.星宿信仰

11.下列作品与评价对应不正确的是（ ）。

A.《桃花扇》——借离合之情，写兴亡之感

B.《石头记》——满纸荒唐言，一把辛酸泪

C.《儒林外史》——一部儒林，终之以琴，滔滔天下，谁是知音

D.《聊斋志异》——使神魔皆有人情，精魅亦通世故

12.下列关于风的形成原因，表述正确的是（ ）。

A.空气上升与下降的对流运动

B.水平方向上气压的差异

C.地势高低的不同

D.不同高度空气的密度不同

13.红外线是太阳光线中众多不可见光线的一种，由德国科学家霍胥尔于 1800 年发现。它之所以不能被人看到是因为（ ）。

A.超出了可见光谱范围

B.低于视觉刺激阈限

C.不能刺激锥体细胞

D.不能刺激棒体细胞

14.有氧运动是指人体在氧气充分供应的情况下进行体育锻炼。即在运动过程中，人体吸入的氧气与需求相等，达到生理上的平衡状态。有关有氧运动，下列说法错误的是（ ）。

A.是不是“有氧运动”，衡量的标准是心率

B.有氧运动强度低，有节奏，持续时间较长

C.有氧运动越多越好

D.快走、慢跑、游泳、健身操、骑自行车等项目属于有氧运动

15.2014 年 2 月 14 日，从北京航天飞行控制中心获悉：嫦娥二号卫星再次刷新我国深空探测新高度，目前已飞离地球 7000 万公里，成为我国首个人造太阳系小行星的嫦娥二号卫星，目前状态良好，正在绕日轨道上飞向更远的深空。嫦娥，原称姮娥，神话中的人物，是后羿的妻子。其美貌非凡，后飞天成仙，住在月亮上的仙宫。下列选项中与描写嫦娥无关的诗句是（ ）。

- A.不是昔年攀桂树，岂能月里索嫦娥
- B.云母屏风烛影深，长河渐落晓星沉
- C.寂寞嫦娥舒广袖，万里长空却为忠魂舞
- D.家家乞巧望秋月，穿尽红丝几万条

16.某跳伞运动员在下落过程中，看到身旁的直升机在向上运动，则以地面为参照物，直升机的运动情况是（ ）。

- A.一定上升
- B.一定下降
- C.一定静止
- D.无法判断

17.普通电池上显示的符号“AA”或“AAA”表明意思是（ ）。

- A.电池的安培数
- B.电池的型号
- C.电池的质量标准
- D.电池的国际标号

18.自然界中的色彩五彩缤纷，其中红黄蓝是三原色，黄色和蓝色相互融合可形成（ ）色。

- A.红
- B.绿
- C.紫
- D.黑

19.海洋技术的两个标志性技术是（ ）。

- A.海水淡化和远洋捕捞
- B.海上采油和海水淡化
- C.深海挖掘和海水淡化
- D.深海挖掘和海水养殖

20.关于可燃冰，下列说法错误的是（ ）。

- A.分布于深海沉积物或陆域的永久冻土中
- B.是由天然气与水在高压低温条件下形成的类冰状结晶物质
- C.开采过程中必须有效实现对温度和压力条件的控制
- D.其规模化利用将有效缓解温室效应

第二部分 数量关系

21. 73, 65, 57, (), 41

- A.49
- B.5
- C.43
- D.53

22. 1, 2, 3, 6, 12, 24, ()

- A.48
- B.45
- C.36
- D.32

23. 2, 3, 6, 18, 108, ()

- A.2160
- B.1944
- C.1080
- D.216

24. 2, 3, 10, 15, 26, ()

- A.30
- B.35
- C.38
- D.57

25. $\frac{1}{3}, \frac{2}{5}, \frac{4}{9}, (), \frac{16}{23}, \frac{32}{33}$

A. $\frac{6}{13}$

B. $\frac{8}{15}$

C. $\frac{10}{17}$

D. $\frac{12}{19}$

26. 4, 11, 6, 13, 8, (), 10

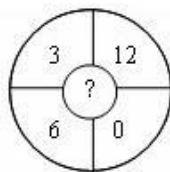
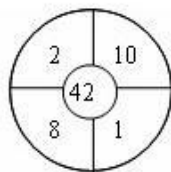
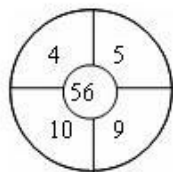
A. 15

B. 16

C. 17

D. 18

27.



A. 21

B. 42

C. 36

D. 57

28 在偏远山区某小学，老师正在发放教科书，只购买 65 本教科书，需要每两个学生合用一本数学书，每三个学生合用一本语文书，四个学生合用一本英语书。学生数为：

A. 24

B. 60

C. 48

D. 52

29. 店以高于进价 10% 的定价销售 T 恤，在售出 $\frac{2}{3}$ 后，以定价的 8 折将余下的 T 恤全部售出，

该网店的预计盈利为成本的：

A. 1.6%

B. 2.7%

C. 3.2%

D. 不赚也不亏

30. 一个班里有 30 名学生，有 12 人会跳拉丁舞，有 8 人会跳肚皮舞，有 10 人会跳芭蕾舞。问至多有几人会跳两种舞蹈？

A. 12 人

B. 14 人

C. 15 人

D. 16 人

31. 有一个白色的盒子，一个红色的盒子，从白色盒子取出 $\frac{1}{3}$ 的球放入红色盒子内，再从红色盒子内取出 $\frac{1}{5}$ 的球放到白色盒子内，最后两个盒子内的球的个数都为 24，问原来白色，红色盒子内各有多少个球？

A. 21, 27

B. 27, 21

C. 15, 33

D. 36, 12

32 抽屉里有黑白袜子各 10 只，如果你在黑暗中伸手到抽屉里，最少要取出几只，才一定会有一双颜色相同？

A. 2

B. 3

C. 4

D. 5

33 公司安排甲、乙两人翻译一本书，如果甲单独来完成，需要 15 天，如果乙单独来完成，需要 10 天。假设甲先自己翻译了 5 天，然后乙加入进来，可是在最后两天因为其他的任务乙又离开了，请问这本书的翻译工作一共需要 () 天。

A. 11

B. 12

C. 13

D. 14

34 个兴趣小组的女生原来占全组人数的 $\frac{1}{3}$ ，后又调来 6 名女生，就占了全组人数的一半，这个

小组原来有（ ）

- A.19 人 B.18 人 C.21 人 D.16 人

35.有 4 个数，它们的和是 180，且第一个数是第二数的 2 倍，第二个数是第三个数的 2 倍，第三个数又是第四个数的 2 倍，问第三个数应是多少？

- A.42 B.24 C.21 D.12

36.在一个牧场内有若干头牛和若干匹马，已知牛的数量与马的数量之比为 5：3，且牛的数量比马多 20。则牛和马共有：

- A.60 B.70 C.80 D.90

37.甲乙两人以匀速绕圆形跑道相向跑步，出发点在圆直径的两端。如果他们同时出发，并在甲跑完 60 米时第一次相遇，乙跑完一圈还差 80 米时两人第二次相遇，求跑道的长是多少米？

- A.200 B.400 C.800 D.1600

38.体育课玩跳格子游戏，规则是每次前进 4 格后退 1 格，场地上一字形摆了 13 个格子，小明从头跳到最后一格一共需要几次？

- A.5 B.6 C.7 D.8

39.有 100 克溶液，第一次加入 20 克水，溶液的浓度变为 50%；第二次再加入 80 克浓度为 40% 的同种溶液，则溶液的浓度变为（ ）。

- A.45% B.47% C.48% D.46%

40.一扇玻璃门连门框带玻璃共重 80 公斤，如果门框和玻璃的材质都不变但将玻璃厚度增加 50%，重量将达到 105 公斤。则门框重多少公斤？

- A.20 B.25 C.30 D.35

第三部分 言语理解与表达

41.所谓网络戏谑文化，是网民长期以来在互联网上形成的一种话语表达方式，不知从何时起，中国互联网拥有了一种特殊的语境，很多时候，反讽和隐喻比_____更有力，嬉笑的态度比严肃的发言更接近事情本质，戏谑的效果通常是通过猛烈的反差和鲜明的对比才得以形成的。

填入划横线部分最恰当的一项是：

- A.轻描淡写 B.开门见山 C.直抒胸臆 D.指桑骂槐

42.所谓“市场经济”是法治经济，就是倡导用法治思维和法律手段解决市场经济发展中的问题，通过立法、执法和司法以及法律服务_____经济关系、_____经济行为、指导经济运行、维护经济秩序、推动经济发展，使市场经济在法治的轨道上_____有序发展。

依次填入划横线部分最恰当的一项是：

- A.调整 规范 健康 B.调节 优化 平稳
C.整顿 约束 井然 D.理顺 调控 健全

43.优秀的企业需要什么样的员工？他们需要的不仅仅是_____的员工，更需要员工发挥其聪明才智，如果领导者不能充分信任员工、激励员工，很多员工并不会多走一步，主动承担责任，为企业做出额外的贡献。即使员工能对上司的吩咐一五一十地执行，不会消极怠工，但也绝不会主动_____。

依次填入划横线部分最恰当的一项是：

- A.朝气蓬勃 完成 B.兢兢业业 工作
C.脚踏实地 改进 D.言听计从 创新

44.城市化，在当下中国人的脑海中，有着特别丰富的想象。它是_____现代化巨轮远航的飘扬的旗帜，它是_____全球化大国崛起的神奇的支点，它是普通中国人从传统走向未来的一个璀璨的梦想。

填入划横线部分最恰当的一项是：

- A.高举 鼓动 B.引领 撬动
C.高昂 带动 D.启动 振奋

45.立夏之日，傍晚的星空可以用“北斗上升，狮子临空，双角东守，猎户西行”来概括。意思是北斗七星已经挂在北天的高空，狮子座升入了正空，代表东方苍龙的大角星和角宿星，仍然_____着东方的天空，而冬天的代表星座——猎户座正在西方渐渐_____。

依次填入划横线部分最恰当的一项是：

- A.看护 暗淡 B.保护 沉隐
C.庇护 消逝 D.守护 隐没

46.如果全球变暖导致海平面大幅上升，和其他国家一样，中国将要_____被海水淹没地区的人口，特别是长江下游河段，或者建造大坝保护地处低洼地区的沿海城市，这些都需要巨大的花费。中国和其他国家面临的挑战是限制二氧化碳的排放，从而_____全球变暖所导致的最坏结果的发生，这在未来 20 年里更加重要。

依次填入划横线部分最恰当的一项是：

- A.转移 阻止 B.控制 避免
C.延缓 减少 D.安置 改变

47.城市环境和市民的生活方式是互相_____的。非汽车城市的环境，往往给运动留下诸多_____，鼓励人们从事体育锻炼。大家都喜欢户外运动，因而更加珍惜环境，愿意把一切都维护成这样。有了环境，则又_____更多的人参与户外运动，使更多的人关心环境。这就形成了良性循环。

依次填入划横线部分最恰当的一项是：

- A.融合 可能 促使 B.塑造 便利 刺激
C.补充 空间 迫使 D.促进 便捷 导致

48.灾难性事件往往以突发的方式出现，给个人与社会造成巨大的破坏和影响。灾难的突发性决定了报道的_____是第一位的。最快的时间、最新的报道，才能满足人们在灾难发生后对_____的迫切需求和思想混乱时的心理需求。能否快速地投入新闻报道成为决定此类新闻报道能否成功的关键。

依次填入划横线部分最恰当的一项是：

- | | | | |
|------|----|------|----|
| A.内容 | 真相 | B.方式 | 沟通 |
| C.实效 | 事实 | D.速度 | 信息 |

49.一位批评家如果不对几种艺术门类有较为浓厚的欣赏兴趣，很难说他对小说评论会有准确的判断力。一个人艺术鉴赏力的培养，通常是_____、相互影响的。文学批评的思想性的建构，基本要义也应该是在艺术修养的_____之中逐渐获得，而不是像一些人理解的单靠_____一点理论概念名词，或单靠翻阅几本理论书籍就能解决。

依次填入划横线部分最恰当的一项是：

- | | | |
|--------|----|----|
| A.触类旁通 | 熏陶 | 搬弄 |
| B.相辅相成 | 沉浸 | 掌握 |
| C.潜移默化 | 培养 | 运用 |
| D.融会贯通 | 陶冶 | 创造 |

50.周敦颐通过自己的努力，丰富和发展了儒学思想理论体系，开拓了儒学发展的新境界，使之_____，一扫魏晋南北朝及隋唐五代的_____，回归到原有的正统地位，赢得了与释、道竞争的全面胜利，取得了意识形态的主导权。

依次填入划横线部分最恰当的一项是：

- | | | | |
|--------|----|--------|----|
| A.独树一帜 | 弊端 | B.柳暗花明 | 萧条 |
| C.脱胎换骨 | 落寞 | D.焕然一新 | 颓势 |

51.学问是每每互相关联的，读一本有趣的书，必定由一问题引起其他问题，由看一本书而引导你去找其他书，如此循序渐进，积淀融合，自然可以_____，融会贯通。

填入划横线部分最恰当的一项是：

- | | | | |
|--------|--------|--------|--------|
| A.温故知新 | B.升堂入室 | C.遐迩闻名 | D.集思广益 |
|--------|--------|--------|--------|

52.对于上海“甜爱路”上出现的种种涂鸦图案和文字，是简单地、一味地去阻止或_____，还是_____其存在和发展，也在_____我们的城管理念。

依次填入划横线部分最恰当的一项是：

- | | | | | | |
|------|----|----|------|----|----|
| A.取消 | 鼓励 | 试验 | B.无视 | 重视 | 拷问 |
| C.打击 | 包容 | 质问 | D.取缔 | 允许 | 考验 |

53.上个世纪 40 年代，美国的大众媒介处于垄断地位。在商业利益的驱使下，媒体对于国内的各类社会矛盾_____，这种状况招致了社会各界的批评与不满，广大民众强烈要求传媒积极发挥正面的舆论导向作用，引导公民树立正确的价值观念，由此，“媒体的社会责任理论”_____。

依次填入划横线部分最恰当的一项是：

- A.莫衷一是 纷至沓来 B.置若罔闻 应运而生
C.群策群力 风靡一时 D.人云亦云 横空出世

54.传媒业界认为：中国杂志业存在巨大发展空间的根本原因在于正在_____的中产阶级及他们多元化的生活方式将_____大量细分杂志。

依次填入划横线部分最恰当的一项是：

- A.崛起 催生 B.觉醒 派生
C.聚集 分化 D.裂变 衍生

55.在粮价出现上涨时，政府应当作出重要反应是，密切关注粮食市场动向，防止不法粮商_____囤积居奇，哄抬粮价，扰乱市场，既损害城镇居民的利益，也严重影响农民的利益。政府还要正确_____舆论；不要使诸如“暴涨”之类的字眼，在社会上引起完全没有理由出现的_____。

依次填入划横线部分最恰当的一项是：

- A.乘势 引导 惊慌 B.借机 引导 恐慌
C.借机 指导 恐慌 D.乘势 指导 惊慌

56.信息时代，信息的存在形式与以往的信息形态不同，它是以声、光、电磁、代码等形态存在的。这使它具有“易转移性”，即容易被修改、窃取或非法传播和使用，加之信息技术应用日益广泛，信息技术产品所带来的各种社会效应也是人们始料未及的。在信息社会，人与人之间的直接交往大大减少，取而代之的是间接的、非对面的、非直接接触的新式交往。这种交往形式多样，信息相关的行为难以用传统的伦理准则去约束。

作为一篇文章的引言，这段文字后面将要谈论的内容最可能是：

- A.信息存在形式的更新 B.信息社会与信息伦理
C.人际交往形式的多样化 D.信息技术产品与生活方式

57.参与大火都是古代妇孺皆知的星相。夏族对参的认识有深刻的原因，每当参于黄昏后落向地平线快看不见的时候，恰是大地回春之际。“参去寒冬尽，农家备耕忙”，它成为夏族观象授时的重要依据。公元前 2400 年左右，大火在春天傍晚黑时出现于东方地平线上。其光荧荧，好似东方远处的一团火焰。它之所以引起人们的注意，不单是因为它亮，它就像是特意来点燃人们盼望播种的希望之火。

文中“观象授时”的含义是：

- A.观天象以安排时间 B.观天象以从事农耕
C.观天象以确定季节 D.观天象以传授知识

58.大袋鼠是一种奇特的动物，它们平时在原野、灌丛和森林地带活动，靠吃草为生，它们过群居生活，但没有固定的集群，常因寻找食物而汇集成一个较大的群体。老鹰、蟒蛇和人们都要捕捉袋鼠，然而对袋鼠最大的危害莫过于干旱，幼小的袋鼠会死亡，母大袋鼠会停止孕育。

下面说法正确的是：

- A. 有的大袋鼠会单独行动
- B. 大袋鼠常聚集在一起寻找水和食物
- C. 威胁大袋鼠最严重的是人们的捕捉
- D. 遭到干旱，袋鼠都会死亡

59. 说起社会公正，最多人的答案是要机会平等。说起机会平等，人们脑海浮现的，往往是竞技场上的起跑线。只要大家站在同一起跑线，竞争就是公平的，因此最后跑出来的结果无论是什么，那也是公正的。问题是：到底要满足什么条件，我们才能站在相同的起跑线？更进一步，当我们用起跑线这一比喻来思考正义问题时，背后有着怎样的道德想象？

这段文字的主要观点是：

- A. 机会平等的概念，不能只停留在同一起跑线上
- B. 只有站在相同的起跑线上才能实现机会平等
- C. 机会平等是努力确保起点公平，容许竞争者自由发挥
- D. 所谓起点公平是要抹平竞争者的所有差别

60. 近年来，社会热点事件频频占据了我们的视线，从毒奶粉事件到染色馒头事件，无疑给广大民众带来了巨大的心理负担和精神困惑；曾经轰动全国的抢盐事件，更是对社会正常秩序的一种冲击。很明显，这些社会热点事件，给人们的社会生活带来了破坏性甚至是毁灭性的影响。但是最为严重的影响，莫过于这些社会热点事件所产生的负面效应的不断扩散，并由此引发的公众的困惑和不安。

根据这段文字，可以看出作者的意图是：

- A. 呼吁对社会热点事件负面效应的扩散进行有效抑制
- B. 批判社会热点事件的负面效应混淆了公众的视听
- C. 揭示社会热点事件的负面效应不断扩散的实质
- D. 提醒人们在复杂多变的环境中提高甄别社会热点事件的能力

61 学术著作的翻译质量问题，在很大程度上关涉到我们是否有可能读懂或评价的问题，因为只有在译著具有令人满意的学术水准的前提下，我们才可能展开有效的阅读和评价。

作者通过这段文字意在强调：

- A. 让人读懂是学术译著的首要目标
- B. 学术译著应该具有高的学术水准
- C. 达到一定水准的译者才可进行翻译
- D. 学术著作的翻译应该确保翻译质量

62. 威慑其实是让假想敌的内心产生恐惧，从而阻止他做出对自己不利的事情来。但是这种恐惧的根源有两个：第一，对手要认可威慑方所具备的实力，很难想象一个弱小的国家能够威慑强大的美国；第二，对手还要相信威慑方动用实力来达到目的的决心，换句话说，对手要确认威慑方的意

图。如果对手认为威慑方并不具备真实的进攻性意图，那么简单的展示实力或者言语威胁就毫无意义了。

根据这段文字，以下说法正确的是：

- A.威慑方通过让潜在对手相信自己的实力以达到威慑的目的
- B.威慑的目的在于阻止强大对手的攻击并使其产生惧怕
- C.威慑方真实明确的意图更能给对手带来恐惧
- D.威慑的成功与否关键在于被威慑方的认知

63.繁荣与自由是现代社会追求的两个具有终极导向的一体化目标。这一目标能够为人们带来经济上的富足和精神上的自在，正因如此，人类不会因为风险的存在而放弃对繁荣的追求，也不会为了秩序化的安排而舍弃对自由理想。_____，人类的这种追求必将在不断涌现的风险中颠簸前行。

填入划横线部分最恰当的一句是：

- A.但繁荣与自由基础上的生存和竞争带有与生俱来的不确定性
- B.缺乏自由的繁荣是另一种形式的贫困
- C.经济与权益双重最大化的追求形成了人类社会繁荣与自由的发展目标
- D.然而当今社会所面临的一系列风险可能正是规范自由发展的结果

64.下列各句中表意明确、没有歧义的一句是：

- A.一踏进办公室，就看见几个公司的负责人正焦急地等着他。
- B.我第一次见他的时候，也不过八九岁，如今已长大成人。
- C.世界上的许多大学，正利用信息技术频繁地开展学术交流和国际合作。
- D.他高兴地告诉我，学校发来通知，要他九月十日前去学校报到。

65.下面语句中，表达有歧义的一句是：

- A.对于能做的事不去做，是一种懒散的作风。
- B.我哥哥和姐姐的同学来医院探望我。
- C.他曾经密切地关注这件事。
- D.油漆里的颜料经过特殊处理。

66.20 世纪 60 年代以前，世界各国普遍注重防洪的工程措施，即通过修建大堤、水库等水利设施对洪水进行控制。但在 60 年代以后，世界各国在防洪规划中越来越重视非工程措施的运用，即通过洪水预警、灾情评估、洪灾保险等多种手段，结合各种工程措施，从而尽可能减少洪灾对人类经济、环境和社会发展的影响。

这段文字主要谈的是：

- A.世界各国防洪理念的转变
- B.世界各国控制洪水的新途径
- C.单纯重视防洪工程不能有效控制洪水

D.非工程措施逐渐成为防洪规划的主导

67.从哲学的角度看,不可否认原始儒家思想中存在很多人性的光辉,而从历史的角度看,儒家思想世俗化之后建构的传统文化,最明显的缺陷就在于没有提供一种包含起码的人道主义精神的底线伦理。当我们在批判传统文化和创造新文化的时候,应该在人道主义的框架内建立一种起码的道德底线。

这段文字的主旨是:

- A.提倡建立底线文明
- B.批判儒家思想的缺陷
- C.批判地继承儒家思想
- D.应创造什么样的新文化

68.近年来,我国教育界普遍倡导激励教育、赏识教育,强调家长、教师都要以平等的姿态和孩子对话,尊重孩子,给孩子创造一种宽松自由的氛围。但是,激励和赏识是否意味着不能批评?王老师说认为当今的学生不缺少沟通,不缺少激励,少的恰恰是管教。

这段文字谈论的是:

- A.我们要给孩子宽松的氛圍
- B.我们应该倡导激励教育
- C.我们需要改进教育方法
- D.我们需要什么样的教育

69.每一种行为都来自一定的思想,但是,每一种思想却不一定导致一定的行动。古人云“三思而后行”,语言是思想的外在表现,不一定是行动的信号。人们越是充分运用语言工具自由地交流思想,越是能达于正确的认识以支配较为理智的行动。因此,镇压言论往往不是防止错误的行动,倒是防止了深思熟虑的行动。其结果必然是,假如压力有足够大,人们则消极被动;假如压力小了,人们就任意乱动。

上述文字想要表达的主要意思是:

- A.有思想就会产生行动
- B.限制言论会限制思想
- C.限制言论可以限制行动
- D.行动产生于思想

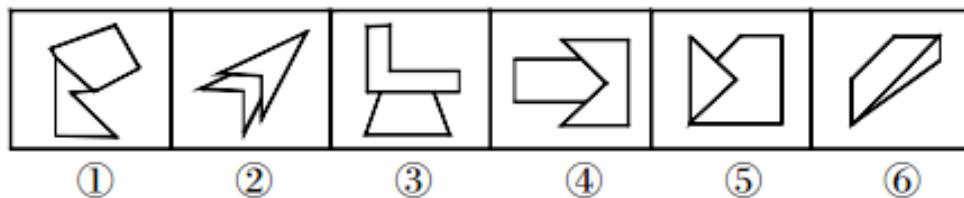
70.一些备受雾霾困扰的人们选择逃离,尤其是退休老人,那些环境宜居、生态良好的二三线城市成为他们的主要目的地。与此同时,也有少量年轻人选择移民海外。刚过30岁的大学教师李文就在今年初踏上了赴加拿大的移民之路。但不少市民和专家表示,逃离只是极少数人的选择,不能从根本上解决问题。面对雾霾,人人行动起来,积极参与治理,从自己做起、从身边的事做起才是大道。

这段话的主题是:

- A.雾霾的治理方法
- B.面对雾霾要逃离
- C.人们面对雾霾的不同态度
- D.治理雾霾需要人们积极行动

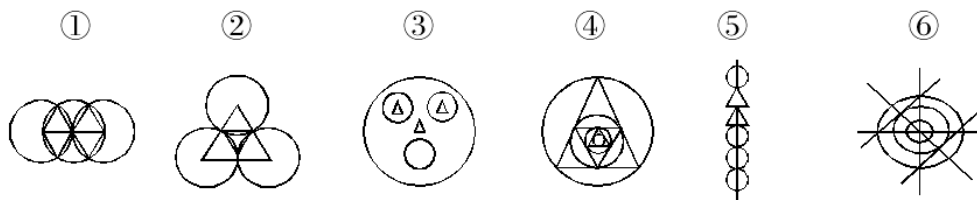
第四部分 判断推理

71.



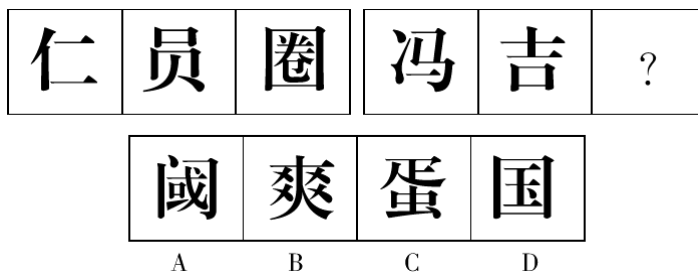
- A. ①②④, ③⑤⑥
B. ①②⑤, ③④⑥
C. ①③⑤, ②④⑥
D. ①③⑥, ②④⑤

72.

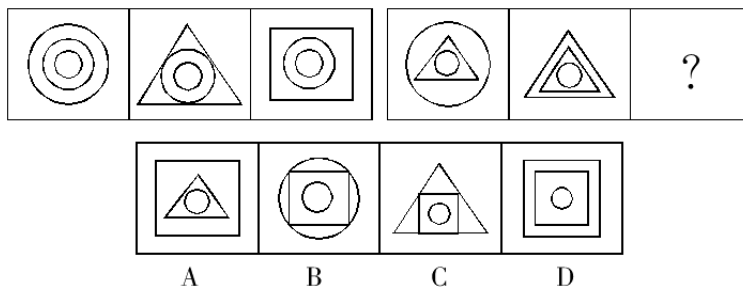


- A. ①③⑥, ②④⑤
B. ①③④, ②⑤⑥
C. ①②⑥, ③④⑤
D. ②③④, ①④⑥

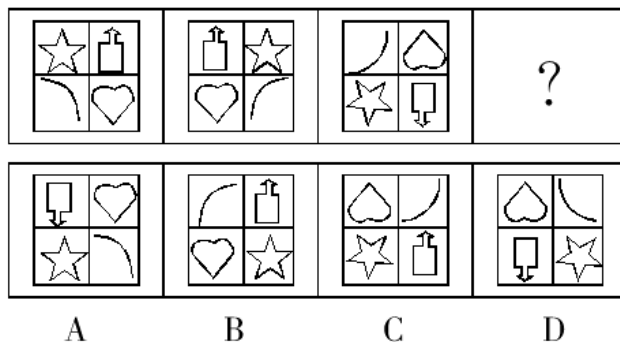
73.



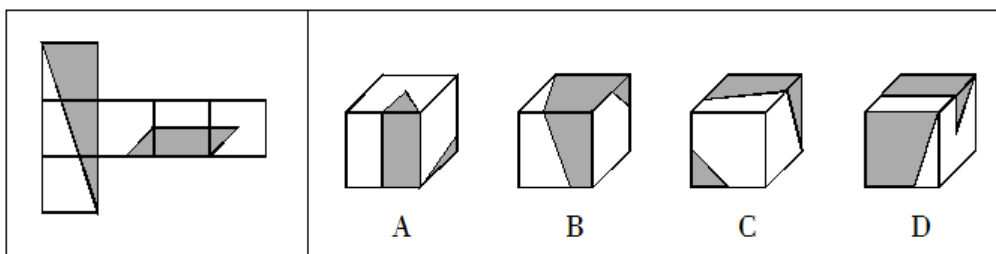
74.



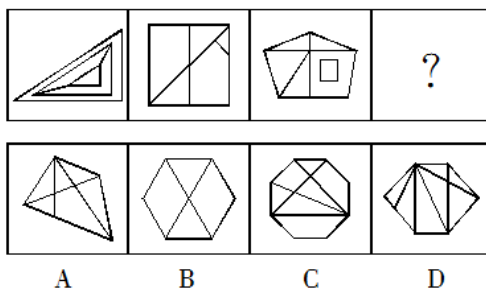
75.



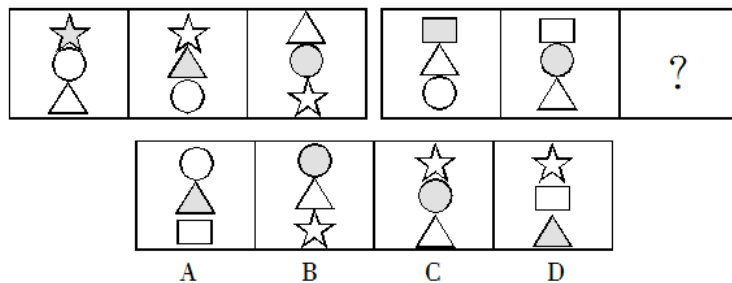
76. 左边给定的是纸盒的外表面，下列哪一项能由它折叠而成？



77. 从所给四个选项中，选择最合适的一个填入问号处，使之呈现一定的规律性：



78. 从所给四个选项中，选择最合适的一个填入问号处，使之呈现一定的规律性：



79. 反证法是先通过确定与原论题相矛盾的论题的虚假，根据排中律由假推真，从而间接确定论题真实性的证明方法。

根据上述定义，下列不属于反证法的是：

A. 风水先生惯说空，指南指北指西东，倘若真有龙虎地，何不当年葬乃翁

B.某甲有非法收入罪，如果没罪，那他就能说出自己所有收入的来源，而他说不出这些收入来源

C.古村还是有用的，如果没有用，就不会存到现在了

D.规划不能随心所欲，因为依法通过的规划本身就具有法的效力

80.行政合理性原则是指行政决定的内容要客观、适度，具有合理性，即合理地行使行政自由裁量权。

根据上述定义，下列行为符合这一原则的是：

A.某工商所因个体工商户李某曾犯故意伤害罪判处有期徒刑三年刚出狱，所以没收其未经有关部门检验而违法销售蛋糕所得的 300 元，又处以罚款 1500 元

B.某省大型国有企业因生产的某种产品有些瑕疵，致使消费者无法正常使用，该企业在召回瑕疵产品后，依然被省工商局吊销了营业执照

C.某林业主管部门因木材市场紧俏，价格上涨，遂决定一次性采伐本林场五分之二的林木，给林场带来了较高的经济效益

D.某市行政复议机关，对王某因不服行政处罚而提起的行政复议进行审查后，认为被复议机关的处罚决定虽然合法，但因王某初犯且情节轻微，将罚款一万元改为罚款五千元

81.定义：

(1) 感觉是人们的感官对多种不同能量的觉察，并转换成神经冲动。

(2) 知识就是对客体的如实区别或联系。

(3) 推理是运用一定的法则从已有知识得出新知识的思维活动。

典型例证：

(1) 竹竿浸入水中被水折成两段，出水后竹竿又恢复原状。

(2) 竹竿在水中并未被折断，而是由于光线的折射使人产生了错觉。

(3) 竹竿浸入水中被水折成两段，这是客观不同的缘故。

上述典型例证与定义存在对应关系的数目有：

A.0 个

B.1 个

C.2 个

D.3 个

82.起诉：是指公民、法人或其他组织认为自己的民事权益受到他人的侵犯或者与他人发生争议，以自己的名义，请求人民法院依法审理，确认民事权利义务关系，制裁对方的民事违法行为，保护自己的合法权益的一种诉讼行为。

根据上述定义，下列情况属于起诉的是：

A.某人因家中被盗而报告公安机关

B.某人因不服判决而向高级法院递交上诉状

C.某企业因对方不履行合同而将其告上法庭

D.被告因发现原告侵犯自己的权利而在诉讼过程中反诉原告

83.技术性听众：这类听众很努力地去听别人的话，他们重视字义、事实和统计数字，但在感受、同情和真正理解方面却做得很不够。

下列属于技术性听众的是：

A.在开会时，低着头看报纸、眯着眼瞌睡的听众

B.每次听领导讲话总是记录很多笔记，但在执行政策时往往根据自己的意图，与领导意图不一致的听众

C.感叹“听君一席话，胜读十年书”的听众

D.只听一些易理解的内容，避开艰难话题的听众

84.罗曼蒂克：浪漫

A.博客：网络日志

B.洗手间：厕所

C.一级棒：顶好

D.厚道：老实

85.过滤：纯净

A.绿化：植被

B.努力：成功

C.痛苦：悲伤

D.波浪：潮汐

86.肥沃：土地

A.保持：清醒

B.办事：谨慎

C.开朗：心情

D.天气：晴朗

87.武术：太极拳

A.游泳：跳水

B.田径：跨栏

C.击剑：射击

D.举重：柔道

88.感恩节：端午节

A.母亲节：妇女节

B.狂欢节：春节

C.清明节：元宵节

D.圣诞节：愚人节

89.在反映战国到秦朝这一时期的电影《英雄》和《刺秦》中，许多骑马打仗的镜头不符合历史的真实情况。今天看到的兵马俑，绝大多数战马是没有马鞍的，有马鞍的战马一律没有马镫。没有马镫，士兵在马背上就待不住，也使不上劲，所以当时的骑兵没法在马上打仗。

以下哪一个选项是上述论证所依赖的假设？

A.秦时的骑兵骑着马冲到敌人跟前，然后翻身下马与敌人打仗

B.秦时的陪葬品能够反映当时社会的真实情况

C.在唐代雕刻的昭陵六骏浮雕上，每匹骏马的身上都有马鞍和马镫

D.在历史上，马镫是一种可以彻底释放士兵战斗力的重要军事装备

90.我国著名的地质学家李四光，在对东北的地质结构进行了长期、深入的调查研究后发现，松辽平原的地质结构与中亚细亚极其相似，他推断，既然中亚细亚蕴藏大量的石油，那么松辽平原很可能也蕴藏着大量石油。后来大庆油田的开发证明了李四光的推断是正确的。

以下哪项与李四光的推理方式最为相似？

- A.他山之石，可以攻玉
- B.某乡镇领导在考察了荷兰等国的花卉市场后认为要大力发展规模经济，回来后组织全乡镇种大葱，结果导致大葱严重滞销
- C.每到炎热的夏季，许多商店腾出一大块地方卖羊毛衫、长袖衬衣、冬靴等冬令商品，进行反季节销售，结果都很有市场。小王受此启发，决定在冬季种植西瓜
- D.乌兹别克地区盛产长绒棉。新疆塔里木河流域与乌兹别克地区在日照情况、霜期长短、气温高低、降雨量等方面均相似，科研人员受其启发，将长绒棉移植到塔里木河流域，果然获得了成功

91.去年，有 6000 人死于醉酒，有 4000 人死于开车，但只有 500 人死于醉酒开车。因此，醉酒开车比单纯的醉酒或者单纯的开车更安全。

如果以下哪项陈述为真，将最有力地削弱上述论证？

- A.不能仅从死亡人数绝对数量的多少判断某种行为方式的安全性
 - B.醉酒导致意识模糊，醉酒开车大大增加了酿成交通事故的危险性
 - C.醉酒开车的死亡人数已分别包含在醉酒的死亡人数和开车的死亡人数之中
 - D.醉酒死人的概率不到 0.01%，开车死人的概率是 0.015%，醉酒开车死人的概率是 33%
- 92.圈养动物是比野生动物更有意思的研究对象。因此，研究人员从研究圈养动物中能够比从研究野生动物中学到更多的东西。

上面的论证依赖于下面哪一个假设？

- A.研究人员从他们不感兴趣的研究对象那里学到的东西较少
 - B.研究对象越有意思，从该研究对象那里学到的东西通常就越多
 - C.能够从研究对象那里学到的东西越多，从事该研究通常就越有意思
 - D.研究人员通常偏向于研究有意思的对象，而不是无意思的对象
- 93.有人认为，高考是很重要的考试，一年只有一次，应该让迟到考生进场考试。
- 如果以下各项为真，最能削弱上述观点的是：
- A.不让迟到考生进场，有可能错失选拔优秀人才的机会
 - B.高考是很重要的考试，但并不一定会决定考生的命运
 - C.美国的高考——SAT 考试，允许迟到的考生进场考试
 - D.遵守考场规则与考试的重要性，每年举行的次数无关
- 94.某公共服务部门发言人在接受记者采访时称，去年没有群众针对该部门的服务工作提起投诉，因此社会对于该部门去年的服务工作是满意的。

上述发言人的结论基于的假设是（ ）

- A.该部门的投诉渠道不畅通，投诉信箱只是摆设
- B.如果接到群众投诉，该部门会进行整改
- C.群众只要对该部门的服务不满意，就会提起投诉

D.上级对于该部门去年的服务工作十分满意

95.有一种俱乐部，里面的成员可以分成两类。第一类是老实人，永远说真话。第二类是骗子，永远说假话。某天俱乐部全体成员围着一张圆桌坐下，每个老实人的两旁都是骗子，每个骗子的两旁都是老实人。记者问俱乐部成员张三：俱乐部共有多少成员？张三回答：有45人。李四说：张三是老实人。

由此可以推断：

- A.李四是老实人
- B.张三是老实人
- C.李四是骗子
- D.由题干无法判断

96.太平洋某个岛上只有两个民族：高山族和苗族。他们每年都过同一个节日——端午节。但是，这一天，岛上所有高山族的人都只吃鸡蛋，岛上所有苗族的人都只吃粽子。还知道喀那尔什这一天吃了粽子。

根据上述信息，下面哪一个选项是正确的？

- A.喀那尔什是该岛上的苗族人
- B.喀那尔什是该岛上的高山族人
- C.喀那尔什不是该岛上的苗族人
- D.喀那尔什不是该岛上的高山族人

97.某单位人事制度规定：只有平时表现好，无迟到早退现象，年底才能够拿到考勤奖或年终奖。

以下哪项所反映的情况违反了该单位的人事制度规定？

- A.老吴在单位表现积极，全年没有迟到早退的现象，年底却没有拿到年终奖
- B.小李全年有三次迟到，都是堵车引起的，单位决定不给他发考勤奖
- C.老张平时表现突出，从不迟到早退，年底单位给他颁发了年终奖
- D.小王一次早退被领导发现，考勤奖没有了，可他还是拿到了年终奖

98.孔、庄、杨三人是某单位的处长、副处长和科长。可以确定的是：庄至今尚未去过长江村调研；杨虽未去过长江村，但是他就调研这件事曾与处长商量过；科长曾去长江村调研多次，写过专门的调查报告。

据此，可以推断担任处长、副处长和科长职务的人依次分别是：

- A.孔、杨、庄
- B.庄、杨、孔
- C.杨、庄、孔
- D.孔、庄、杨

99.一个旅行者要去火车站，早上从旅馆出发，到达一个十字路口。十字路口分别通向东南西北四个方向，四个方向上分别有饭店、旅馆、书店和火车站。书店在饭店的东北方，饭店在火车站的西北方。

该旅行者要去火车站，应当往哪个方向走？

- A.东
- B.南
- C.西
- D.北

100.今年联赛决赛的最后4支队伍是甲、乙、丙和丁。其中N与T分别为甲队和丁队的主教练。有人指出,甲队此前每次夺该项桂冠的赛季都曾战胜过T教练所在的球队;过去4年间,丁队在N教练的指导下,每隔一年都能夺得该项桂冠,而去年丁队没有夺冠。

以下哪项如果为真,与上述表述相矛盾?

- A.T教练可能执教过丁队
- B.N教练去年曾执教丁队
- C.甲队曾4次夺得该项冠军
- D.丁队前年未获得该项冠军

第五部分 资料分析

一、根据下列资料,回答101-105题。

2009年世界天然气贸易量达8768.5亿立方米,较2005年增长7.7%。其中管道天然气贸易量为6337.7亿立方米;液化天然气贸易量为2427.7亿立方米。

俄罗斯是世界最大的管道天然气出口国,占管道天然气总出口量的27.8%,出口量为1764.8亿立方米,较2008年增长14.3%;俄罗斯天然气全部出口到欧洲国家,主要有德国(315亿立方米)、意大利(208亿立方米)、土耳其(172.6亿立方米)等。加拿大是世界第二大管道天然气出口国,出口量达922.4亿立方米,较2008年下降10.6%,全部出口到美国。

美国、德国、意大利、法国、俄罗斯是世界五大管道天然气进口国,2009年进口量占世界总量的50.0%。美国是世界最大的管道天然气进口国,进口量达1044.1亿立方米,较2008年下降10.9%。

液化天然气主要出口国为卡塔尔、马来西亚、印度尼西亚等。日本为世界最大的液化天然气进口国,进口量达859亿立方米,其次为韩国、西班牙和法国,进口量分别占世界总量的14.1%、11.1%和5.4%。

2009年世界天然气价格普遍都有不同程度的下降。在亚洲,日本进口液化气的平均价为9.06美元/百万英热单位(MBtu),较2008年减少3.49美元/MBtu;美国天然气的进口价由上年的8.85美元/MBtu下降至3.89美元/MBtu。

101.2009年世界液化天然气贸易量占天然气贸易总量的比重为()

- A.17.5%
- B.22.2%
- C.27.7%
- D.38.3%

102.2009年俄罗斯管道天然气出口较上年增长了多少亿立方米?

- A.110
- B.221
- C.332
- D.443

103.韩国2009年液化天然气进口量大约是法国的多少倍?

- A.2.1
- B.2.3
- C.2.6
- D.3

104.2009年美国天然气的均价比上年下降了()

- A.62%
- B.56%
- C.50%
- D.44%

105.以下能从资料中推出的是()

- A.2009年加拿大是美国最大的管道天然气进口来源地

- B.2009 年日本进口液化气的平均价比上年下降了 6 成以上
C.2009 年世界天然气贸易比 2005 年增长 1000 多亿立方米
D.出口土耳其的管道天然气占 2009 年俄罗斯对欧洲管道天然气总出口量的 1 成以上

二、根据下列资料，回答 106-110 题。

2009 年全国海洋生产总值 31964 亿元，比上年增长 8.6%。全国海洋生产总值占国内生产总值的 9.53%，占沿海地区生产总值的 15.5%。海洋第一产业增加值 1879 亿元，海洋第二产业增加值 15062 亿元，海洋第三产业增加值 15023 亿元。

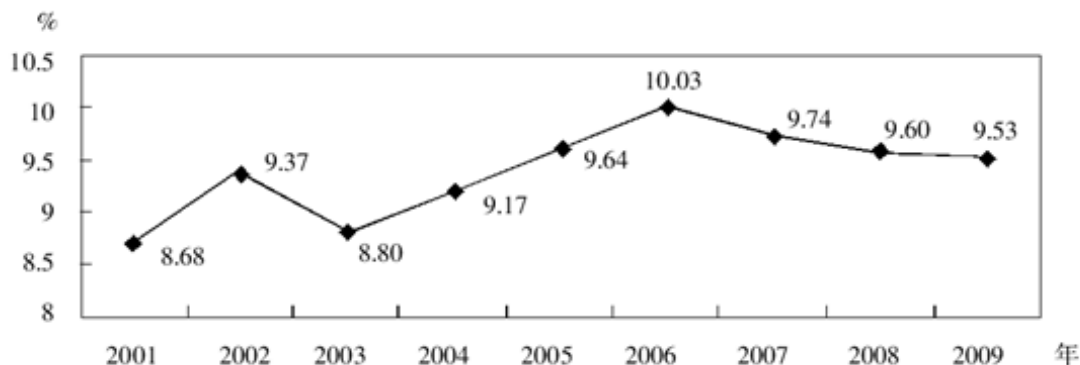


图 2001~2009 年全国海洋生产总值占国内生产总值比重

表 2009 年全国主要海洋产业增加值

行业	增加值(亿元)	同比增速(%)
主要海洋产业总体	12989	8.7
其中:海洋交通运输业	3748	-2.4
海洋工程建筑业	658	31.9
滨海旅游业	3725	12.3
海洋渔业	2509	12.4
海洋油气业	748	8.5
海洋矿业	21	7.5
海洋盐业	55	0.7
海洋化工业	611	26.0
海洋生物医药业	59	12.6
海洋电力业	12	25.2
海水利用业	15	18.6
海洋船舶工业	828	15.8

106.2009 年我国海洋经济三次产业增加值的比重约为 ()

- A.5.9 : 47.3 : 46.8
B.5.9 : 47.1 : 47.0
C.7.2 : 47.3 : 45.5
D.7.2 : 47.0 : 45.8

107.下列哪一年全国海洋生产总值占国内生产总值的比重同比增幅最大?

- A.2002 年
B.2004 年
C.2006 年
D.2008 年

108.将 2009 年各海洋产业增加值从大到小排列, 以下正确的是 ()

- A.海洋渔业 海水利用业 海洋矿业
B.滨海旅游业 海洋化工业 海洋电力业
C.海洋交通运输业 海洋盐业 海洋船舶工业
D.海洋工程建筑业 海洋油气业 海洋生物医药业

109.2009 年我国有几个主要海洋产业增加值的同比增幅高于主要海洋产业总体水平?

- A.6
B.7
C.8
D.9

110.下列说法正确的是 ()

- A.2008 年海洋生物医药业增加值高于海洋盐业
B.2009 年增加值排名第三的海洋产业其同比增速也排名第三
C.2008 年全国海洋生产总值占国内生产总值的比重高于 2005 年
D.2009 年主要海洋产业中只有海洋交通运输业是增加值同比下降的

三、根据下列资料, 回答 111-115 题。

2011 年末我国大陆总人口为 134735 万人, 比上年末增加 644 万人, 其中城镇人口为 69079 万人, 占总人口比重首次超过 50%, 达到 51.3%。全年出生人口 1604 万人, 出生率为 11.93‰, 自然增长率为 4.79‰。

2011 年末我国大陆共有医疗卫生机构 953432 个, 其中医院 21638 个, 乡镇卫生院 37374 个, 社区卫生服务中心(站)32812 个, 诊所(卫生所、医务室)177754 个, 村卫生室 659596 个。卫生技术人员 620 万人, 其中执业医师和执业助理医师 251 万人, 注册护士 224 万人。医疗卫生机构床位 515 万张, 其中医院 368 万张, 乡镇卫生院 103 万张。

111.2011 年, 我国大陆死亡人口约为 () 万人。

- A.960
B.980
C.1000
D.1200

112.2011 年, 我国大陆平均约 () 人便拥有一位执业医师或者执业助理医师。

- A.400
B.500
C.600
D.1000

113.2011 年, 我国大陆下列医疗机构中, 数量最多的是 ()

- A.医院
B.乡镇卫生院

C.诊所(卫生所、医务室)

D.村卫生室

114.如果与 2010 年相比,2011 年我国大陆城镇人口约增长 5%,则 2010 年我国大陆非城镇人口约为()万人。

A.67000

B.68500

C.70000

D.71500

115.下列说法正确的是()

A.2011 年我国大陆出生人口 1604 万人,同比增长 4.79%

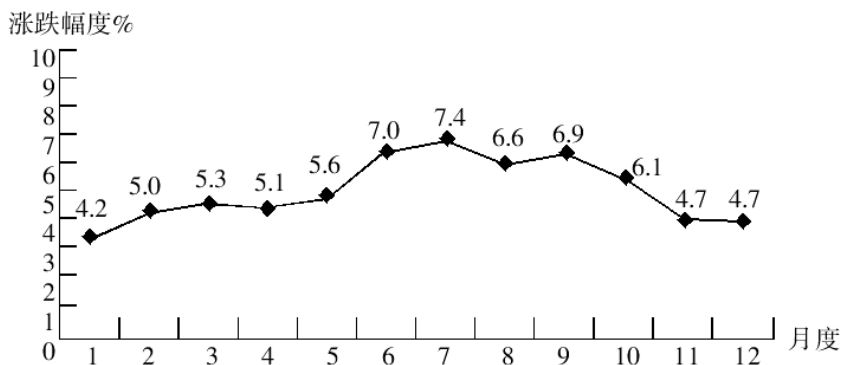
B.从出生人口就可以判断,2011 年我国医疗机构的床位资源非常紧张

C.2011 年我国大陆卫生技术人员中,群体人数最小的不可能是注册护士

D.2011 年,我国大陆医院数量约占医疗卫生机构数量的 20%

四、根据下列资料,回答 116-120 题。

由于气候、流通环节等原因,2011 年河北省食品价格上涨 12.2%,烟酒价格上涨 3.3%,衣着价格上涨 1.2%,家庭设备用品及维修服务价格上涨 1.8%,医疗保健及个人用品价格上涨 3.0%,交通和通信价格上涨 0.2%。



资料来源:河北省2011年国民经济和社会发展统计公报

图 2011 年河北省居民消费价格涨跌幅度(月度同比)

116.2011 年河北省全年居民消费价格比上年上涨多少?

A.5.7%

B.5.9%

C.6.0%

D.6.1%

117.2011 年河北省居民消费食品价格总指数是多少?

A.103.3

B.105.7

C.112.2

D.116.1

118.2011 年河北省居民消费价格上涨自几月份开始回落?回落几个百分点?

A.7 0.8

B.8 2.7

C.7 0.8%

D.8 2.7%

119.河北省统计局 2012 年 3 月 22 日公布,2012 年前两个月,全省物价涨幅连续回落,居民消费价格同比上涨 4.2%,涨幅同比回落了多少个百分点?

A.0

B.0.4

C.0.8

D.5

120.对 2011 年河北省居民消费价格变动情况的概括,最恰当的一项是

- A.河北省各类价格指数呈现明显上涨态势,仍然处于高位运行
- B.经过多方努力,各类价格指数继续呈现明显的高位回落态势
- C.省委、省政府积极应对复杂形势,我省经济保持平稳较快发展
- D.党中央、国务院采取有效措施,物价过快上涨势头得到扭转

第六部分 能源战略

121.国家电网公司的战略目标是()

- A 奉献清洁能源,建设和谐社会
- B 建设世界一流电网、建设国际一流企业
- C 建设“一强三优”的现代公司。
- D 服务党和国家工作大局、服务电力客户、服务发电企业、服务经济社会发展。

122.提供 24 小时电力故障报修服务,供电抢修人员到达现场的时间一般不超过:城区范围 45 分钟;农村地区 90 分钟;特殊边远地区 2 小时。

- A.30 分钟、80 分钟、3 小时
- B.45 分钟、90 分钟、2 小时
- C.30 分钟、80 分钟、3 小时
- D.45 分钟、90 分钟、2 小时

123.关于智能电网,国际上没有统一的定义,但发展的总体目标和要求是一致的,就是要解决能源安全与环保问题,应对气候变化,保证安全、可靠、优质、高效的电力供应,满足经济社会发展对电力的多样化需求。()是智能电网的基本特征

- A. 信息化、自动化、互动化
- B. 信息化、智能化、高效化
- C. 网络化、信息化、互动化
- D. 网络化、自动化、互动化

124.与世界资源丰富国家相比,我国主要化石能源虽然总量较为丰富,但储产比较低,资源的可持续供应能力不足。我国能源人均拥有量仅为世界平均水平的()

- A. 40%
- B. 45%
- C. 50%
- D. 55%

125.()向家坝—上海特高压直流输电示范工程于 2010 年 7 月 8 日实现双极全压送电投运。

- A. $\pm 600\text{kV}$ B. 750kV
C. $\pm 800\text{kV}$ D. 1000kV

126. 从国际电压等级的发展历史可以看出，电网选用新的高一级电压，应不小于下一级电压的（ ）倍。在 500kV 电压等级之上引入 1000kV ，输电能力是 500kV 的（ ）倍，具体技术经济合理性。

- A. 2; 3-4 B. 2; 4-5
C. 3; 4-5 D. 3; 5-6

127. 坚强智能电网的体系架构包括（ ）四个部分。

- A. 电网基础体系；技术支撑体系；发电侧业务体系；标准规范体系
B. 电网基础体系；技术支撑体系；智能应用体系；标准评估体系
C. 电网基础体系；复合通信支撑体系；智能应用体系；实验认证体系
D. 电网基础体系；技术支撑体系；智能应用体系；标准规范体系

128. 我国能源资源与能源需求呈逆向分布，（ ）以上的煤炭、水能和风能资源分布在西部、北部地区，而（ ）以上的能源需求集中在东部、中部地区。

- A. 90%；85%
B. 80%；75%
C. 70%；65%
D. 60%；55%

129. （ ）在 2014 年 7 月提出了“构建全球能源互联网，服务人类社会可持续发展”的观点。

- A. 刘振亚 B. 李克强 C. 刘延东 D. 汪洋

130. 后碳时代指的是以（ ）为特征的时代

- A. 新技术和互联网 B. 新潮流和新技术
C. 新资源和互联网 D. 新能源和互联网

第六部分 企业文化

131. 10 月 23 日，国网辽宁省电力有限公司调度运行实现安全生产（ ）天。

- A. 2000 B. 5000 C. 8000 D. 10000

132. 国家电网公司连续 10 年获评国务院国资委业绩考核 A 级企业，《财富》世界企业 500 强保持第（ ）位，是全球最大的公用事业企业。

- A. 5 B. 8 C. 7 D. 9

133. 国家电网公司的总经理是（ ）

- A. 李小琳 B. 舒印彪 C. 杨庆 D. 刘振亚

134. () 的企业宗旨体现了公司政治责任、经济责任和社会责任的统一，是公司一切工作的出发点和落脚点。

- A. “三个代表”
- B. “三个有利于”
- C. “四个全局”
- D. “四个服务”

135. 国家电网公司的愿景是 ()

- A. 服务发电企业
- B. 造福人民
- C. 建设世界一流电网建设国际一流企业
- D. 服务经济社会发展

136. “你用电我用心 心电相通 中国梦国网情情牵梦萦。”9月28日，国家电网公司员工 () 当选“国企敬业好员工”，这是活动现场诵读的反映陈牧云先进事迹的楹联。

- A. 李小琳
- B. 王新
- C. 陈牧云
- D. 杨庆

137. 国家新闻出版广电总局日前公布了2015年中国“百强报刊”入选名单，国家电网公司主管的《国家电网报》第 () 次入选“百强报刊”。

- A. 一
- B. 三
- C. 四
- D. 二

138. 国家能源局新能源和可再生能源司新能源处处长董秀芬13日说，“十三五”我国将持续壮大太阳能光伏发电市场规模，初步规划“十三五”光伏装机规模目标将达 () 亿千瓦左右。

- A. 1.5
- B. 1
- C. 2
- D. 3.5

139. () 的企业使命是公司生存发展的根本意义，是公司事业的战略定位，是公司工作的深刻内涵和价值体现。

- A. 建设电网坚强、资产优良、服务优质、业绩优秀（简称“一强三优”）的现代公司
- B. “努力超越、追求卓越”
- C. “服务党和国家工作大局”
- D. “奉献清洁能源，建设和谐社会”

140. 近日，国网冀北电力有限公司负责建设运营的国家风光储输示范电站传来喜讯，国内陆上单机容量最大风电机组—— () 兆瓦永磁直驱型风电机组成功并网运行，将为冬奥会绿色清洁用电提供有力支撑。

- A. 5
- B. 10
- C. 8
- D. 15